


فصل هفتم

قسمتی از یک واحد



قسمتی از یک واحد



عدد ۱۲

۱ دسته ی ده تایی و ۲ قسمت از ۱۰ قسمت

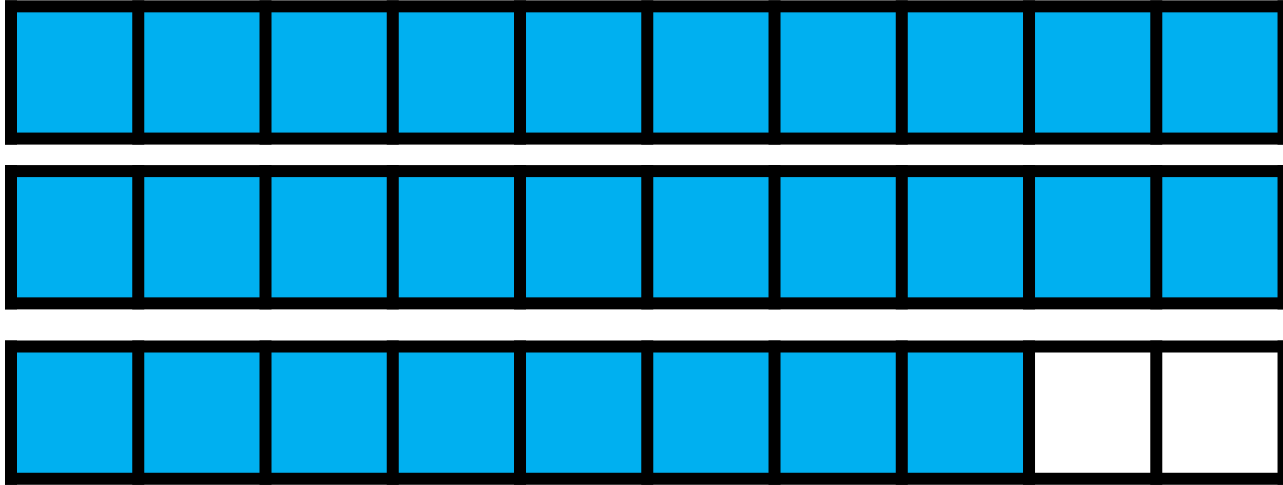
قسمتی از یک واحد



عدد ۱۵

۱ دسته ی ده تایی و ۵ قسمت از ۱۰ قسمت

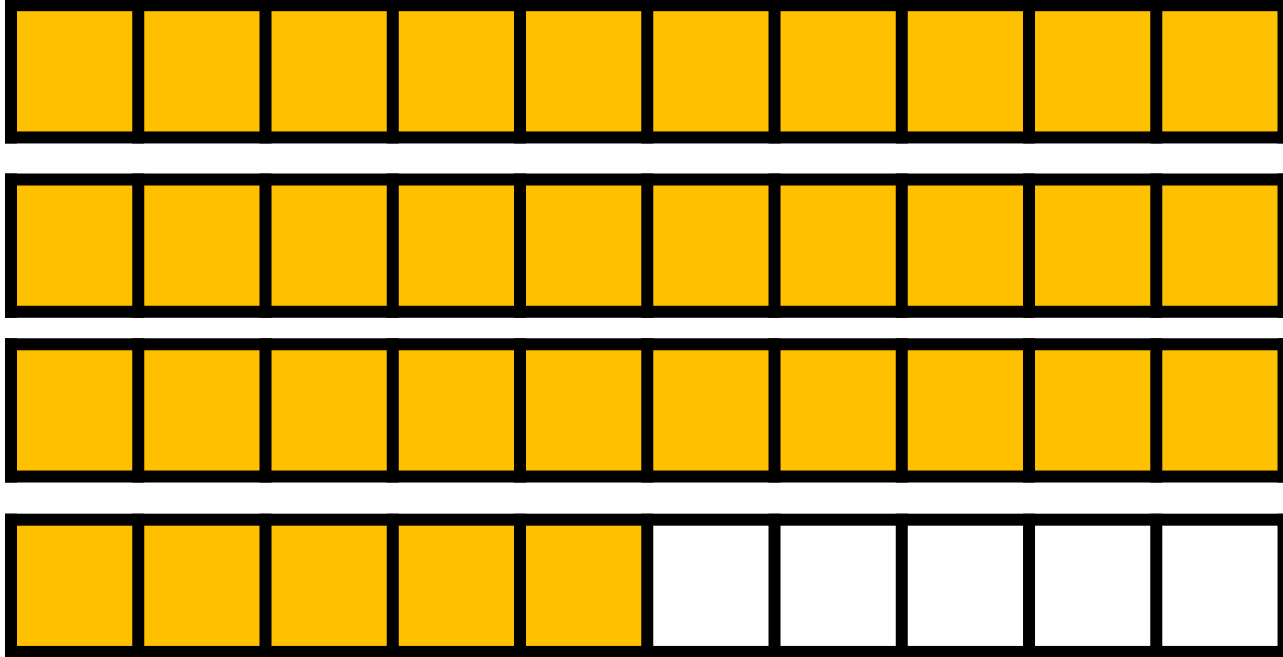
قسمتی از یک واحد



عدد ۲۸

۲ دسته ی ده تایی و ۸ قسمت از ۱۰ قسمت

قسمتی از یک واحد



عدد ۳۶

۳ دسته ی ده تایی و ۶ قسمت از ۱۰ قسمت

۱- هر یکی را می توان به صورت یک قسمت از ۱۰ قسمت نیز نشان داد.





عدد ۱۳ را می توان به صورت ۱ ده تایی و ۳ قسمت از ۱۰ قسمت بیان کرد.

عدد ۲۷ را می توان به صورت ۲ ده تایی و ۷ قسمت از ۱۰ قسمت بیان کرد.

عدد ۴۵ را می توان به صورت ۴ ده تایی و ۵ قسمت از ۱۰ قسمت بیان کرد.

عدد ۹ را می توان به صورت ۰ ده تایی و ۹ قسمت از ۱۰ قسمت بیان کرد.

۲- در شکل‌های زیر کدام شکل به قسمت‌های مساوی تقسیم نشده است؟ **مثلاً**



الگویابی کن



۱- شکل‌های زیر را با خط‌کش اندازه بگیرید و اندازه‌ی هر کدام را با کامل کردن جمله‌ها بیان کنید.

اندازه‌ی خط ۶ سانتی‌متر و ۷ قسمت از ۱۰ قسمت کوچک است.



اندازه‌ی طول سنجاق ۴ سانتی‌متر و ۲ قسمت از ۱۰ قسمت کوچک است.



اندازه‌ی طول خودکار ۷ سانتی‌متر و ۱ قسمت از ۱۰ قسمت کوچک است.

۲- کدام شکل‌ها به قسمت‌های مساوی تقسیم شده‌اند؟ زیر آن‌ها تعداد قسمت‌های مساوی را بنویسید.




قسمت مساوی ۴



قسمت مساوی ۳



قسمت مساوی ۳



قسمت مساوی ۱۶

۳- به تصویر صفحه‌ی اوّل این فصل نگاه کنید.

پرچم جمهوری اسلامی ایران به چند قسمت مساوی تقسیم شده است؟ ۳

چند قسمت آن به رنگ سبز است؟ ۱

چند قسمت آن به رنگ قرمز است؟ ۱



۴- مانند نمونه جمله‌ها را با نوشتن عدد مناسب کامل کنید و نشان دهید چه بخشی از شکل رنگ شده است.



۴ قسمت از ۸ قسمت



۶ قسمت از ۱۰ قسمت



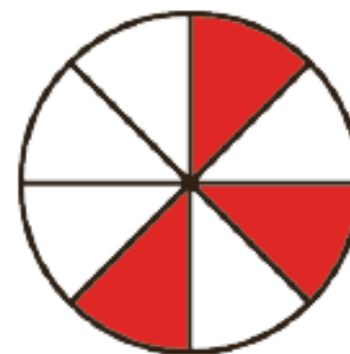
۳ قسمت از ۴ قسمت



۲ قسمت از ۸ قسمت




۵ قسمت از ۱۵ قسمت

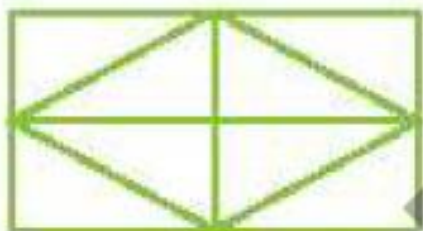


۴ قسمت از ۸ قسمت

فصل هفتم




کدام شکل‌ها به قسمت‌های مساوی تقسیم شده‌اند؟ آنها را زرد کن.



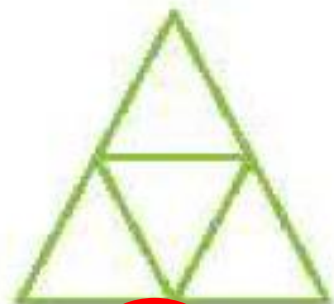
(ت)



(پ)



(ب)



(الف)

جایهای خالی را کامل کن.

فقط یک قسمت در سمت راست هر شکل را رنگ و جمله‌ی کنار آن را کامل کن.



الف: ۱ قسمت از ۲ قسمت مساوی رنگ شده است.



ب: ۱ قسمت از ۳ قسمت مساوی رنگ شده است.



پ: ۱ قسمت از ۴ قسمت مساوی رنگ شده است.

جاهای خالی را کامل کن.

- الف: ۴۸ یعنی ۴ دهتایی و ۸ قسمت از ۱ قسمت مساوی.
- ب: ۵۲ یعنی ۵ دهتایی و ۲ قسمت از ۱ قسمت مساوی.
- پ: ۷۴ یعنی ۷ دهتایی و ۴ قسمت از ۱ قسمت مساوی.