

نام و نام خانوادگی

تاریخ

موضوع:

هدف:

۱ - جاهای خالی را با اعداد مناسب کامل کن .

۵۶ یعنی ده تایی و قسمت از ۱۰ قسمت مساوی

۸ یعنی ده تایی و قسمت از ۱۰ قسمت مساوی

۳سانتی متر و ۴ میلی متر یعنیسانتی متر وقسمت از ۱۰ قسمت مساوی کوچک .

۲ - با توجه به مستطیل رو به رو به سوالات زیر پاسخ بده .

آبی	آبی	سبز	سبز	سفید	آبی
آبی	سفید	آبی	سبز	قرمز	سبز

الف (مستطیل بزرگ به چند قسمت مساوی تقسیم شده است ؟

ب (.....قسمت ازقسمت سفید رنگ هستند .

ج (۴ قسمت از به رنگ هستند .


د (..... قسمت از قسمت قرمز رنگ نیستند .

هـ (..... قسمت از قسمت ، آبی و سفید هستند .

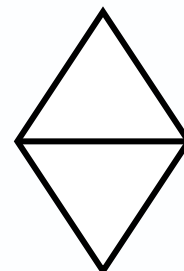
۳ - هر کدام از جملات زیر ، چه عددی را نشان می دهد ؟

۴ قسمت از ۱۰ قسمت کوچک و ۳ ده تایی
 ۶ ده تایی و ۱ قسمت از ۱۰ قسمت کوچک

۴ - هر یک از شکل های زیر را به قسمت های مساوی گفته شده تقسیم کن . (حتما این کار را با خط کش انجام بده)



به ۸ قسمت مساوی



به ۴ قسمت مساوی



موضوع:

تاریخ:

نام و نام خانوادگی:

هدف:

۵- پدر علی زمین کشاورزی خود را به ۵ قسمت مساوی تقسیم کرد. او در یکی از قسمت ها جو و در ۲ قسمت دیگر گندم کاشته است.



چند قسمت از این زمین کاشته شده است ؟

..... قسمت از قسمت کاشته شده است .


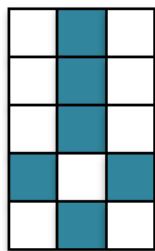
..... قسمت از قسمت کاشته نشده است .

۶- با دقت جمله ها را بخوان و شکل مناسب را رسم کن .

یک قسمت از ۵ قسمت مساوی رنگ نشده است .

۳ قسمت از ۶ قسمت مساوی رنگ شده است .

۷- در مورد هر شکل ، جاهای خالی را کامل کن .



..... قسمت از قسمت رنگ نشده است .

..... قسمت از رنگ شده است

بازخورد:

Blank lines for feedback.

