




موضوع:

تاریخ

نام و نام خانوادگی

هدف:

۲- کدام شکل‌ها به قسمت‌های مساوی تقسیم شده‌اند؟ زیر آن‌ها تعداد قسمت‌های مساوی را بنویسید.




۴ قسمت مساوی



۳ قسمت مساوی



قسمت مساوی




۱۰ قسمت مساوی

۳- به تصویر صفحه‌ی اول این فصل نگاه کنید.

پرچم جمهوری اسلامی ایران به چند قسمت مساوی تقسیم شده است؟ **۳ قسمت**

چند قسمت آن به رنگ سبز است؟ **۱ قسمت**

چند قسمت آن به رنگ قرمز است؟ **۱ قسمت**





موضوع:

تاریخ:

نام و نام خانوادگی:

هدف:

۴- مانند نمونه جمله‌ها را با نوشتن عدد مناسب کامل کنید و نشان دهید چه بخشی از شکل رنگ شده است.



۴ قسمت از ۸ قسمت



۶ قسمت از ۱۰ قسمت



۳ قسمت از ۴ قسمت




۲ قسمت از ۸ قسمت



۵ قسمت از ۱۵ قسمت



۳ قسمت از ۸ قسمت





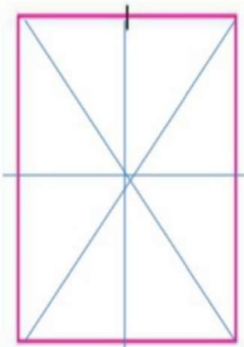
موضوع:

تاریخ:

نام و نام خانوادگی:

هدف:

چند قسمت آن رنگ شده است؟



۲- وسط ۳ ضلع دیگر مربع را بدون استفاده از خط کش پیدا کنید.

حالا با خط کش وسط ضلع های رو به رو را به یکدیگر وصل کنید.

شکل مربع به چند قسمت مساوی تقسیم شده است؟ **۴ قسمت**

گوشه های مربع را به هم وصل کنید. حالا شکل به چند قسمت مساوی تقسیم شده است؟ **۸ قسمت**

۳ قسمت از مربع را رنگ کنید و جمله ی زیر را کامل کنید.

۳ قسمت از ۸ قسمت های مساوی رنگ شده است.

در ریاضی، ۳ قسمت از ۸ قسمت مساوی را یک کسر می گویند.

به همین ترتیب ۲ قسمت از ۷ قسمت مساوی نیز یک کسر است.

آیا ۱ قسمت از ۹ قسمت مساوی هم یک کسر است؟ **بله**

