



موضوع: ریاضی

تاریخ

نام و نام خانوادگی

هدف: تمرین جمع تکنیکی

۱- دختران خوبم با کشیدن شکل و حل کردن جمع ها به روش تکنیکی به تمرین های زیر پاسخ دهید.


$$\begin{array}{r} + 56 \\ 37 \\ \hline \end{array}$$

$$\begin{array}{r} + 48 \\ 19 \\ \hline \end{array}$$

$$\begin{array}{r} + 27 \\ 24 \\ \hline \end{array}$$

$$\begin{array}{r} + 79 \\ 12 \\ \hline \end{array}$$





موضوع: ریاضی

تاریخ

نام و نام خانوادگی

هدف: مرور آموخته ها

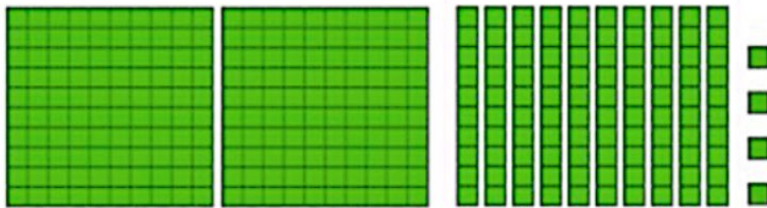
۱- جاهای خالی را کامل کنید.

۱۷۲ م می شود.....س و .....م

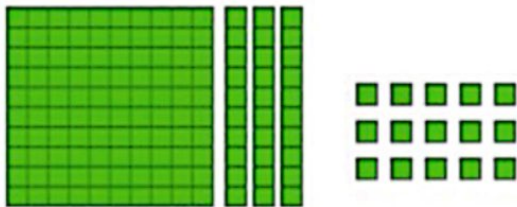
۹ س و ۵ م می شود..... م

۲- ساعت های زیر را بکشید.  
ساعت ۹ و نیم  
یک ربع مانده به ساعت ۵

۳- تا جایی که می توانید ابتدا دسته های ده تایی یا صدتایی درست کنید، سپس عددی را که هر شکل نشان می دهد، بنویسید.



یکان	دهگان	صدگان



یکان	دهگان	صدگان

