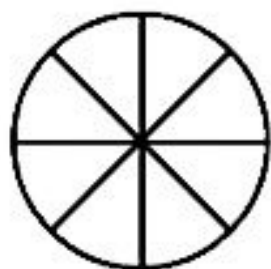


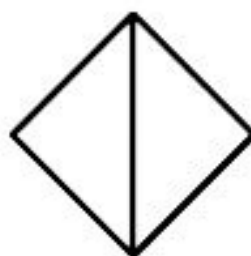
– کدام یک از شکل های زیر به قسمت های مساوی تقسیم شده اند؟ تعداد قسمت های مساوی آن ها را بنویسید.




8 قسمت مساوی



3 قسمت مساوی



2 قسمت مساوی




4 قسمت مساوی

– چه بخشی از هر شکل رنگ شده است؟




3 قسمت از 4 قسمت



4 قسمت از 8 قسمت




1 قسمت از 2 قسمت



2 قسمت از 4 قسمت



1 قسمت از 6 قسمت



3 قسمت از 8 قسمت

- جاهای خالی را کامل کنید.



..... **1** قسمت از ..... **2** قسمت مساوی رنگ شده است.

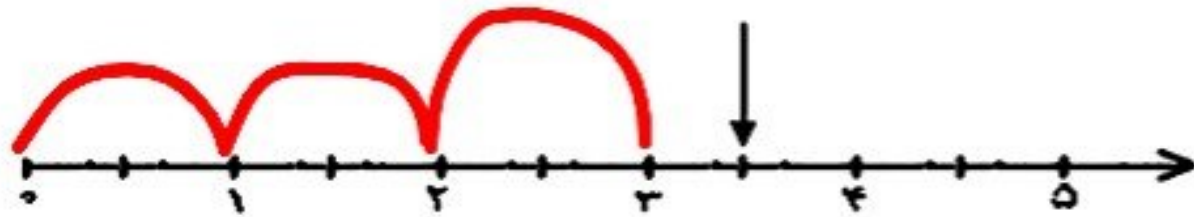


..... **2** قسمت از ..... **4** قسمت مساوی رنگ شده است.

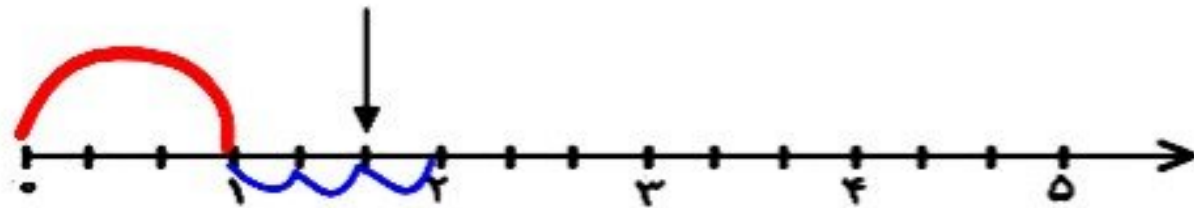


..... **3** قسمت از ..... **4** قسمت مساوی رنگ شده است.

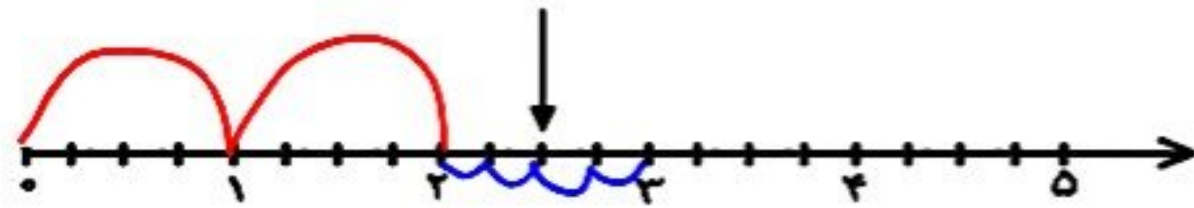
– جاهای خالی را با توجه به محور کامل کنید.



نقطه ی مشخص شده ..... واحد و ..... قسمت از ..... قسمت مساوی را نشان می دهد.

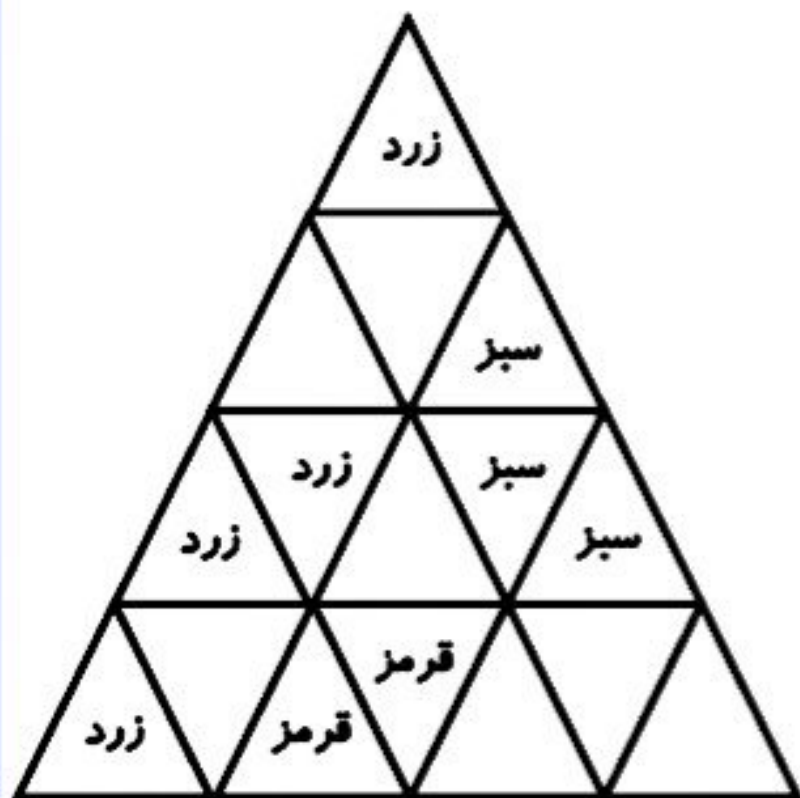


نقطه ی مشخص شده ..... واحد و ..... قسمت از ..... قسمت مساوی را نشان می دهد.



نقطه ی مشخص شده ..... واحد و ..... قسمت از ..... قسمت مساوی را نشان می دهد.

– جاهای خالی را کامل کنید.



..... 3 قسمت از ..... 16 قسمت مساوی رنگ سبز است.

..... 4 قسمت از ..... 16 قسمت مساوی رنگ زرد است.

..... 2 قسمت از ..... 16 قسمت مساوی رنگ قرمز است.

..... 7 قسمت از ..... 16 قسمت مساوی رنگ نشده است.