




۱- یک کاغذ مربع شکل بردارید.
آن را از وسط تا کنید. کاغذ چند قسمت شد؟ **۲ قسمت**
یک قسمت را رنگ کنید.
کاغذ را دوباره از وسط تا کنید. یک بار دیگر هم
آن را از وسط تا کنید.

حالا کاغذ به چند قسمت مساوی تقسیم شده است؟ **۸ قسمت**
چند قسمت آن رنگ شده است؟
۴ قسمت از ۸ قسمت مساوی

۲- وسط ۳ ضلع دیگر مربع را بدون استفاده از خط کش پیدا کنید.

حالا با خط کش وسط ضلع‌های رو به رو را به یکدیگر وصل کنید.


شکل مربع به چند قسمت مساوی تقسیم شده است؟ **۴ قسمت**



گوشه‌های مربع را به هم وصل کنید. حالا شکل به چند قسمت مساوی تقسیم شده است؟ **۸ قسمت**

۳ قسمت از مربع را رنگ کنید و جمله‌ی زیر را کامل کنید.

۳ قسمت از **۸** قسمت‌های مساوی رنگ شده است.



در ریاضی، ۳ قسمت از ۸ قسمت مساوی را یک کسر می‌گویند.

به همین ترتیب ۲ قسمت از ۷ قسمت مساوی نیز یک کسر است.

آیا ۱ قسمت از ۹ قسمت مساوی هم یک کسر است؟


یک نوار کاغذی باریک را با تا کردن به دو نیم تقسیم کنید.

سپس هر کدام را دوباره به دو نیم تقسیم کنید. نوار کاغذی حالا به چندتکه تقسیم شده است؟ **۴ قسمت**

دوباره هر قسمت را به دو نیمه تقسیم کنید. نوار کاغذی به چند قسمت تقسیم شده است؟ **۸ قسمت**

۳ تا از قسمت‌های کوچک را رنگ کنید. چند تا رنگ نشده، باقی مانده است؟

۵ قسمت



تكليف

تمرین ۳ صفحه ی ۱۵۵ کتاب کار ریاضی

حاصل تفریق‌های زیر را بنویس. (به روش تکنیکی)

۲

$$\begin{array}{r} 491 \\ -227 \\ \hline \end{array}$$

$$\begin{array}{r} 564 \\ -178 \\ \hline \end{array}$$

$$\begin{array}{r} 600 \\ -319 \\ \hline \end{array}$$

$$\begin{array}{r} 351 \\ -106 \\ \hline \end{array}$$