




موضوع:

تاریخ

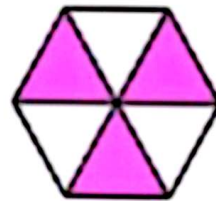
نام و نام خانوادگی

هدف:


جاهای خالی را کامل کن.



۱ قسمت از قسمت مساوی
رنگ شده است



۳ قسمت از قسمت مساوی
رنگ شده است



۳ قسمت از قسمت مساوی
رنگ شده است



۵ قسمت از قسمت مساوی
رنگ شده است





موضوع:

تاریخ:

نام و نام خانوادگی:


هدف:

از کل قسمت های مساوی هر شکل چند قسمت رنگ شده است؟



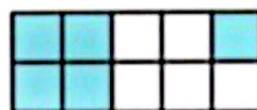
۴ قسمت از ۶

قسمت مساوی



۱ قسمت از ۴

قسمت مساوی

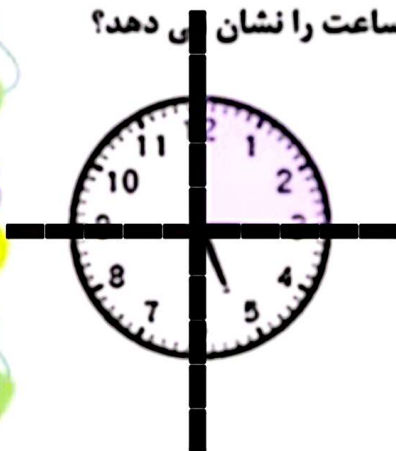


۵ قسمت از ۱۰

قسمت مساوی


ساعت چند است؟ ۵ و ۱۵ دقیقه

قسمت رنگ شده ی ساعت چه کسری از صفحه ی ساعت را نشان می دهد؟



۱ قسمت از ۴

قسمت مساوی




موضوع:

تاریخ:

نام و نام خانوادگی:

هدف:

کامل کن.



الف) اندازه‌ی طول مازیک از 6 سانتی متر بیشتر و از 7 سانتی متر کمتر است.

ب) اندازه‌ی طول مازیک 6 سانتی متر و 2 میلی متر است.

پ) اندازه‌ی مازیک 6 سانتی متر و 2 قسمت از 10 قسمت مساوی است.



موضوع:

تاریخ:

نام و نام خانوادگی:

هدف:

کدام یک از شکل های زیر ۴ قسمت از ۸ قسمت رنگ شده است؟

