



موضوع:

تاریخ

نام و نام خانوادگی

هدف:


۱- جاهای خالی را کامل کنید.




کار در کلاس




۱ قسمت از ۲ قسمت مساوی رنگ شده است



۳ قسمت از ۴ قسمت مساوی رنگ شده است



۱ قسمت از ۳ قسمت مساوی رنگ شده است






موضوع:

تاریخ



نام و نام خانوادگی

هدف:




۲- جمله ها را کامل کنید.

اندازه ی خط ۲ سانتی متر و ۴ قسمت از ۱۰ قسمت مساوی است.



اندازه ی طول پاک کن ۳ سانتی متر و ۸ قسمت از ۱۰ قسمت مساوی است.





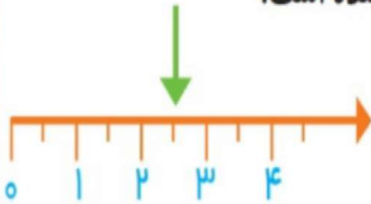
موضوع:

تاریخ:

نام و نام خانوادگی:

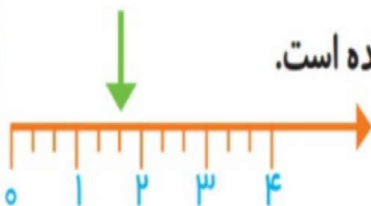
هدف:

۳- در این محور هر واحد محور به ۲ قسمت مساوی تقسیم شده است.




نقطه‌ی مشخص شده ۲ واحد و ۱ قسمت از ۲ قسمت مساوی را نشان می‌دهد.

۴- در این محور هر واحد به ۳ قسمت مساوی تقسیم شده است.



نقطه‌ی مشخص شده ۱ واحد و ۲ قسمت از ۳ قسمت مساوی را نشان می‌دهد.





موضوع:

تاریخ

نام و نام خانوادگی

هدف:



۱ قسمت از ۴ قسمت مساوی
رنگ شده است




۱ قسمت از ۴ قسمت مساوی
رنگ شده است



تمرین



۲ قسمت از ۳ قسمت مساوی
رنگ شده است



۴ قسمت از ۸ قسمت مساوی
رنگ شده است




۲ قسمت از ۴ قسمت مساوی
رنگ شده است

۲- با توجه به پرچم جمهوری اسلامی ایران جمله‌ها را کامل کنید.



۱ قسمت از ۳ قسمت مساوی پرچم سبز است.

۱ قسمت از ۳ قسمت مساوی پرچم قرمز است.





موضوع:

تاریخ

نام و نام خانوادگی

هدف:

۳- عدد ۲۷ در شکل زیر نشان داده شده است.



۲۷ یعنی ۲ ده تایی و ۷ قسمت از ۱۰ قسمت مساوی. به همین ترتیب جاهای خالی را برای عددهای دیگر کامل کنید.

۴۹ یعنی ۴ ده تایی و ۹ قسمت از ۱۰ قسمت مساوی.

۷۴ یعنی ۷ ده تایی و ۴ قسمت از ۱۰ قسمت مساوی.

