
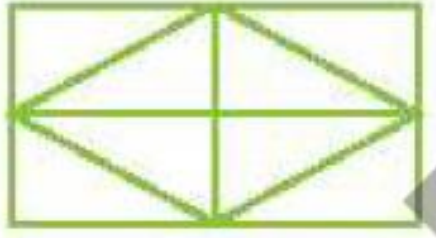


فصل هفتم



کدام شکل‌ها به قسمت‌های مساوی تقسیم شده‌اند؟ آنها را زرد کن.



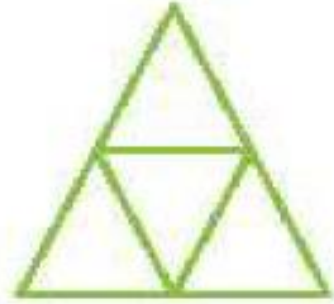
(ت)



(پ)

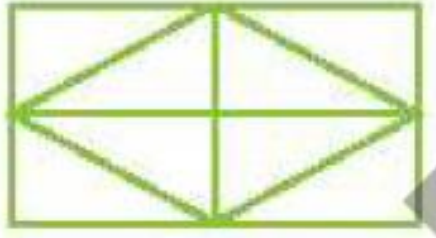


(ب)



(الف)


کدام شکل‌ها به قسمت‌های مساوی تقسیم شده‌اند؟ آنها را زرد کن.



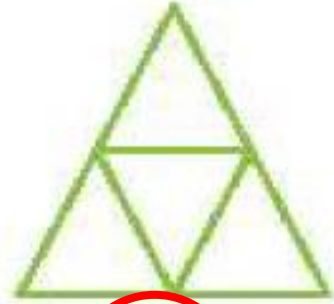
(ت)



(پ)



(ب)



(الف)

فقط یک قسمت در سمت راست هر شکل را رنگ و جمله‌ی کنار آن را کامل کن.

--	--

الف: قسمت از قسمت مساوی رنگ شده است.

--	--	--

ب: قسمت از قسمت مساوی رنگ شده است.

--	--	--	--

پ: قسمت از قسمت مساوی رنگ شده است.

جایهای خالی را کامل کن.

فقط یک قسمت در سمت راست هر شکل را رنگ و جمله‌ی کنار آن را کامل کن.



الف: ۱ قسمت از ۲ قسمت مساوی رنگ شده است.



ب: ۱ قسمت از ۳ قسمت مساوی رنگ شده است.



پ: ۱ قسمت از ۴ قسمت مساوی رنگ شده است.

جاهای خالی را کامل کن.

الف: ۴۸ یعنی دهتایی و قسمت از ۱ قسمت مساوی.

ب: ۵۲ یعنی دهتایی و قسمت از ۱ قسمت مساوی.

پ: ۷۴ یعنی دهتایی و قسمت از ۱ قسمت مساوی.

جاهای خالی را کامل کن.

- الف: ۴۸ یعنی ۴ دهتایی و ۸ قسمت از ۱۰ قسمت مساوی.
- ب: ۵۲ یعنی ۵ دهتایی و ۲ قسمت از ۱۰ قسمت مساوی.
- پ: ۷۴ یعنی ۷ دهتایی و ۴ قسمت از ۱۰ قسمت مساوی.

۴


اندازه‌ی خط زیر را با توجه به شکل بنویس.

اندازه‌ی خط سانتی‌متر و قسمت از ۱۰ قسمت مساوی است.



۵

الگوی زیر را ادامه بده.

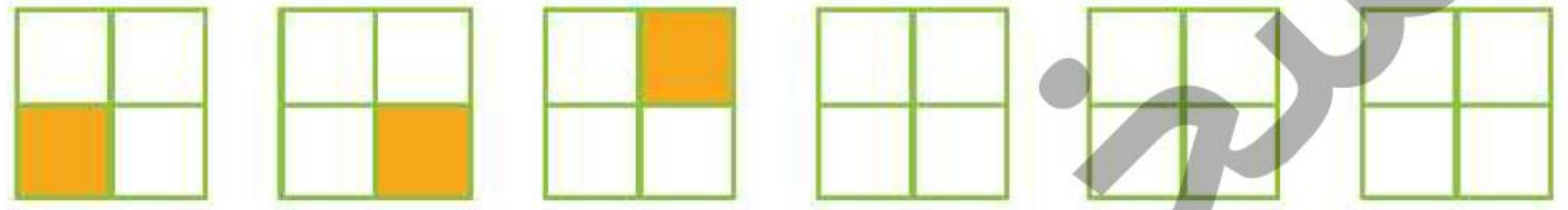


۴ اندازه‌ی خط زیر را با توجه به شکل بنویس.

اندازه‌ی خط سانتی‌متر و قسمت از ۱۰ قسمت مساوی است.



۵ الگوی زیر را ادامه بده.



۴

اندازه‌ی خط زیر را با توجه به شکل بنویس.

اندازه‌ی خط سانتی‌متر و قسمت از ۱۰ قسمت مساوی است.


۳

۳



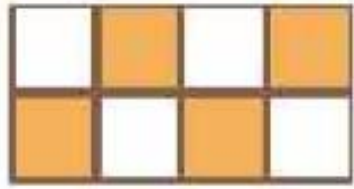
۵

الگوی زیر را ادامه بده.



هر عبارت را به شکل مرتبط با آن وصل کن.

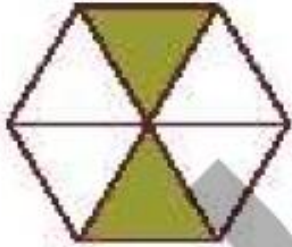
۱



۲ قسمت از ۶ قسمت شکل رنگ شده است.

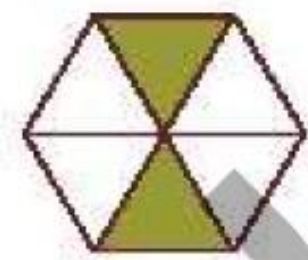



۴ قسمت از ۸ قسمت شکل رنگ شده است.



۷ قسمت از ۱۰ قسمت شکل رنگ شده است.

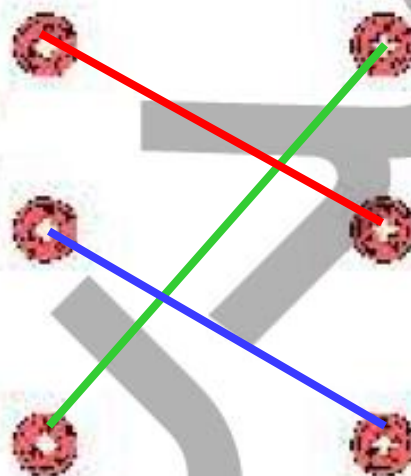
هر عبارت را به شکل مرتبط با آن وصل کن.



۲ قسمت از ۶ قسمت شکل رنگ شده است.

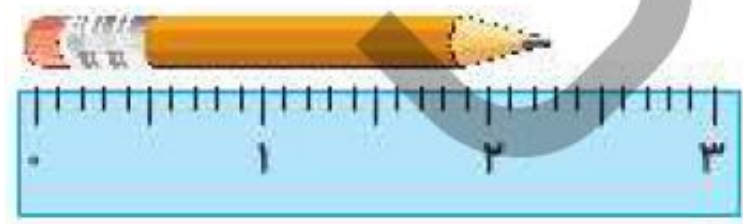
۴ قسمت از ۸ قسمت شکل رنگ شده است.

۷ قسمت از ۱۰ قسمت شکل رنگ شده است.



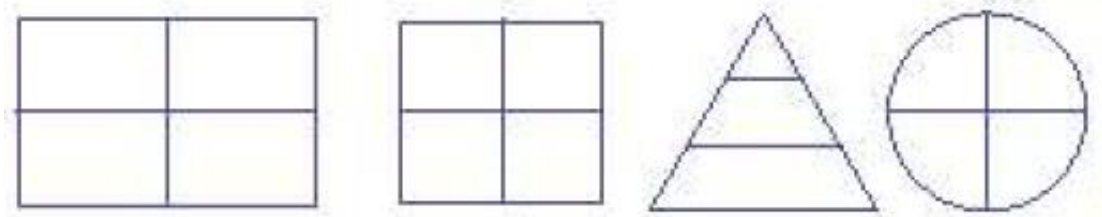
درستی و نادرستی هر عبارت را مشخص کن.

الف: اندازه‌ی طول مداد از ۳ سانتی‌متر بیش‌تر و از ۴ سانتی‌متر کم‌تر است.





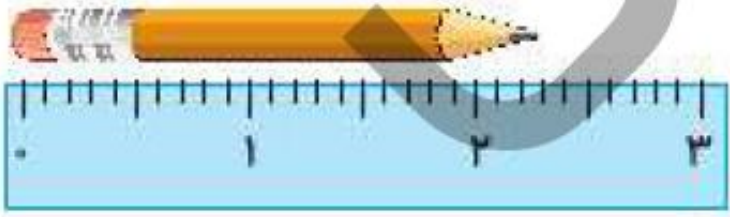
ب: اندازه‌ی طول یک مورچه ۷ میلی‌متر است یعنی از یک سانتی‌متر کم‌تر است.



پ: همه‌ی شکل‌های زیر به قسمت‌های مساوی تقسیم شده‌اند.





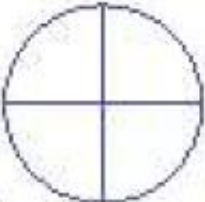
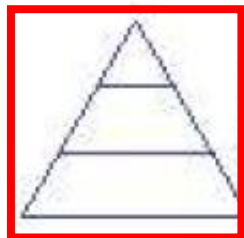
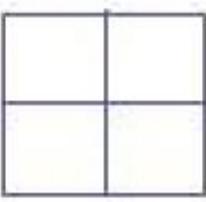
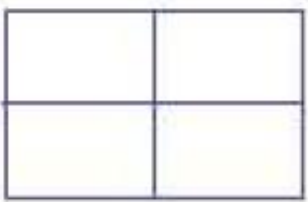
درستی  و نادرستی  هر عبارت را مشخص کن.

الف: اندازه‌ی طول مداد از ۳ سانتی‌متر بیشتر تر و از ۴ سانتی‌متر کم‌تر است.  



ب: اندازه‌ی طول یک مورچه ۷ میلی‌متر است یعنی از یک سانتی‌متر کم‌تر است.  

پ: همه‌ی شکل‌های زیر به قسمت‌های مساوی تقسیم شده‌اند.  



به تعداد عدد نوشته شده کنار هر شکل از آن رنگ کن، سپس کسر مقدار رنگ شده از هر شکل را بنویس.

۷ تا

الف: قسمت از ۱۰ قسمت مساوی رنگ شده است.




۹ تا

ب: قسمت از ۱۰ قسمت مساوی رنگ شده است.



۳۴ تا


پ: ده‌تایی و قسمت از قسمت مساوی رنگ شده است.



بند


به تعداد عدد نوشته شده کنار هر شکل از آن رنگ کن، سپس کسر مقدار رنگ شده از هر شکل را بنویس.

۷ تا



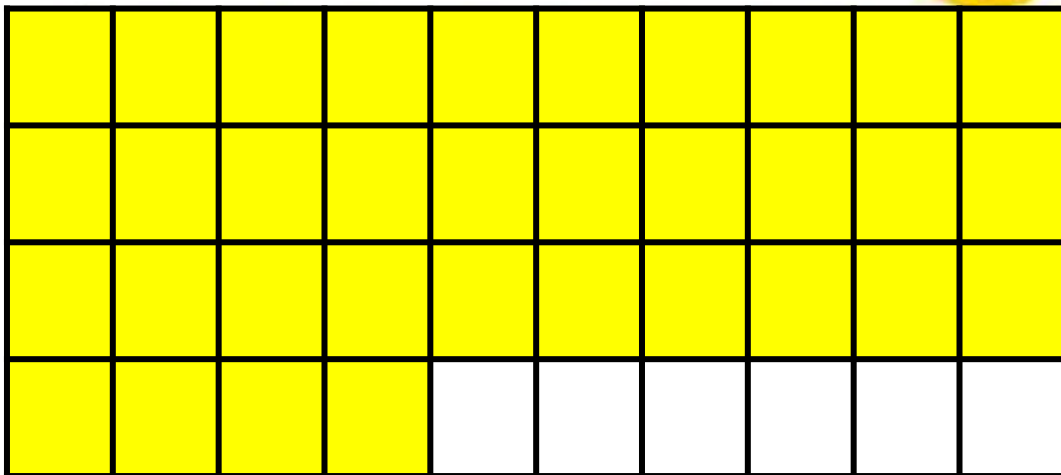
الف: قسمت از ۱۰ قسمت مساوی رنگ شده است.

۹ تا



ب: قسمت از ۱۰ قسمت مساوی رنگ شده است.

۳۴ تا




پ: ده‌تایی و قسمت از قسمت مساوی رنگ شده است.

۳ ده‌تایی و ۴ قسمت از ۱۰ قسمت مساوی رنگ شده است.

۴


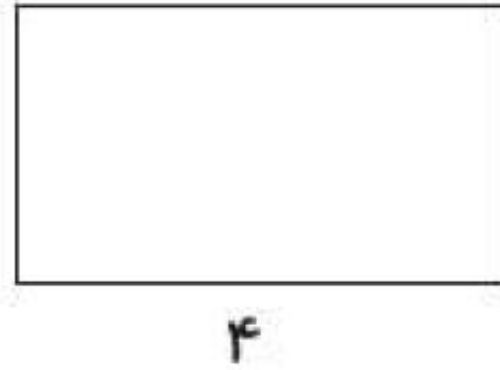
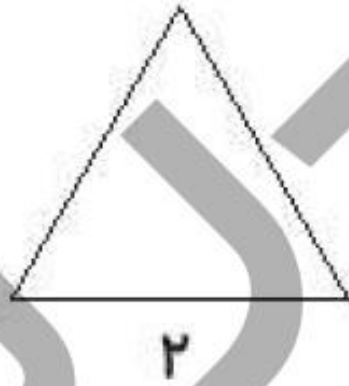
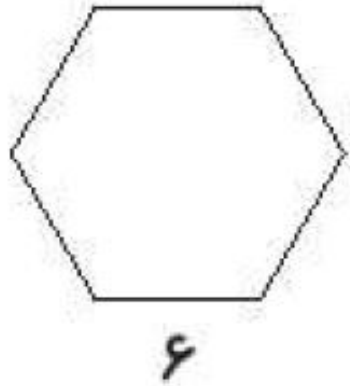
با توجه به شکل جاهای خالی را کامل کن.

اندازهی خط سانتی‌متر و قسمت از ۱۰ قسمت مساوی است.



۵


با توجه به عددی که زیر هر شکل نوشته شده، شکل‌ها را به قسمت‌های مساوی تقسیم کن.



۴


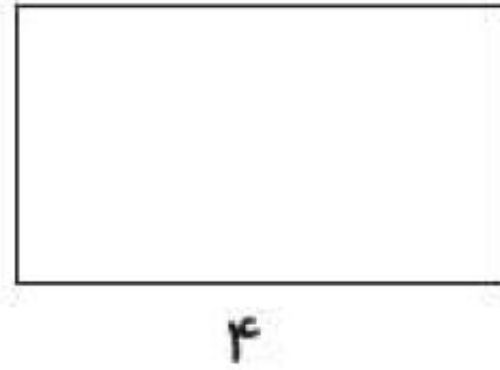
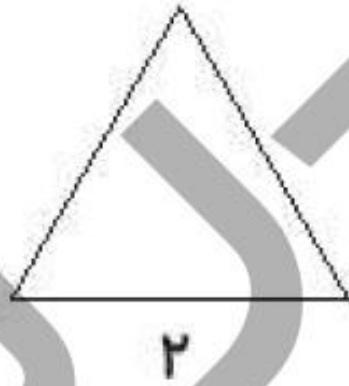
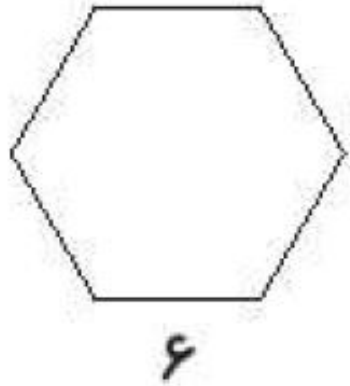
با توجه به شکل جاهای خالی را کامل کن.

اندازه‌ی خط سانتی‌متر و قسمت از ۱۰ قسمت مساوی است.



۵


با توجه به عددی که زیر هر شکل نوشته شده، شکل‌ها را به قسمت‌های مساوی تقسیم کن.



۴

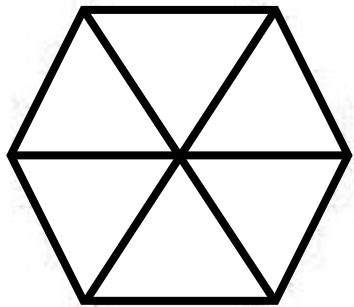
با توجه به شکل جاهای خالی را کامل کن.

اندازهی خط سانتی‌متر و قسمت از ۱۰ قسمت مساوی است.

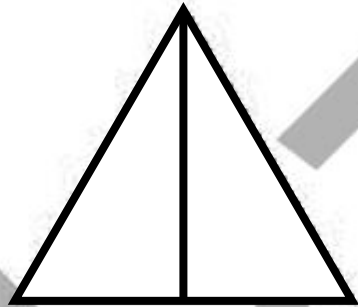


۵

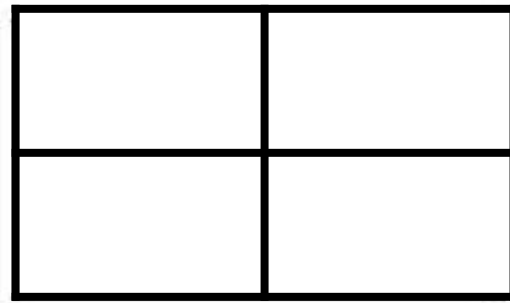
با توجه به عددی که زیر هر شکل نوشته شده، شکل‌ها را به قسمت‌های مساوی تقسیم کن.



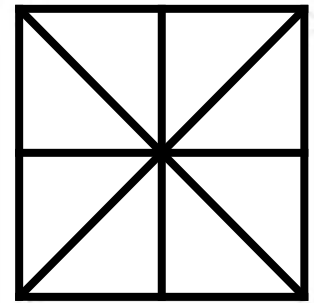
۶



۲




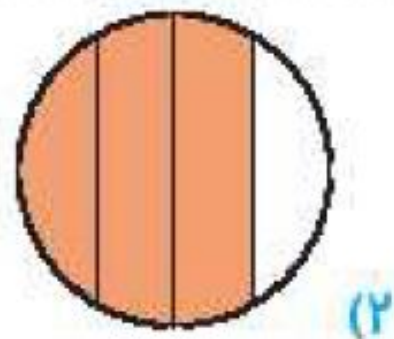
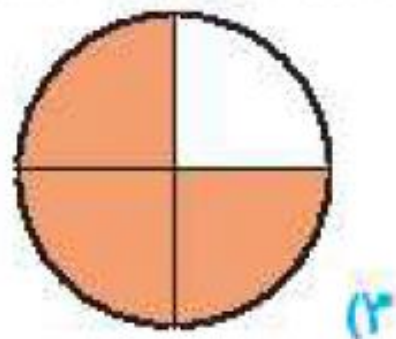
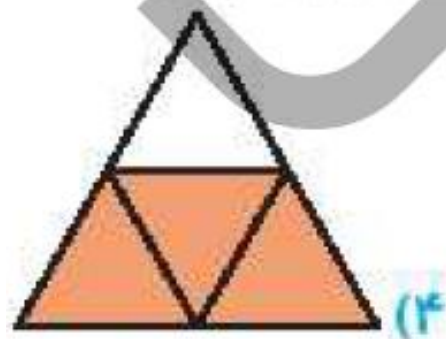
۴



۸

با توجه به سوالات داده شده، گزینه‌ی صحیح را انتخاب کن.

الف: کدام یک از شکل‌های زیر $\frac{2}{4}$ قسمت مساوی را نشان نمی‌دهد؟ دور آن خط بکش.



ب: $\frac{4}{8}$ یعنی ده‌تایی و قسمت از $\frac{1}{10}$ قسمت مساوی.

(۴) ۸ ده‌تایی و ۴

(۳) ۴ ده‌تایی و ۸

(۲) ۴ ده‌تایی و ۹

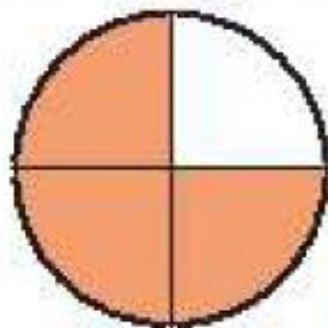
(۱) ۴ ده‌تایی و ۷

با توجه به سوالات داده شده، گزینه‌ی صحیح را انتخاب کن.

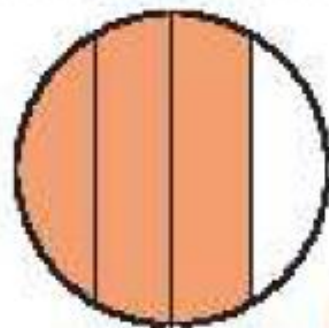
الف: کدام یک از شکل‌های زیر $\frac{3}{4}$ قسمت مساوی را نشان نمی‌دهد؟ دور آن خط بکش.



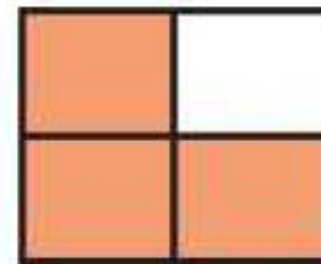
(۴)



(۳)



(۲)



(۱)

ب: ۴۸ یعنی ده‌تایی و قسمت از ۱۰ قسمت مساوی.

(۴) ۸ ده‌تایی و ۴

(۳) ۴ ده‌تایی و ۸

(۲) ۴ ده‌تایی و ۹

(۱) ۴ ده‌تایی و ۷

پ: در یک جعبه ۷ مداد رنگی آبی، ۲ مداد رنگی زرد، ۴ مداد رنگی قرمز و ۳ مداد رنگی سبز وجود دارد. کدام جمله زیر درست نیست؟


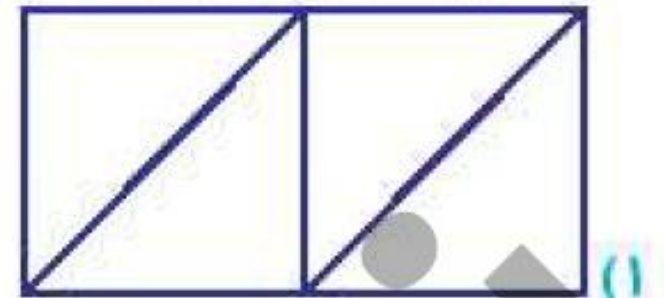

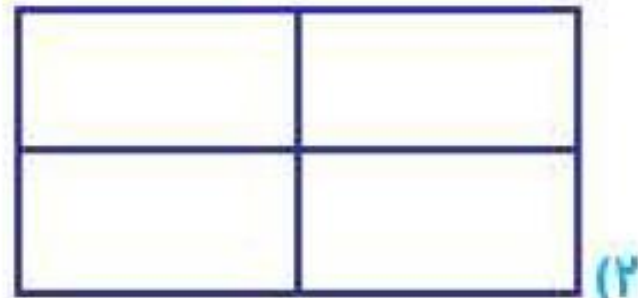
(۲) ۴ مداد رنگی از ۱۶ مداد رنگی قرمز است.

(۱) ۲ مداد رنگی از ۷ مداد رنگی زرد است.

(۴) ۷ مداد رنگی از ۱۶ مداد رنگی آبی است.

(۳) ۲ مداد رنگی از ۱۶ مداد رنگی زرد است.

ت: کدام یک از مستطیل‌های زیر به ۴ قسمت مساوی تقسیم نشده است؟



پ: در یک جعبه ۷ مداد رنگی آبی، ۲ مداد رنگی زرد، ۴ مداد رنگی قرمز و ۳ مداد رنگی سبز وجود دارد. کدام جمله زیر درست نیست؟

(۲) ۴ مداد رنگی از ۱۶ مداد رنگی قرمز است.

(۱) ۲ مداد رنگی از ۷ مداد رنگی زرد است.

(۴) ۷ مداد رنگی از ۱۶ مداد رنگی آبی است.

(۳) ۲ مداد رنگی از ۱۶ مداد رنگی زرد است.

ت: کدام یک از مستطیل‌های زیر به ۴ قسمت مساوی تقسیم نشده است؟

