



نام و نام خانوادگی تاریخ موضوع

هدف

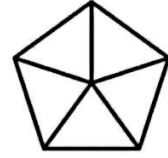
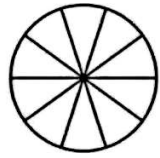
نام: نام خانوادگی: به نام خدا کاربرد ریاضی فصل ۷ کسر و احتمال آموزگار:

۹- با توجه به عبارت های زیر شکل مناسب را رسم کن.



۸ قسمت از ۱۰ قسمت مساوی. ۴ قسمت از ۸ قسمت مساوی. ۶ قسمت از ۱۲ قسمت مساوی.

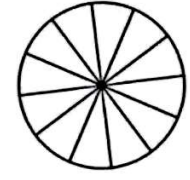
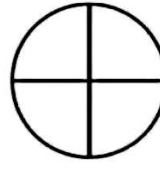

۱۰- با توجه به عبارت های نوشته شده از شکل ها رنگ بزن.



۶ قسمت از ۱۰ قسمت مساوی

۲ قسمت از ۶ قسمت مساوی

۳ قسمت از ۵ قسمت مساوی

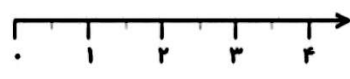


۵ قسمت از ۹ قسمت مساوی

۱ قسمت از ۴ قسمت مساوی

۸ قسمت از ۱۲ قسمت مساوی

۱۱- در محور های زیر، هر واحد به چند قسمت مساوی تقسیم شده است، بنویس.



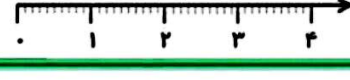
..... قسمت مساوی




..... قسمت مساوی



..... قسمت مساوی



..... قسمت مساوی



Handwritten signature and date