
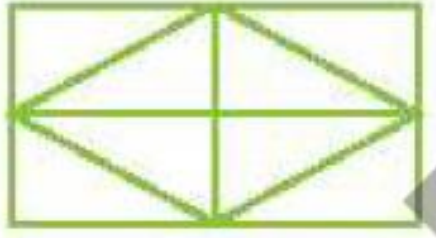


# فصل هفتم




کدام شکل‌ها به قسمت‌های مساوی تقسیم شده‌اند؟ آنها را زرد کن.



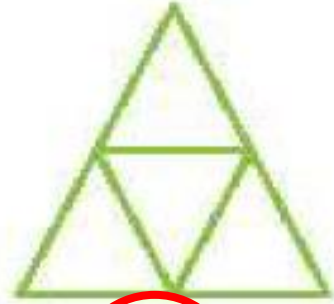
(ت)



(پ)



(ب)



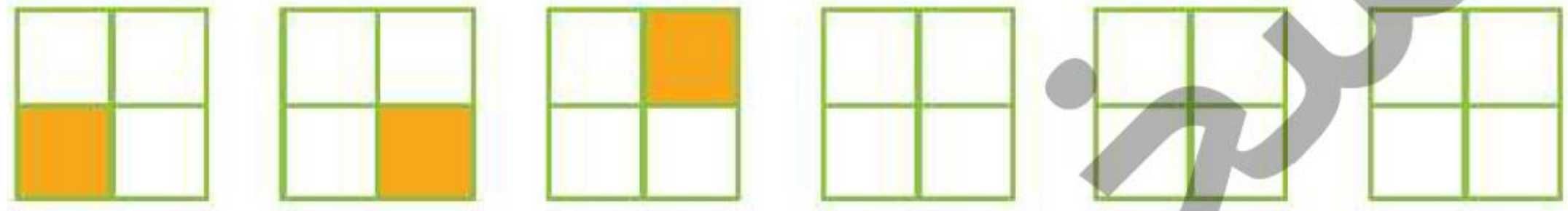
(الف)

۴ اندازه‌ی خط زیر را با توجه به شکل بنویس.

اندازه‌ی خط ..... سانتی‌متر و ..... قسمت از ۱۰ قسمت مساوی است.



۵ الگوی زیر را ادامه بده.



۴

اندازه‌ی خط زیر را با توجه به شکل بنویس.

اندازه‌ی خط ..... سانتی‌متر و ..... قسمت از ۱۰ قسمت مساوی است.


۳

۳

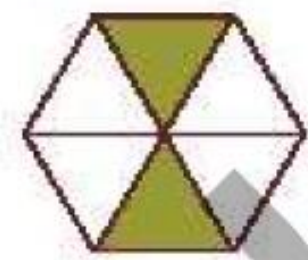



۵

الگوی زیر را ادامه بده.



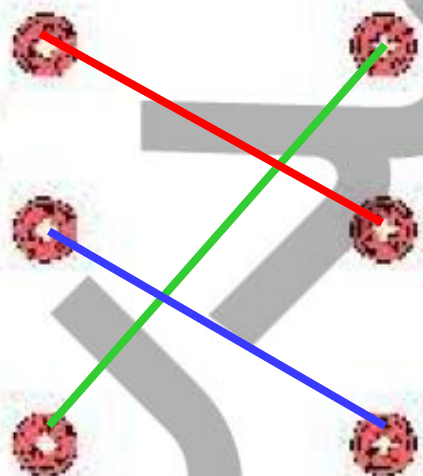
هر عبارت را به شکل مرتبط با آن وصل کن.





۲ قسمت از ۶ قسمت شکل رنگ شده است.

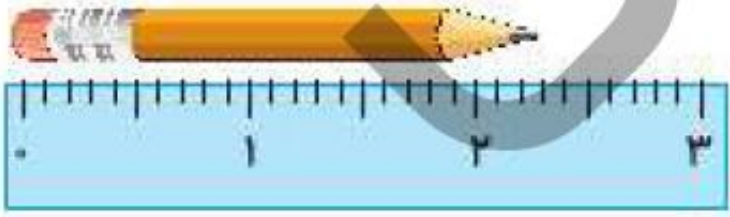
۴ قسمت از ۸ قسمت شکل رنگ شده است.



۷ قسمت از ۱۰ قسمت شکل رنگ شده است.





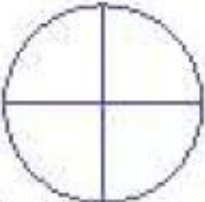
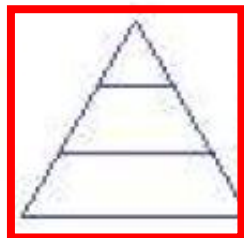
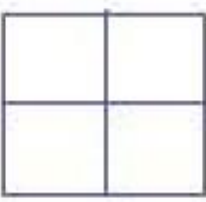
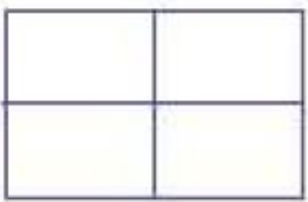
درستی  و نادرستی  هر عبارت را مشخص کن.

الف: اندازه‌ی طول مداد از ۳ سانتی‌متر بیشتر تر و از ۴ سانتی‌متر کم‌تر است.  




ب: اندازه‌ی طول یک مورچه ۷ میلی‌متر است یعنی از یک سانتی‌متر کم‌تر است.  

پ: همه‌ی شکل‌های زیر به قسمت‌های مساوی تقسیم شده‌اند.  




به تعداد عدد نوشته شده کنار هر شکل از آن رنگ کن، سپس کسر مقدار رنگ شده از هر شکل را بنویس.

۷ تا



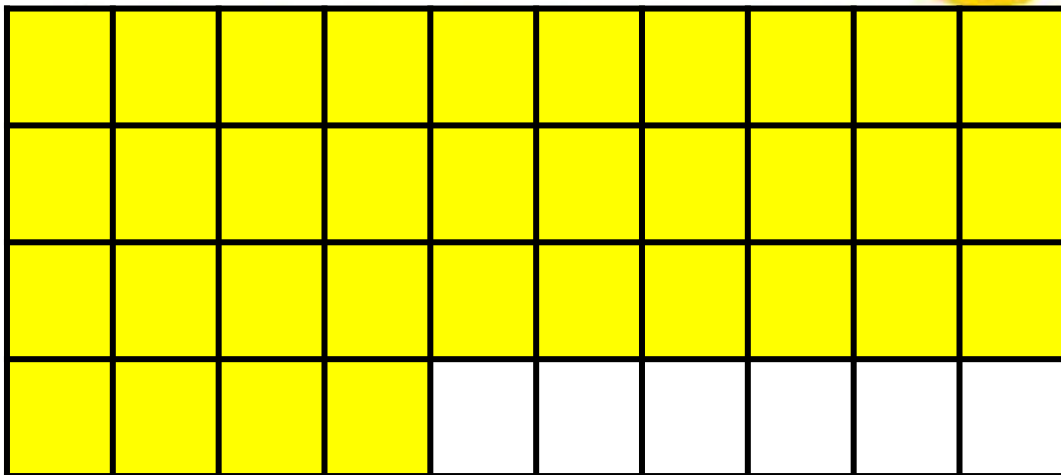
الف: ..... قسمت از ۱۰ قسمت مساوی رنگ شده است.

۹ تا



ب: ..... قسمت از ۱۰ قسمت مساوی رنگ شده است.

۳۴ تا




پ: ..... ده‌تایی و ..... قسمت از ۱۰۰ ..... قسمت مساوی رنگ شده است.

تدریس

۴

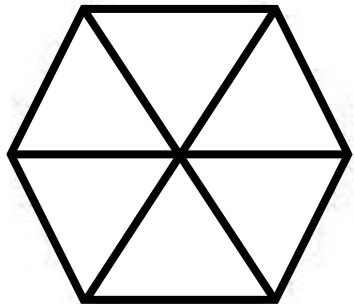
با توجه به شکل جاهای خالی را کامل کن.

اندازهی خط ..... سانتی‌متر و ..... قسمت از ۱۰ قسمت مساوی است.

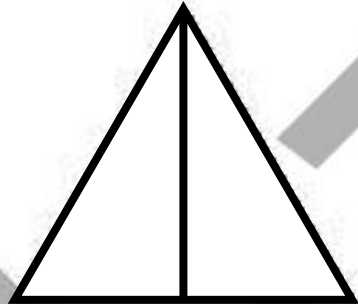


۵


با توجه به عددی که زیر هر شکل نوشته شده، شکل‌ها را به قسمت‌های مساوی تقسیم کن.



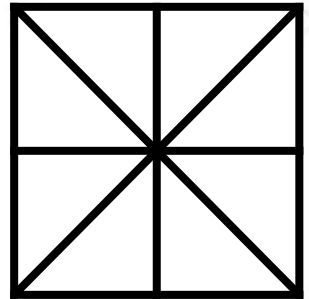
۶



۲



۴

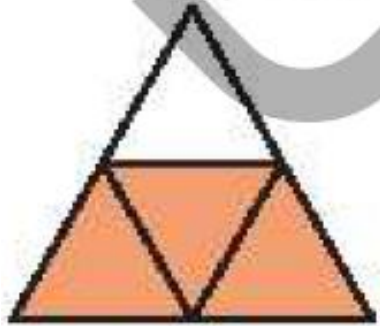


۸

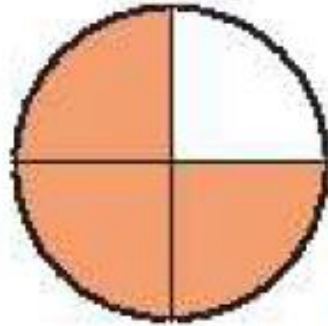
۶

با توجه به سوالات داده شده، گزینه‌ی صحیح را انتخاب کن.

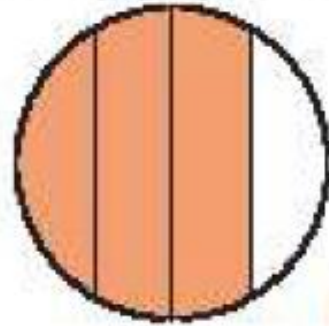
الف: کدام یک از شکل‌های زیر ۲ قسمت از ۴ قسمت مساوی را نشان نمی‌دهد؟ دور آن خط بکش.



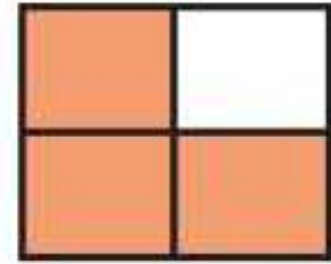
(۴)



(۳)



(۲)



(۱)

ب: ۴۸ یعنی ..... ۴ دهتایی و ..... ۸ قسمت از ۱۰ قسمت مساوی.

(۴) ۸ دهتایی و ۴

(۳) ۴ دهتایی و ۸

(۲) ۴ دهتایی و ۹

(۱) ۴ دهتایی و ۷

پ: در یک جعبه ۷ مداد رنگی آبی، ۲ مداد رنگی زرد، ۴ مداد رنگی قرمز و ۳ مداد رنگی سبز وجود دارد. کدام جمله زیر درست نیست؟

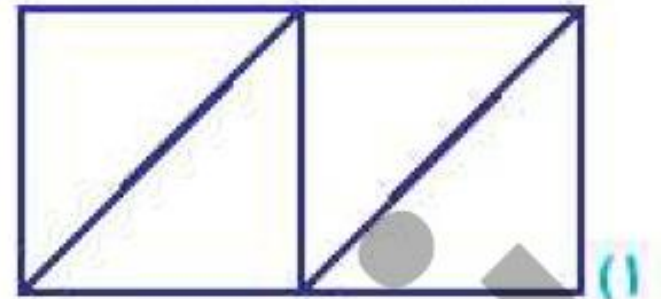

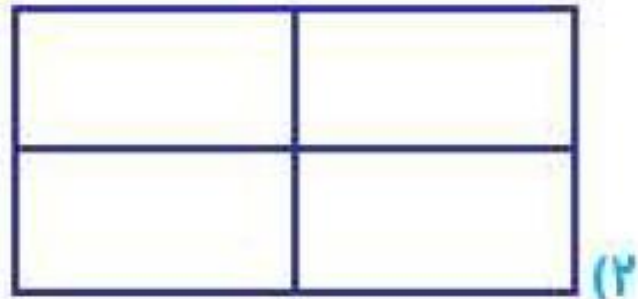
(۲) ۴ مداد رنگی از ۱۶ مداد رنگی قرمز است.

(۱) ۲ مداد رنگی از ۷ مداد رنگی زرد است.


(۴) ۷ مداد رنگی از ۱۶ مداد رنگی آبی است.

(۳) ۲ مداد رنگی از ۱۶ مداد رنگی زرد است.

ت: کدام یک از مستطیل‌های زیر به ۴ قسمت مساوی تقسیم نشده است؟




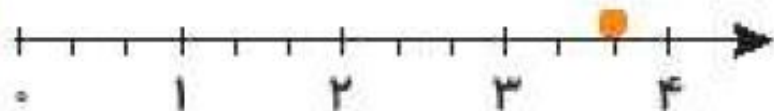
# فصل هفتم




۱

درستی  و نادرستی  هر عبارت را مشخص کن.

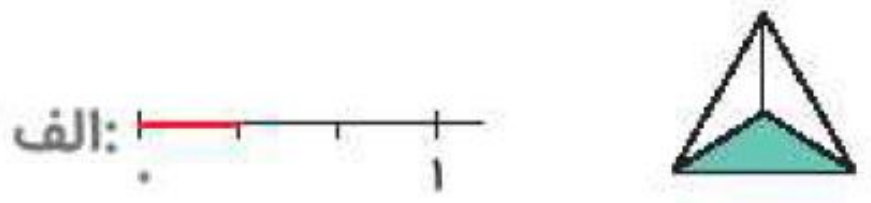
الف: با توجه به محور، نقطه‌ی مشخص شده ۳ واحد و ۲ قسمت از ۳ قسمت مساوی است. 



ب: با توجه به شکل زیر ۲ قسمت از ۴ قسمت مساوی رنگ شده است. 



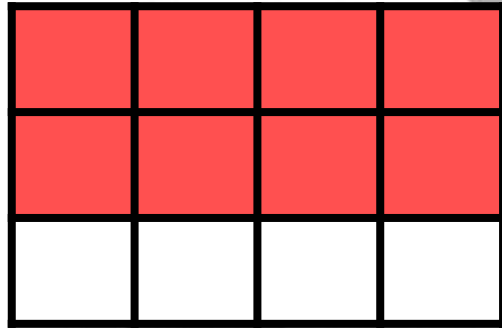
با توجه به واحدها و قسمت‌های رنگ شده از هر شکل، از محور کنار آن رنگ کن. (مانند نمونه)



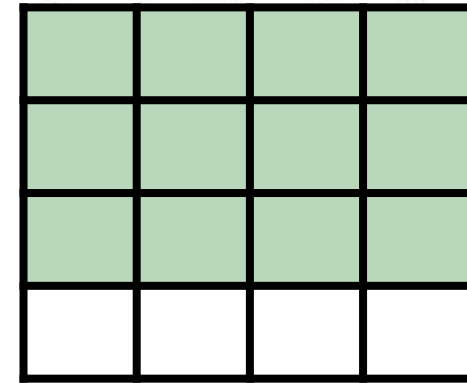
سبزه

۲

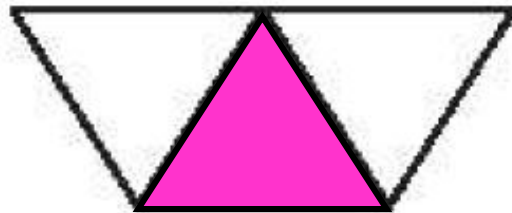
با توجه به قسمت‌های خواسته شده شکل را رنگ کن.




ب: ۸ قسمت از ۱۲ قسمت مساوی رنگ شده.



الف: ۱۲ قسمت از ۱۶ قسمت مساوی رنگ شده.


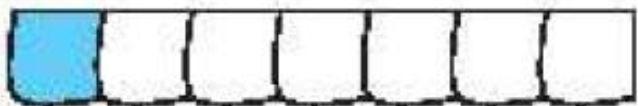



ت: ۱ قسمت از ۴ قسمت مساوی رنگ شده.



پ: ۲ قسمت از ۳ قسمت مساوی رنگ شده.

۱ هر شکل را به عبارت مناسب آن وصل کن.



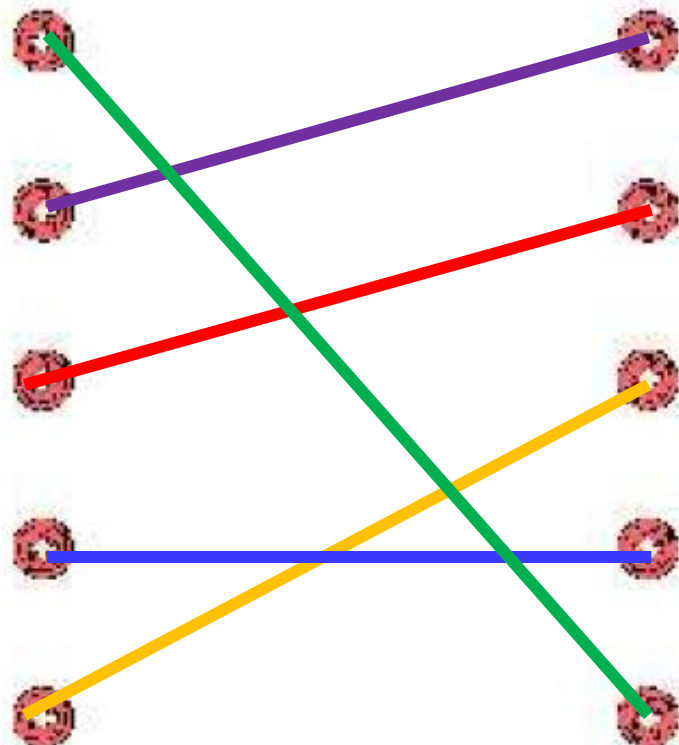
یک قسمت از ۷ قسمت مساوی

۹ قسمت از ۱۰ قسمت مساوی

۶ قسمت از ۹ قسمت مساوی

۷ قسمت از ۸ قسمت مساوی

۱۰ قسمت از ۱۰ قسمت مساوی



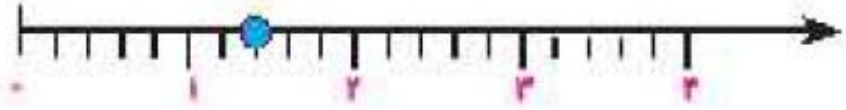

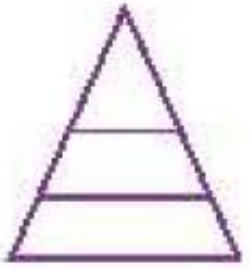
۲

درستی  و نادرستی  هر عبارت را مشخص کن.

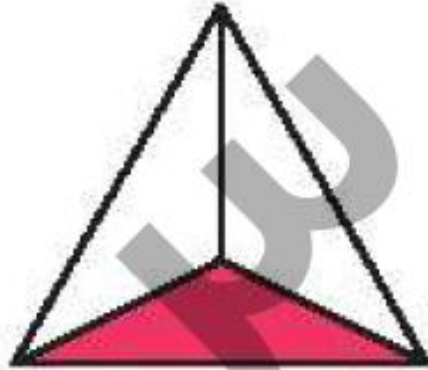
الف: شکل مقابل به ۳ قسمت مساوی تقسیم شده است

ب: در شکل مقابل ۲ قسمت از ۴ قسمت رنگ نشده است.

پ: نقطه‌ی روی محور ۳ واحد و ۱ قسمت مساوی را نشان می‌دهد

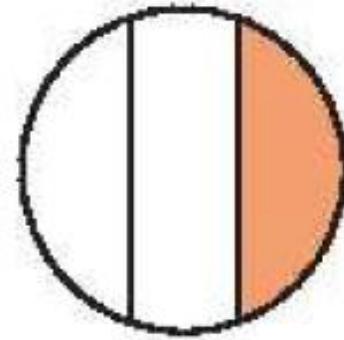


برای شکل‌هایی که به قسمت‌های مساوی تقسیم شده‌اند کسر مقدار رنگ شده‌ی آن را بنویس.

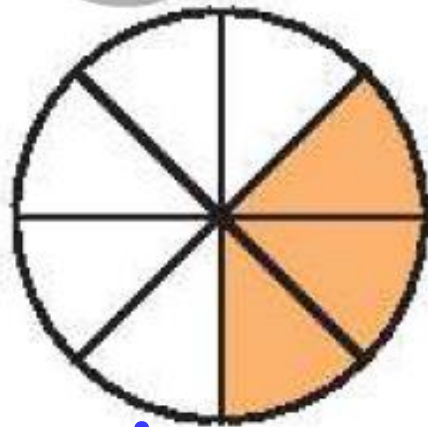


۳

ب: ..... ۱ ..... قسمت از ..... قسمت مساوی

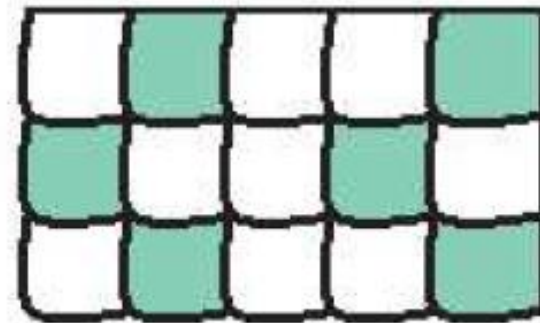


الف: ..... قسمت از ..... قسمت مساوی



۸

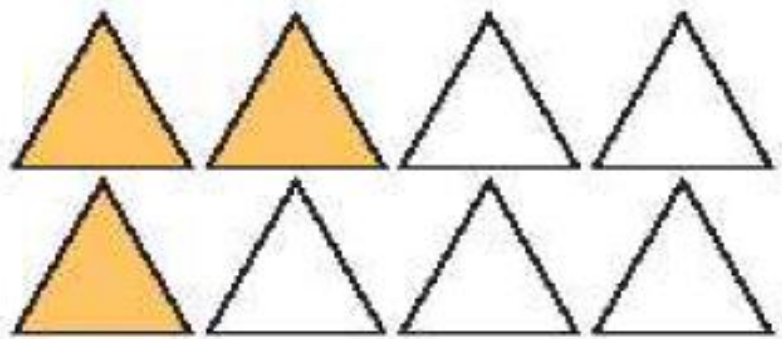
ت: ..... ۳ ..... قسمت از ..... قسمت مساوی



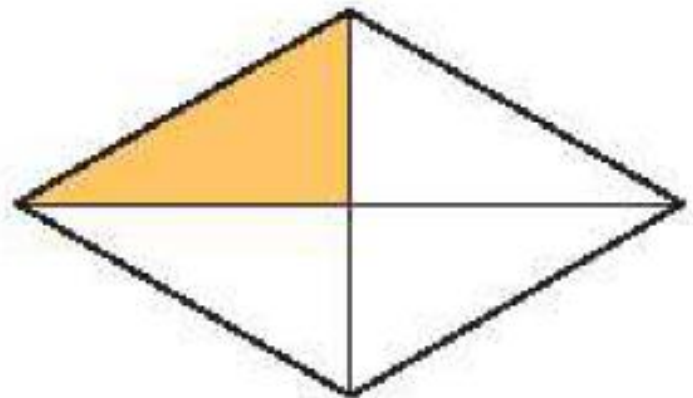
۱۵

پ: ..... ۶ ..... قسمت از ..... قسمت مساوی


چه کسری از هر شکل رنگ نشده است؟ زیر آن بنویس.



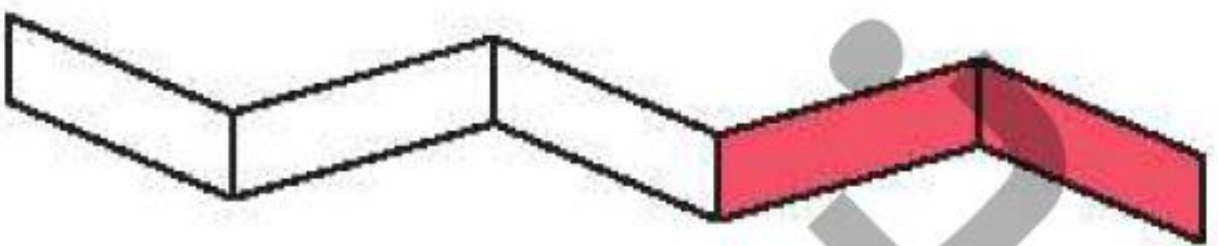
ب: ..... ۵ ... قسمت از ..... ۸ ... قسمت مساوی



الف: ..... ۳ ... قسمت از ..... ۴ ... قسمت مساوی



ت: ..... ۲ ... قسمت از ..... ۴ ... قسمت مساوی



پ: ..... ۳ ... قسمت از ..... ۵ ... قسمت مساوی