




موضوع:

تاریخ:


نام و نام خانوادگی:

هدف:

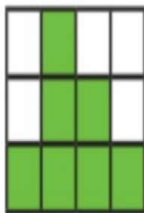
۴- در مورد هر شکل جملات را کامل کنید.



۸ قسمت از ۱۶ قسمت مساوی رنگ شده است



۶ قسمت از ۱۶ قسمت مساوی رنگ شده است




۷ قسمت از ۱۲ قسمت مساوی رنگ شده است



۳ قسمت از ۴ قسمت مساوی رنگ شده است

۱۱۵





موضوع:

تاریخ:

نام و نام خانوادگی:

هدف:

حل مسئله

۱- قد رضا ۱۴۷ سانتی متر است. حمید ۱۱ سانتی متر از او کوتاه تر است. قد حمید چند سانتی متر است؟

برای فهمیدن راه حل مسئله بهتر است عددهای دلخواه خود را در نظر بگیرید. برای مثال به جای ۱۴۷ عدد ۱۵۰ یا هر عدد دیگر و به جای ۱۱ عدد ۱۰ یا عددی دیگر را در نظر بگیرید. یک بار دیگر مسئله را با این عددها بخوانید. برای پیدا کردن اندازه‌ی قد حمید باید عمل جمع را انجام دهید یا تفریق؟

$$\begin{array}{r} 147 \\ - 11 \\ \hline 136 \end{array}$$

$$\begin{array}{r} 150 \\ - 10 \\ \hline 140 \end{array}$$

تفریق

۲- قد مهران ۱۵۳ سانتی متر است. خواهرش ۱۳ سانتی متر از او بلندتر است. قد این دو نفر روی هم چند سانتی متر است؟



$$\begin{array}{r} 153 \\ + 13 \\ \hline 166 \end{array}$$

$$\begin{array}{r} 166 \\ + 153 \\ \hline 319 \end{array}$$

قد خواهرش ۱۶۶

قد این دو نفر روی هم ۳۱۹

