


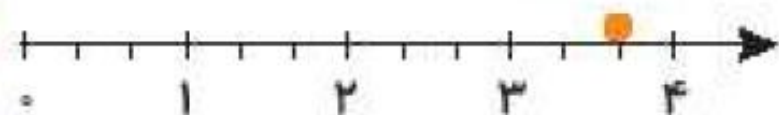
فصل هفتم



۱

درستی و نادرستی هر عبارت را مشخص کن.

الف: با توجه به محور، نقطه‌ی مشخص شده ۳ واحد و ۲ قسمت از ۳ قسمت مساوی است.





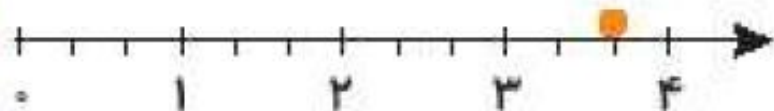
ب: با توجه به شکل زیر ۲ قسمت از ۴ قسمت مساوی رنگ شده است.





۱

درستی  و نادرستی  هر عبارت را مشخص کن.

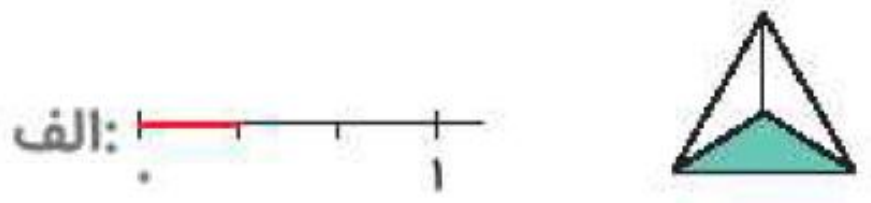
الف: با توجه به محور، نقطه‌ی مشخص شده ۳ واحد و ۲ قسمت از ۳ قسمت مساوی است.  



ب: با توجه به شکل زیر ۲ قسمت از ۴ قسمت مساوی رنگ شده است.  

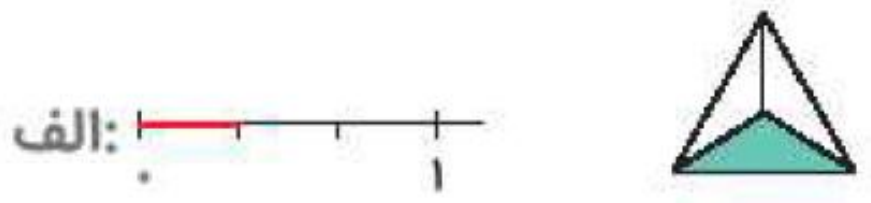


با توجه به واحدها و قسمت‌های رنگ شده از هر شکل، از محور کنار آن رنگ کن. (مانند نمونه)



سبزه

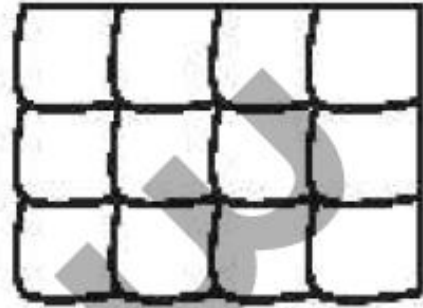
با توجه به واحدها و قسمت‌های رنگ شده از هر شکل، از محور کنار آن رنگ کن. (مانند نمونه)



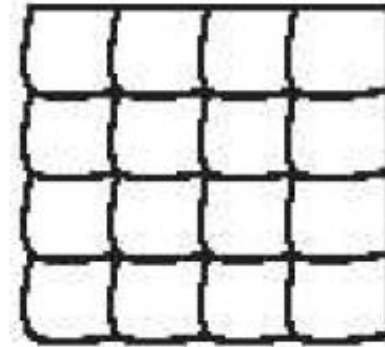
سبزه

۲

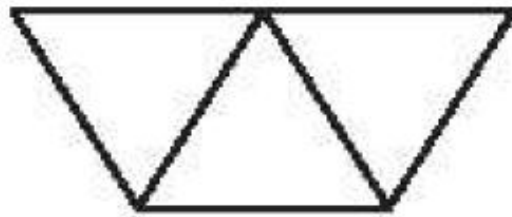
با توجه به قسمت‌های خواسته شده شکل را رنگ کن.



ب: ۸ قسمت از ۱۲ قسمت مساوی رنگ شده.



الف: ۱۲ قسمت از ۱۶ قسمت مساوی رنگ شده.



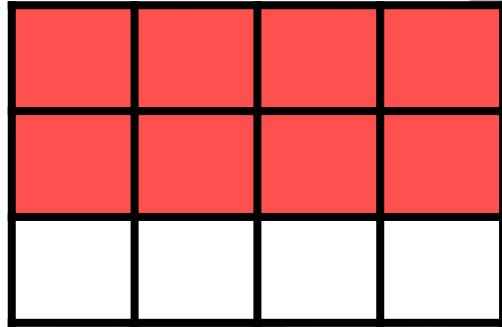
ت: ۱ قسمت از ۴ قسمت مساوی رنگ شده.



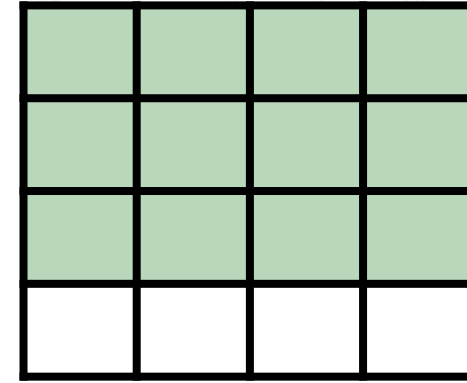
پ: ۲ قسمت از ۳ قسمت مساوی رنگ شده.

۲


با توجه به قسمت‌های خواسته شده شکل را رنگ کن.




ب: ۸ قسمت از ۱۲ قسمت مساوی رنگ شده.



الف: ۱۲ قسمت از ۱۶ قسمت مساوی رنگ شده.


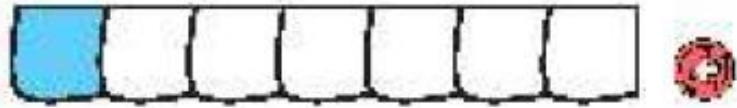



ت: ۱ قسمت از ۴ قسمت مساوی رنگ شده.



پ: ۲ قسمت از ۳ قسمت مساوی رنگ شده.

۱ هر شکل را به عبارت مناسب آن وصل کن.



یک قسمت از ۷ قسمت مساوی

۹ قسمت از ۱۰ قسمت مساوی



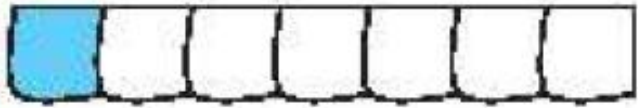

۶ قسمت از ۹ قسمت مساوی

۷ قسمت از ۸ قسمت مساوی

۱۰ قسمت از ۱۰ قسمت مساوی

هر شکل را به عبارت مناسب آن وصل کن.

۱



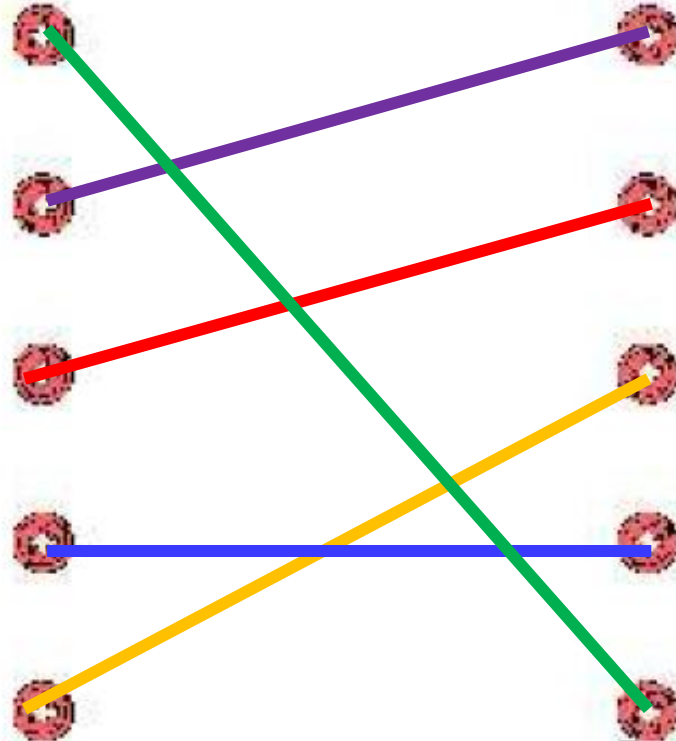
یک قسمت از ۷ قسمت مساوی

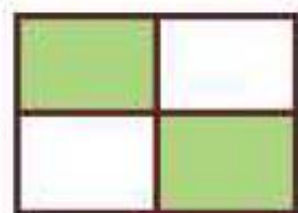
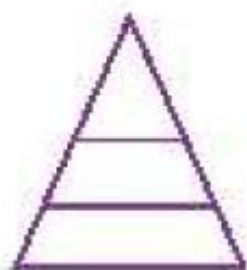
۹ قسمت از ۱۰ قسمت مساوی

۶ قسمت از ۹ قسمت مساوی

۷ قسمت از ۸ قسمت مساوی

۱۰ قسمت از ۱۰ قسمت مساوی





۲ درستى و نادرستى هر عبارت را مشخص کن.

الف: شکل مقابل به ۳ قسمت مساوی تقسیم شده است.

ب: در شکل مقابل ۲ قسمت از ۴ قسمت رنگ نشده است.

پ: نقطه‌ی روی محور ۳ واحد و ۱ قسمت مساوی را نشان می‌دهد.



۲

درستی و نادرستی هر عبارت را مشخص کن.

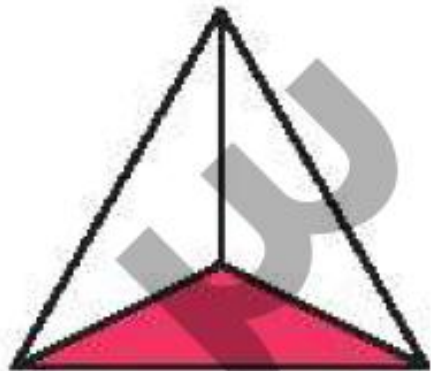
الف: شکل مقابل به ۳ قسمت مساوی تقسیم شده است

ب: در شکل مقابل ۲ قسمت از ۴ قسمت رنگ نشده است.

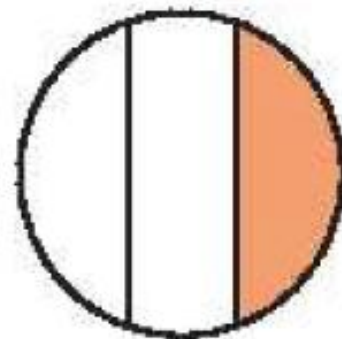
پ: نقطه‌ی روی محور ۳ واحد و ۱ قسمت مساوی را نشان می‌دهد



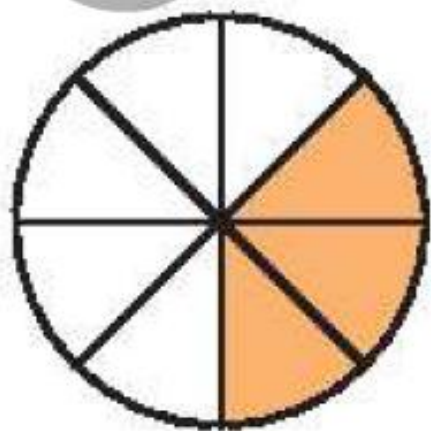
برای شکل‌هایی که به قسمت‌های مساوی تقسیم شده‌اند کسر مقدار رنگ شده‌ی آن را بنویس.



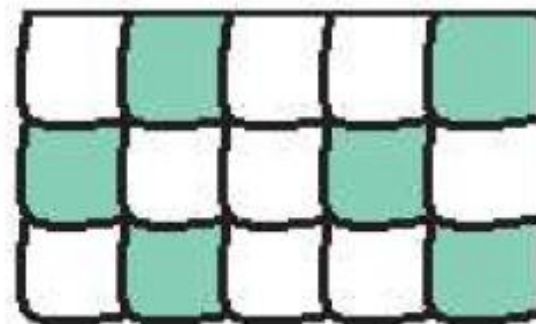
ب: قسمت از قسمت مساوی



الف: قسمت از قسمت مساوی

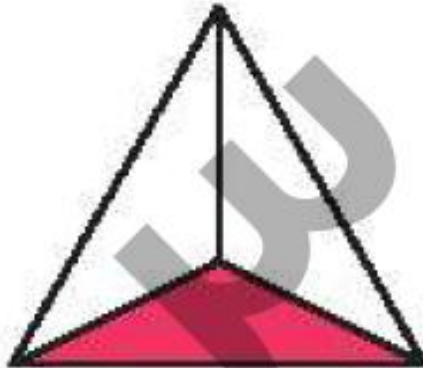


ت: قسمت از قسمت مساوی

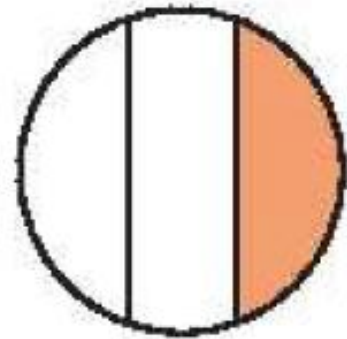


پ: قسمت از قسمت مساوی

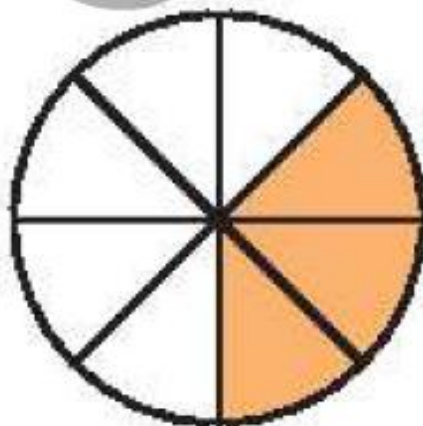
برای شکل‌هایی که به قسمت‌های مساوی تقسیم شده‌اند کسر مقدار رنگ شده‌ی آن را بنویس.



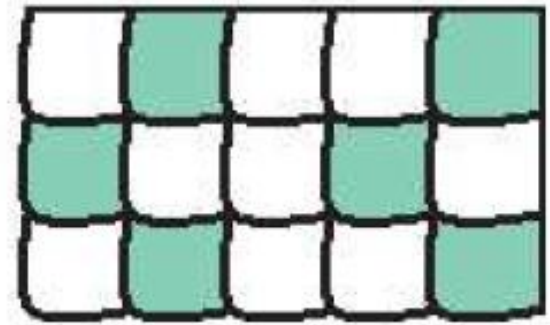
ب: ۱ قسمت از ۳ قسمت مساوی



الف: ۱ قسمت از ۳ قسمت مساوی



ت: ۳ قسمت از ۸ قسمت مساوی



پ: ۶ قسمت از ۱۵ قسمت مساوی