

شماره‌ی
۲۶

ارمغان هفت دوم دبستان

نام آموزگار:

تاریخ:

نام و نام خانوادگی:

رقابتی: تیم اول

رقابتی: تیم دوم

رقابتی: تیم سوم

رقابتی

۱ الف) زمان سال تحویل را روی ساعت نشان دهید.



ب) با رسم ۲ ساعت مشخص کنید چه زمان‌هایی برای عید دیدنی به خانه‌ی اقوام رفتید؟

به عده‌ی دانش آموز



۲ الف) مربعی بکشید که اندازه‌ی هر ضلع آن ۵۰ میلی‌متر باشد.

ب) فرض کنید این مربع یک سفره‌ی هفت سین است. آن را تزئین کنید.

به عده‌ی دانش آموز

۳ حاصل جمع و تفریق‌های زیر را بنویسید. (به روش تکنیکی)

$$\begin{array}{r} ۲۰۲ \\ -۲۲۸ \\ \hline ۱۷۴ \end{array}$$

$$\begin{array}{r} ۱۰۰ \\ -۱۵۱ \\ \hline ۴۴۹ \end{array}$$

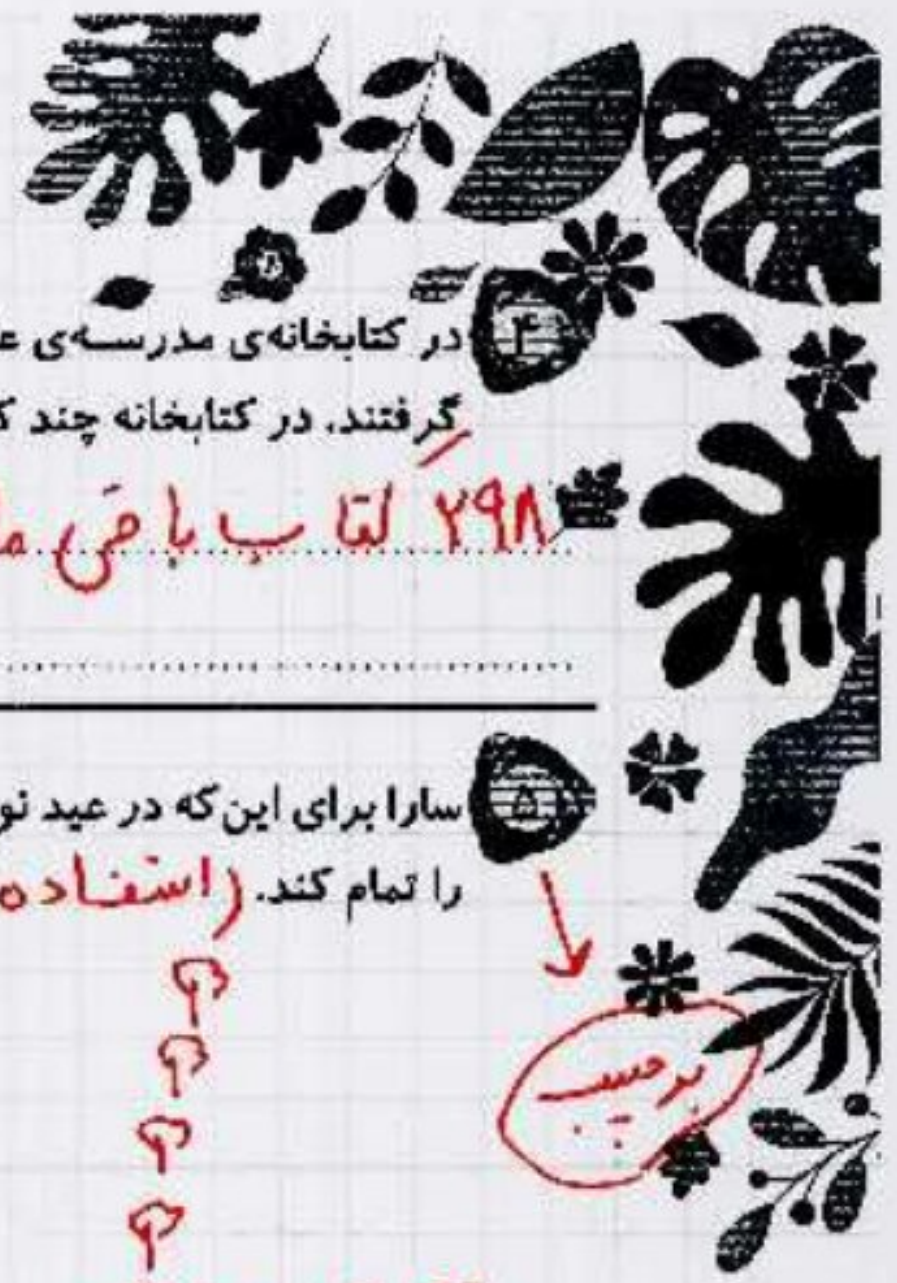
$$\begin{array}{r} ۳۴۴ \\ -۱۲۰ \\ \hline ۲۲۴ \end{array}$$

$$\begin{array}{r} ۱۹۳ \\ +۱۰۸ \\ \hline ۳۰۱ \end{array}$$



$$\begin{array}{r} 450 \\ - 107 \\ \hline 343 \end{array}$$

$$\begin{array}{r} 11 \\ 2 \times \\ 393 \\ - 95 \\ \hline 298 \end{array}$$



در کتابخانه‌ی مدرسه‌ی علوی ۵۰۰ کتاب بود. دانش‌آموزان کلاس دوم ۹۵ کتاب و کلاس سوم ۱۰۷ کتاب از کتابخانه امانت گرفتند. در کتابخانه چند کتاب باقی مانده است؟

۲۹۸ کتاب باقی مانده است.


سارا برای این که در عید نوروز از میهمانان خود پذیرایی کند حیاط را با گل‌های زیبا تزیین کرد. حالا به سارا کمک کنید تا کارش را تمام کند. (استفاده از برچسب)

تصاویر را به ترتیب فصل‌ها رنگ کنید و اسم هر فصل را زیر آن بنویسید. با یک علامت مشخص کنید نوروز در کدام یک از فصل‌ها است.

(۱) بهار ✓ (۲) تابستان (۳) پاییز (۴) زمستان

خانواده‌ی آقای احمدی در ایام نوروز به کنار رودخانه رفتند. بعد از رسیدن با منظره‌ی زیر روبه‌رو شدند به آن‌ها کمک کنید تا چیزهایی که باعث آلودگی آب می‌شود را پیدا و دور آن خط بکشید.

مقتور بزرگ‌تر



۲





الف) روز درختکاری - در این روز مردم به طبیعت می روند و برای حفظ طبیعت آن را تمیزی کنند و درخت می کارند.


۳ الف) روز ۱۵ اسفند چه روزی است؟ (دلیل نام گذاری آن را در دو جمله توضیح دهید).
ب) اگر بخواهید مردم را به همکاری در این روز بزرگ دعوت کنید چه کاری انجام دهید؟ به عهده دانش آموز

یک روز نامه دیواری درست می کنیم و در خصوص آن با مردم صحبت می کنیم.
خودم در طبیعت به جمع کردن زباله و کاسه درخت می پردازم و -

۴ در ایام نوروز با مواد خوراکی متفاوت از میهمانان خود پذیرایی می کنید. به این خوراکی ها با دقت نگاه کنید و در جدول زیر ۳ خوراکی جامد و ۳ خوراکی مایع بنویسید.




جامد	مایع
آجیل	شربت
شیرینی	آب
میوه	نوشابه

۵ دیروز یک فرفره درست کردم. فرفره را در مسیر باد قرار دادم تا بفهمم شدت وزش باد چقدر است. هرگاه فرفره تند می چرخید می فهمیدم که شدت وزش باد زیاد است و هرگاه فرفره آرام می چرخید شدت وزش باد کم است.



با استفاده از کلمات زیر درباره فصل بهار و زیبایی های آن سه جمله بنویسید.

به عهده دانش آموز



در فصل بهار پرندگان در آسمان با یلدا بگر بازی می کنند و آوازهای زیبا می خوانند. بزرگ درختان و سرسبزی طبیعت باعث می شود به زیبایی و قدرت خداوند بیشتر پی ببرم.

۲ به اول هر کلمه (می) اضافه کنید و برای هر یک جمله بسازید.

رفتی	می رفتی	شما دیروز کجا می رفتی؟
گذاشت	می گذاشت	گل فروش از کومچه می ما می گذاشت.
انداختند	می انداختند	سریچه ها با شادی یلدا بگر توپ می انداختند.

به سمت





۳) زیر املاي کلمه‌هایی که اشتباه است خط بکشید و شکل صحیح آن‌ها را بنویسید.


وطن عزیزمان	راهنمایی و راننده‌گی	بامزه	صدای ازان
وطن عزیزمان	راهنمایی و رانندگی		صدای اذان

۴) در موقع تحویل سال چه دعایی خوانده می‌شود؟ از بزرگ‌ترها بپرس و بنویسید و با توجه به معنی آن یک نقاشی بکشید.



یا مقلب القلوب و الابصار
یا مدبر اللیل و النهار
یا محول العول و الاحوال
حول حالنا الی احسن العال

۵) در یک نامه برای عمو نوروز بنویسید که در ایام عید چه برنامه‌هایی دارید؟ (زیبا می‌شود اگر یک پاکت‌نامه را تزئین کنید و نوشته‌ی خود را درون آن قرار دهید و به صفحه بچسبانید.) (استفاده از برجسب)



برجسب
و علس تزئینی

شاخص‌ها			
توضیح	نوع	مکان	شکل
سرعت و جهت باد			
جمله‌سازی			
ساخت کلمه یا ترکیب هم?			
املا			
نقاشی از مفهوم دعای سال تحویل			

شاخص‌ها			
توضیح	نوع	مکان	شکل
نمایش زمان روی ساعت			
رسم شکل			
حل مسئله			
شناخت فصل‌ها			
موارد آلوده کننده‌ی طبیعت			

۴

