



موضوع: کاربرد اعداد (۲)

تاریخ

نام و نام خانوادگی

درس: ریاضی

۱- حاصل جمع و تفریق ها را از راه تکنیکی به دست بیاور و جواب ها را از کوچک به بزرگ بنویس.

$$\begin{array}{r} 564 \\ + 247 \\ \hline \end{array}$$

$$\begin{array}{r} 775 \\ + 188 \\ \hline \end{array}$$

$$\begin{array}{r} 975 \\ - 368 \\ \hline \end{array}$$

$$\begin{array}{r} 800 \\ - 152 \\ \hline \end{array}$$

< < <

۲- قد پدر نیلا ۱۷۶ سانتی متر است. اگر نیلا ۲۹ سانتی متر از پدرش کوتاه تر باشد، اندازه‌ی قد نیلا چقدر است؟

۳- اعداد زیر را به صورت باز شده بنویس.

۳۰۹ =

۸۴۵ =

۶۷۰ =

تاریخ

نام و نام خانوادگی

موضوع: کاربردگ عیدانه (۲)

درس: ریاضی



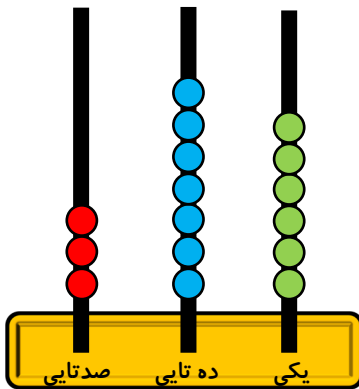
۴- در جاهای خالی عدد مناسب بنویس.

۴۰ میلی متر سانتی متر است.

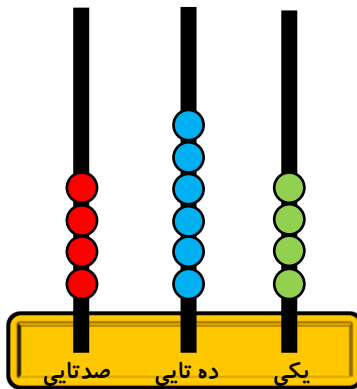
۲ سانتی متر و ۵ میلی متر یعنی میلی متر است.

۶۷ میلی متر یعنی سانتی متر و میلی متر است.

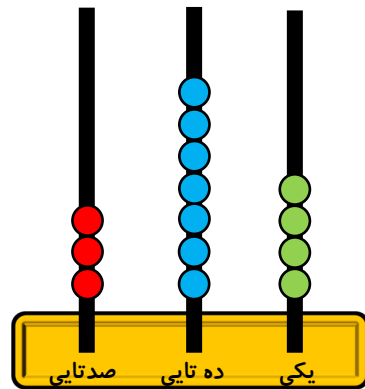
۵- کدامیک از چرتکه های زیر عدد بزرگتری را نشان می دهد؟



.....



.....



.....