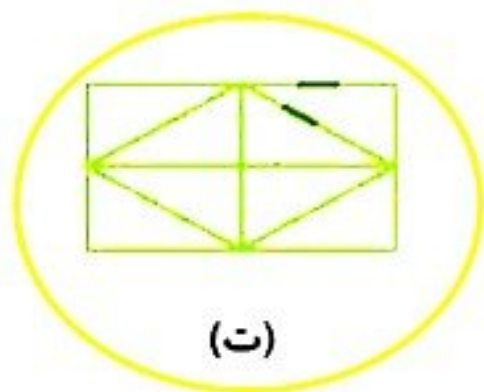


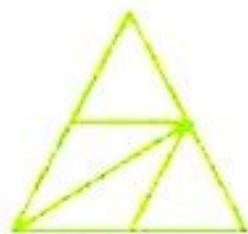


۱ کدام شکل‌ها به قسمت‌های مساوی تقسیم شده‌اند؟ آن‌ها را زرد کن.

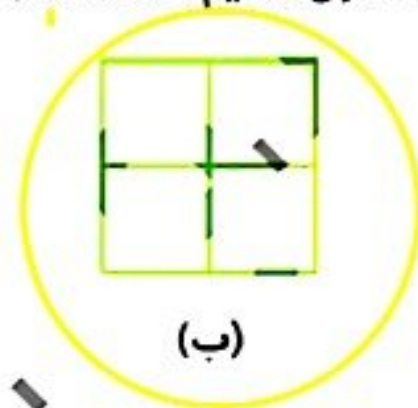
۱



(ت)



(پ)



(ب)



(الف)

۲ جاهای خالی را کامل کن.

۲

فقط یک قسمت در سمت راست هر شکل را رنگ و جمله‌ی کنار آن را کامل کن.



الف: ۱ قسمت از ۲ قسمت مساوی رنگ شده است.



ب: ۱ قسمت از ۳ قسمت مساوی رنگ شده است.



پ: ۱ قسمت از ۴ قسمت مساوی رنگ شده است.



## کتاب ریاضی علوی صفحه ی 162

۲ جاهای خالی را کامل کن.

الف: ۴۸ یعنی ..... ۴ دهتایی و ..... ۸ قسمت از ۱۰ قسمت مساوی.

ب: ۵۲ یعنی ..... ۵ دهتایی و ..... ۲ قسمت از ۱۰ قسمت مساوی.

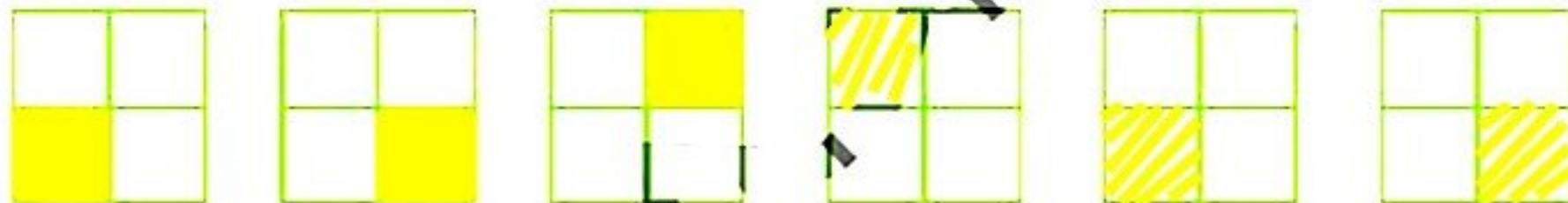
پ: ۷۴ یعنی ..... ۷ دهتایی و ..... ۴ قسمت از ۱۰ قسمت مساوی.

۴ اندازه ی خط زیر را با توجه به شکل بنویس.

اندازه ی خط ..... ۳ سانتی متر و ..... ۳ قسمت از ۱۰ قسمت مساوی است.



۵ الگوی زیر را ادامه بده.



# تمرین



۱ هر عبارت را به شکل مرتبط با آن وصل کن.

۲ قسمت از ۶ قسمت شکل رنگ شده است.

۴ قسمت از ۸ قسمت شکل رنگ شده است.

۷ قسمت از ۱۰ قسمت شکل رنگ شده است.

۲ درستی  و نادرستی  هر عبارت را مشخص کن.

الف: اندازه‌ی طول مداد از ۲ سانتی‌متر بیش‌تر و از ۳ سانتی‌متر کم‌تر است.



ب: اندازه‌ی طول یک مورچه ۷ میلی‌متر است یعنی از یک سانتی‌متر کم‌تر است.

پ: همه‌ی شکل‌های زیر به قسمت‌های مساوی تقسیم شده‌اند.

✓ ✓ ✗ ✓