

به نام خداوند رنگین کمان

کسر و احتمال



۸ قسمت

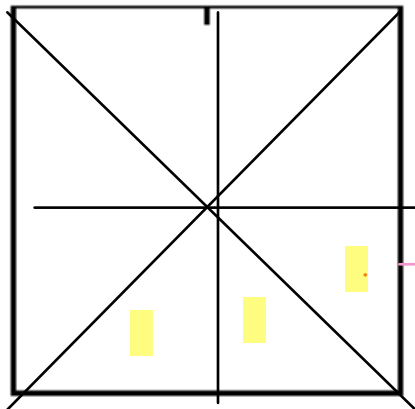
نمایش کسرها



۱- یک کاغذ مربع شکل بردارید.
آن را از وسط تا کنید. کاغذ چند قسمت شد؟ ۲ قسمت
یک قسمت را رنگ کنید.
کاغذ را دوباره از وسط تا کنید. یک بار دیگر هم
آن را از وسط تا کنید.



حالا کاغذ به چند قسمت مساوی تقسیم شده است؟
چند قسمت آن رنگ شده است؟ ۴ قسمت



۲- وسط ۳ ضلع دیگر مربع را بدون استفاده از خط کش پیدا کنید.

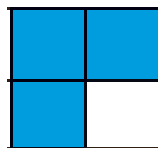
حالا با خط کش وسط ضلع های رو به رو را به یکدیگر وصل کنید.

شکل مربع به چند قسمت مساوی تقسیم شده است؟ ۴ قسمت

گوشه های مربع را به هم وصل کنید. حالا شکل به چند قسمت مساوی تقسیم شده است؟

۳ قسمت از مربع را رنگ کنید و جمله ی زیر را کامل کنید.

۲ قسمت از ۸ قسمت های مساوی رنگ شده است.




۱- جاهای خالی را کامل کنید.

۱ قسمت از ۲ قسمت مساوی رنگ شده است


۳ قسمت از ۴ قسمت مساوی رنگ شده است

۱ قسمت از ۳ قسمت مساوی رنگ شده است



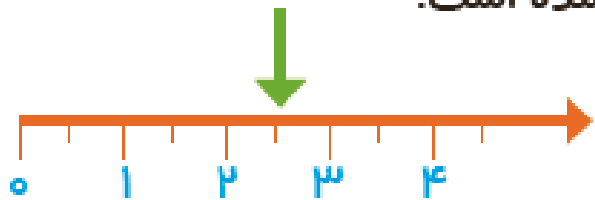
۲- جمله ها را کامل کنید.

اندازه‌ی خط ۲ سانتی‌متر و ۴ قسمت از ۱ قسمت مساوی است.



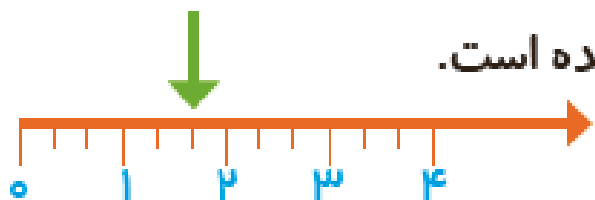
اندازه‌ی طول پاک‌کن ۳ سانتی‌متر و ۸ قسمت از ۱۰ قسمت مساوی است.

۳- در این محور هر واحد محور به ۲ قسمت مساوی تقسیم شده است.




نقطه‌ی مشخص شده ۲ واحد و ۱ قسمت از ۲ قسمت مساوی را نشان می‌دهد.

۴- در این محور هر واحد به ۲ قسمت مساوی تقسیم شده است.

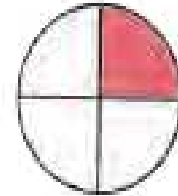


نقطه‌ی مشخص شده ۱ واحد و ۲ قسمت از ۲ قسمت مساوی را نشان می‌دهد.

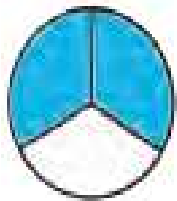
۱- برای شکل‌هایی که قسمت‌های مساوی دارند، جملات را مانند نمونه کامل کنید.




۱ قسمت از ۴ قسمت مساوی
رنگ شده است



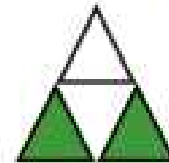
_____ قسمت از _____ قسمت مساوی
رنگ شده است



_____ قسمت از _____ قسمت مساوی
رنگ شده است



_____ قسمت از _____ قسمت مساوی
رنگ شده است



_____ قسمت از _____ قسمت مساوی
رنگ شده است



دوستون دارم دخترای قشنگم