

علوی

کتاب ریاضی علوی صفحه ی 167

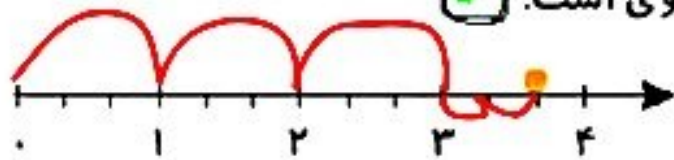
فعالیت کلاسی




1 درستى و نادرستى هر عبارت را مشخص کن.



الف: با توجه به محور، نقطه‌ی مشخص شده ۳ واحد و ۲ قسمت از ۳ قسمت مساوی است.



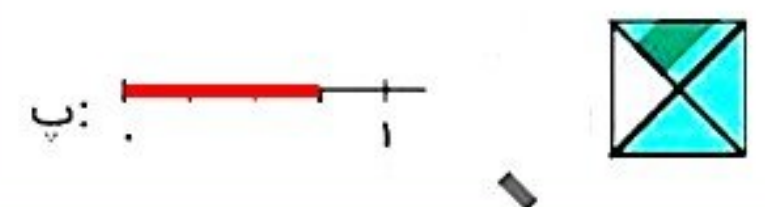
ب: با توجه به شکل زیر ۲ قسمت از ۴ قسمت مساوی رنگ شده است.



با توجه به واحدها و قسمت‌های رنگ شده از هر شکل، از محور کنار آن رنگ کن. (مانند نمونه)

الف: 

ب: 

ج: 

تمرین



کتاب ریاضی علوی صفحه ی 168

1 هر شکل را به عبارت مناسب آن وصل کن.



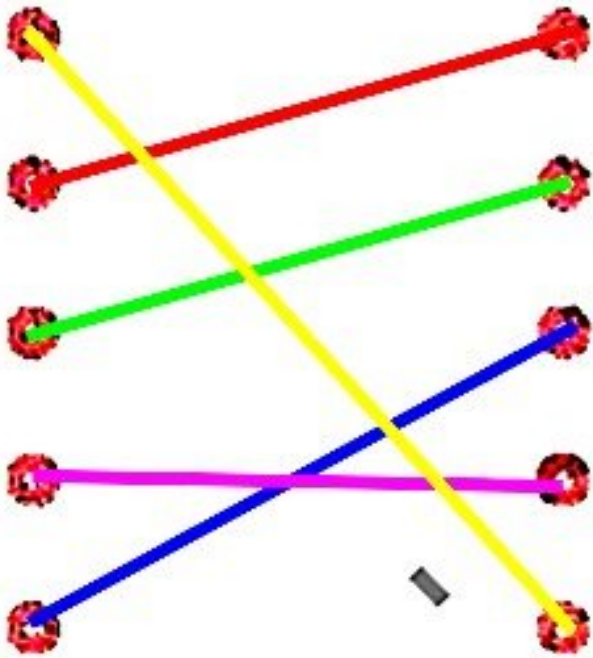
یک قسمت از ۷ قسمت مساوی

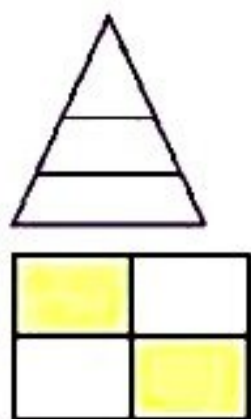
۹ قسمت از ۱۰ قسمت مساوی

۶ قسمت از ۹ قسمت مساوی

۷ قسمت از ۸ قسمت مساوی

۱۰ قسمت از ۱۰ قسمت مساوی





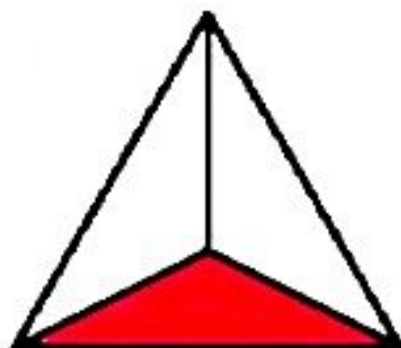
۲ درستى و نادرستى هر عبارت را مشخص کن.

الف: شکل مقابل به ۲ قسمت مساوی تقسیم شده است.

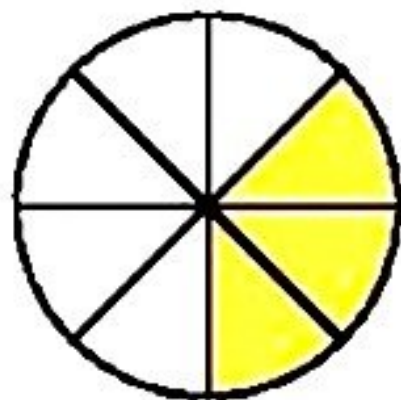
ب: در شکل مقابل ۲ قسمت از ۴ قسمت رنگ نشده است.

پ: نقطه‌ی روی محور ۲ واحد و ۱ قسمت مساوی را نشان می‌دهد.

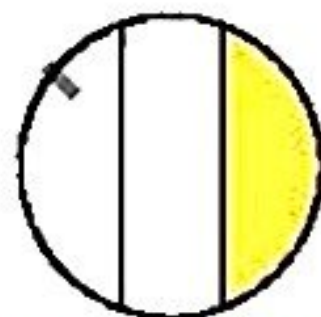
برای شکلهایی که به قسمت‌های مساوی تقسیم شده‌اند کسر مقدار رنگ شده‌ی آن را بنویس.



ب: قسمت از قسمت مساوی

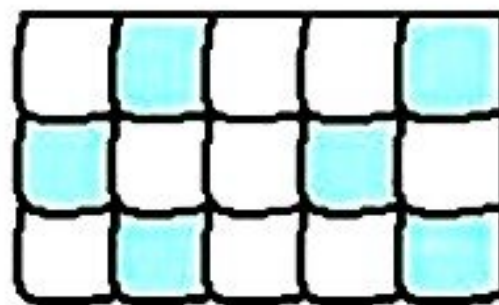


ت: قسمت از قسمت مساوی



چون قسمت‌های آن مساوی نیست نمی‌توانیم کسر بنویسیم

الف: قسمت از قسمت مساوی



پ: قسمت از قسمت مساوی