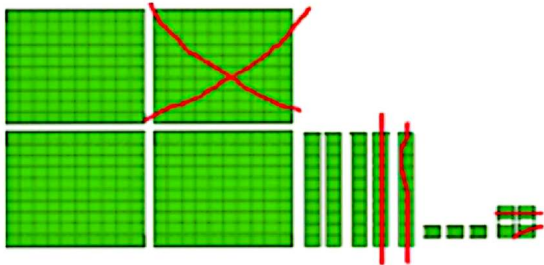
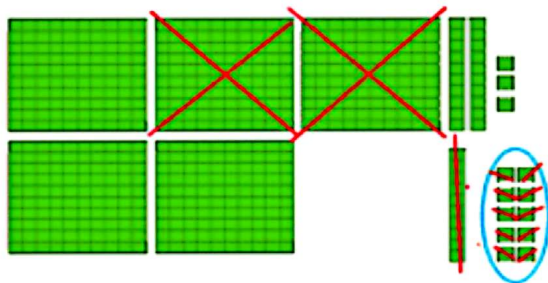


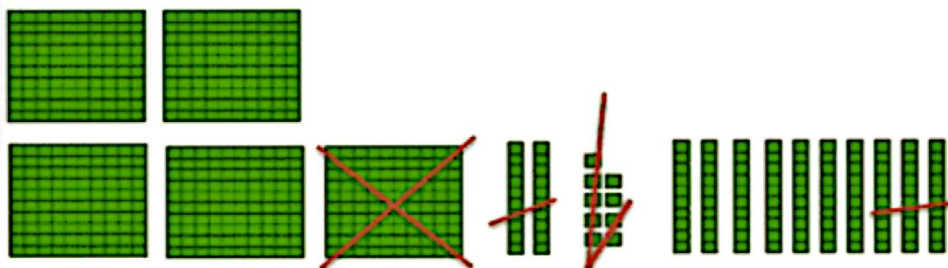
با رسم دسته‌های صدتایی، ده تایی و یکی مانند نمونه، تفریق‌ها را انجام دهید. در صورت لزوم یک دسته صدتایی را برداشته به جای آن ۱۰ ده تایی قرار دهید و یا یک دسته ده تایی را برداشته به جای آن ۱۰ تا یکی بگذارید.



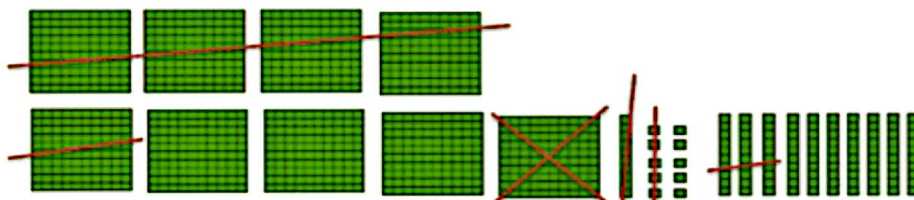
$$\begin{array}{r} 457 \\ - 124 \\ \hline 333 \end{array}$$



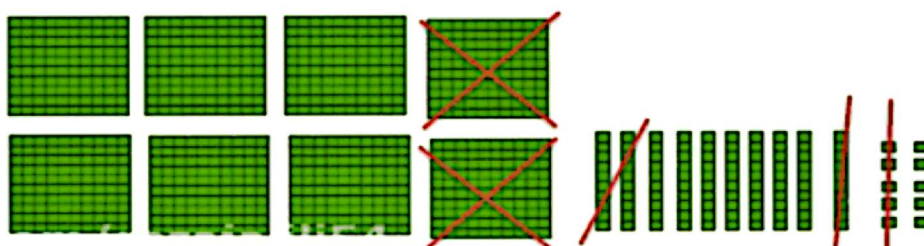
$$\begin{array}{r} 543 \\ - 219 \\ \hline 324 \end{array}$$



$$\begin{array}{r} 629 \\ - 157 \\ \hline 472 \end{array}$$



$$\begin{array}{r} 810 \\ - 535 \\ \hline 275 \end{array}$$



$$\begin{array}{r} 800 \\ - 125 \\ \hline 675 \end{array}$$