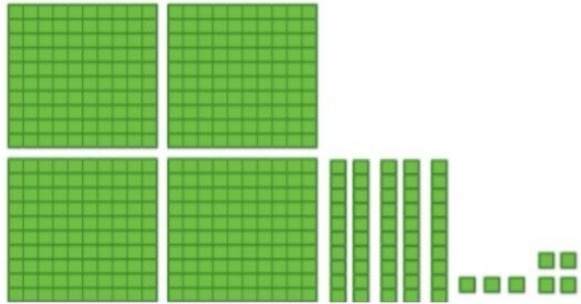


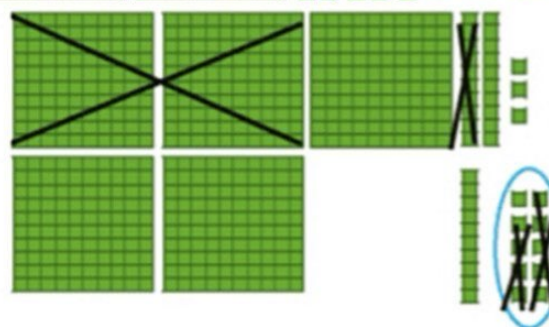


کار در کلاس

با رسم دسته‌های صدتایی، ده‌تایی و یکی مانند نمونه، تفریق‌ها را انجام دهید. در صورت لزوم یک دسته صدتایی را برداشته به جای آن ۱۰ ده‌تایی قرار دهید و یا یک دسته ده‌تایی را برداشته به جای آن ۱۰ تا یکی بگذارید.




$$\begin{array}{r} 457 \\ - 124 \\ \hline \end{array}$$

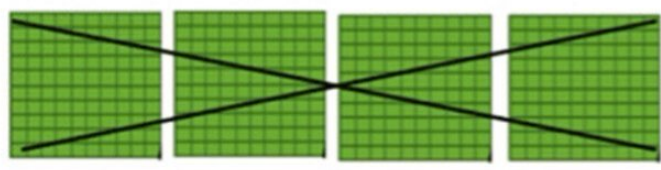



$$\begin{array}{r} 333 \\ 543 \\ - 219 \\ \hline 324 \end{array}$$

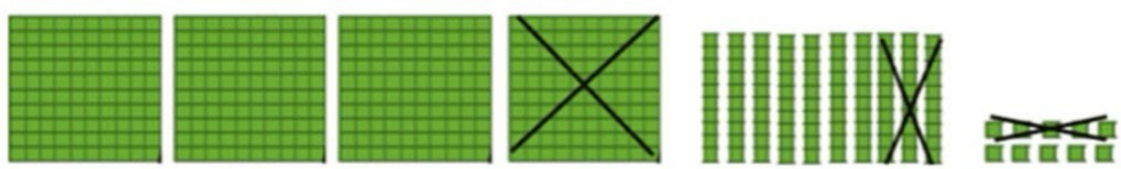
باز کردن یک دسته ده‌تایی به ۱۰ تا یکی



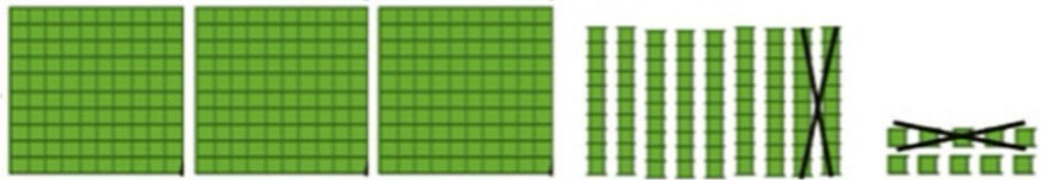
$$\begin{array}{r} 512 \\ - 157 \\ \hline 355 \end{array}$$



$$\begin{array}{r} 810 \\ - 535 \\ \hline 275 \end{array}$$



$$\begin{array}{r} 710 \\ - 125 \\ \hline 585 \end{array}$$





حاصل تفریق‌های زیر را به دست بیاور. (به روش تکنیکی)

- ۸۰۹ ۵۵۱ ۶۰۳ ۳۰۰
 الف: ۲۶۲- ب: ۳۲۷- پ: ۴۲۰- ت: ۱۳۰-



ساعت‌ها را از انتهای کتاب کلا جدا کن. آن‌ها را طوری کنار هم قرار بده و بچسبان که یک الگو ساخته شود.



با توجه به سوالات داده شده، گزینه‌ی صحیح را انتخاب کن.

الف: آشپزی می‌خواهد یک نوع بیسکویت بپزد. او باید فر (نوعی اجاق) را به مدت ۱۰ دقیقه گرم کند و بیسکویت را به مدت ۱۲ دقیقه بپزد. آشپز می‌خواهد پختن بیسکویت را در ساعت ۱۱ تمام کند. دیرترین زمانی که او باید فر را روشن کند، کدام است؟

- ۱۰:۲۲ (۴) ۱۰:۵۰ (۳) ۱۰:۴۸ (۲) ۱۰:۲۸ (۱)

ب: اگر شما یکی از عددهای زیر را از ۹۰۰ کم کنید، پاسخ آن از ۳۰۰ بزرگ‌تر خواهد شد. آن عدد کدام است؟

- ۵۷۹ (۴) ۶۶۷ (۳) ۷۱۲ (۲) ۸۲۲ (۱)



تعداد صفحات کتاب فارسی و ریاضی خود را از آخرین صفحهی آنها مشاهده کن و به صورت عدد و حروف بنویس.
حال مجموع تعداد صفحات هر دو کتاب را به روش دلخواه به دست بیاور.

