




موضوع:

تاریخ:

نام و نام خانوادگی:

هدف:



ریاضی دوم ابتدایی

صفحه ۱۲۱


احتمال و کسر


(۳۱) با توجه به رنگ های صفحه چرخنده عبارت ها را کامل کنید.

..... قسمت از قسمت آبی است .

..... قسمت از قسمت سبز است .

احتمال ایستادن فلش روی کدام رنگ بیش تر است ؟ چرا ؟





(۳۲) با توجه به عبارت های داده شده صفحه ی چرخنده را رنگ کنید.


آبی ← ۲ قسمت از ۸ قسمت

بنفش ← ۴ قسمت از ۸ قسمت

زرد ← ۲ قسمت از ۸ قسمت

اگر چرخنده را بچرخانیم ، احتمال ایستادن عقربه روی کدام رنگ بیشتر است ؟

(۳۳) با توجه به توپ های داخل این کیسه (۸ توپ آبی رنگ ، ۵ توپ قرمز رنگ ، ۲ توپ سبز رنگ) جمله ها را کامل کنید .



..... قسمت از قسمت توپ ها سفید است.

..... قسمت از قسمت توپ ها مشکی است.

..... قسمت از قسمت توپ ها طوسی است.

اگر بخواهیم یک توپ از داخل کیسه برداریم ، شانس چه رنگی بیشتر است ؟

