

فصل ششم



درس چهارم

تفریق اعداد سه رقمی
در جدول ارزش مکانی

1 جاهای خالی را پر کن.

الف: ۸ صدتایی و ۲ دهتایی و ۲ یکی می شود

ب: ۴ صدتایی و ۰ دهتایی و ۱۲ یکی می شود

پ: ۲ صدتایی و ۱۲ دهتایی و ۷ یکی می شود

ت: ۵ صدتایی و ۹ دهتایی و ۰ یکی می شود

جاهای خالی را پر کن.



۸۳۲

الف: ۸ صدتایی و ۳ دهتایی و ۲ یکی می شود

۴۱۲

ب: ۴ صدتایی و ۱ دهتایی و ۲ یکی می شود

۳۲۷

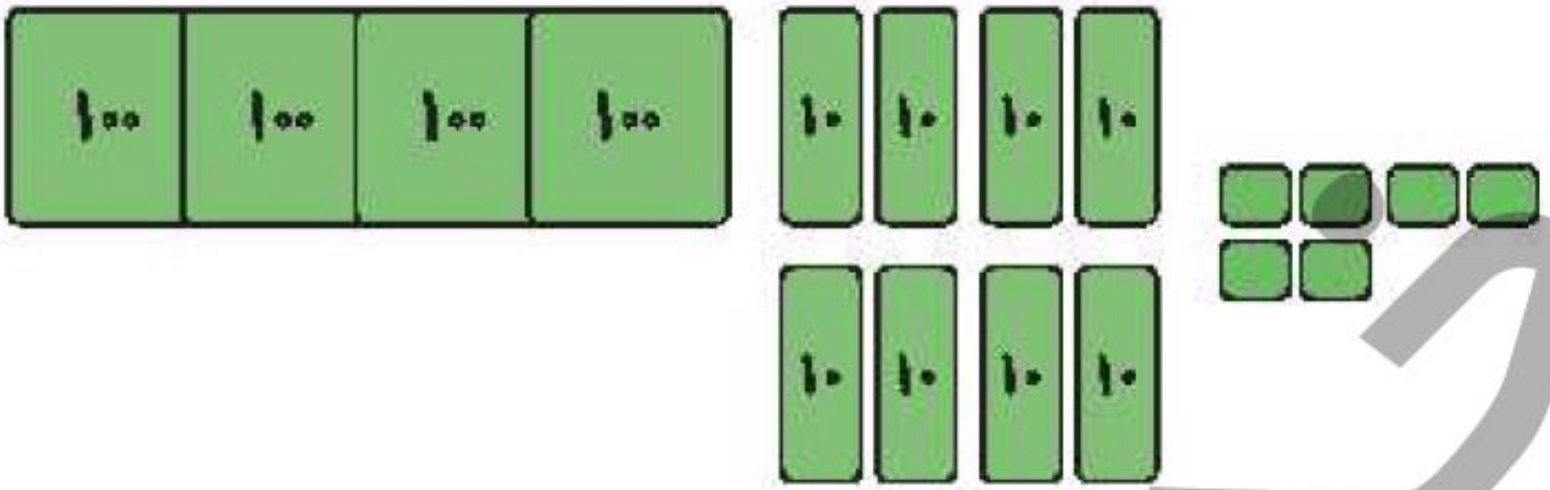
پ: ۳ صدتایی و ۲ دهتایی و ۷ یکی می شود

۵۹۰

ت: ۵ صدتایی و ۹ دهتایی و ۰ یکی می شود

حاصل تفریق‌های زیر را در جدول ارزش مکانی و روی شکل نشان بده.

الف:



ص	د	ی
۴	۸	۶
-۲	۳	۹

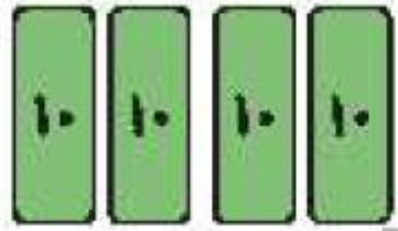
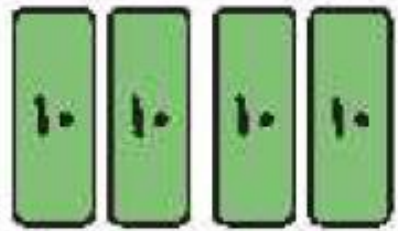
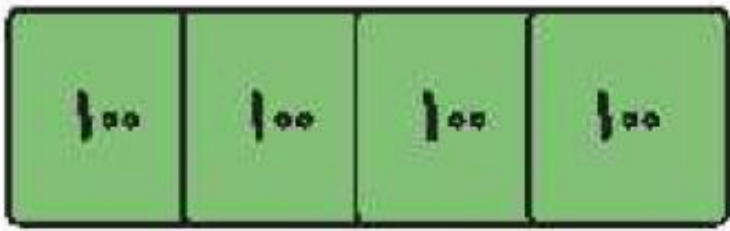
ب:



ص	د	ی
۲	۳	۸
-۱	۵	۵

حاصل تفریق‌های زیر را در جدول ارزش مکانی و روی شکل نشان بده.

الف:



ص	د	ی
۴	۸	۶
- ۲	۳	۹
۲	۴	۷

ب:



ص	د	ی
۱	۳	۸
- ۱	۵	۵
۰	۸	۳

۲ حاصل تفریق‌های زیر را بنویس. (به روش تکنیکی)

$$\begin{array}{r} 491 \\ -227 \\ \hline \end{array}$$

$$\begin{array}{r} 564 \\ -178 \\ \hline \end{array}$$

$$\begin{array}{r} 600 \\ -319 \\ \hline \end{array}$$

$$\begin{array}{r} 351 \\ -106 \\ \hline \end{array}$$

۴ مغازه‌داری ۳ دسته‌ی ۵۰ تایی نی دارد. او ۸۰ نی را به همراه آبمیوه فروخت. چند نی برایش باقی مانده است؟

۲

حاصل تفریق‌های زیر را بنویس. (به روش تکنیکی)

$$\begin{array}{r} 811 \\ -491 \\ \hline 227 \\ \hline 264 \end{array}$$

$$\begin{array}{r} 15 \\ 41614 \\ -564 \\ \hline 178 \\ \hline 386 \end{array}$$

$$\begin{array}{r} 9 \\ 51010 \\ -600 \\ \hline 319 \\ \hline 281 \end{array}$$

$$\begin{array}{r} 411 \\ -351 \\ \hline 106 \\ \hline 245 \end{array}$$

مغازه‌داری ۲ دسته‌ی ۵۰ تایی نی دارد. او ۸۰ نی را به همراه آبمیوه فروخت. چند نی برایش باقی مانده است؟

۴

$$50 + 50 + 50 = 150$$

$$\begin{array}{r} 150 \\ -80 \\ \hline 70 \end{array}$$

۷۰ نی برایش باقی ماند.

۱ گزینه‌های مناسب را به هم وصل کن.

۸ یکی و ۱۵ ده‌تایی

۵ ده‌تایی و ۱۴ یکی

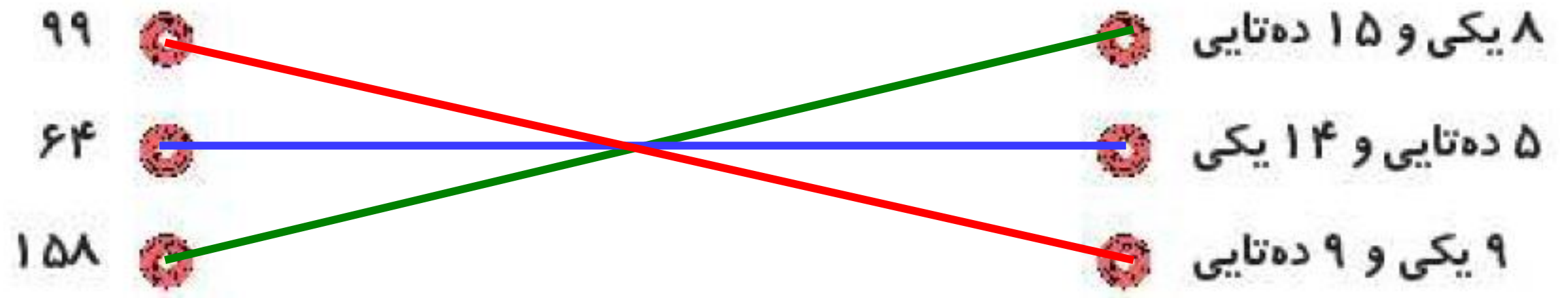
۹ یکی و ۹ ده‌تایی

۹۹

۶۴

۱۵۸

۱ گزینه‌های مناسب را به هم وصل کن.



۲ درستی و نادرستی هر عبارت را مشخص کن.



الف: ۶ دسته‌ی صدتایی و ۱۴ یکی برابر است با ۶۱۴.



ب: ۵ صدتایی و ۹ ده‌تایی و ۰ یکی می‌شود ۰۵۹۰.

پ: اگر به عدد ۱۵۳ یک دسته‌ی ده‌تایی اضافه کنیم برابر است با ۶۵۳.

ت: در تفریق به روش تکنیکی اول از صدگان شروع می‌کنیم.

۲ درستى  و نادرستى  هر عبارت را مشخص کن.

الف: ۶ دسته‌ی صدتایی و ۱۴ یکی برابر است با ۶۱۴.  

ب: ۵ صدتایی و ۹ ده‌تایی و ۰ یکی می‌شود ۰۵۹۰.  

پ: اگر به عدد ۱۵۳ یک دسته‌ی ده‌تایی اضافه کنیم برابر است با ۶۵۳.  

ت: در تفریق به روش تکنیکی اول از صدگان شروع می‌کنیم.  

جای خالی را با عدد مناسب پر کن.

۲

الف:

$$\begin{array}{r} 948 \\ - 5 \square 3 \\ \hline 385 \end{array}$$

ب:

$$\begin{array}{r} 419 \\ - 32 \square \\ \hline \square 95 \end{array}$$

پ:

$$\begin{array}{r} 856 \\ - 40 \square \\ \hline \square 52 \end{array}$$

کتاب برنا ۲۹۱ صفحه دارد. برنا یک بار ۸۲ صفحه و بار دیگر ۷۵ صفحه از آن را خوانده است. چند صفحه از کتابش

۴

باقی مانده است؟

جاهای خالی را با عدد مناسب پر کن. ۲

الف:
$$\begin{array}{r} 814 \\ - 948 \\ \hline 385 \end{array}$$

ب:
$$\begin{array}{r} 311 \\ - 419 \\ \hline \square \cdot \square 95 \end{array}$$

پ:
$$\begin{array}{r} 856 \\ - 4 \cdot \square \\ \hline \square 52 \end{array}$$

۴ کتاب برنا ۲۹۱ صفحه دارد. برنایک بار ۸۲ صفحه و بار دیگر ۷۵ صفحه از آن را خوانده است. چند صفحه از کتابش باقی مانده است؟

جاهای خالی را با عدد مناسب پر کن. ۲

الف:
$$\begin{array}{r} 814 \\ - 948 \\ \hline 385 \end{array}$$

ب:
$$\begin{array}{r} 311 \\ - 419 \\ \hline \square \cdot 95 \end{array}$$

پ:
$$\begin{array}{r} 856 \\ - 4 \cdot \square \\ \hline \square 52 \end{array}$$

۴ کتاب برنا ۲۹۱ صفحه دارد. برنایک بار ۸۲ صفحه و بار دیگر ۷۵ صفحه از آن را خوانده است. چند صفحه از کتابش

باقی مانده است؟

$$\begin{array}{r} 82 \\ + 75 \\ \hline 157 \end{array}$$

$$\begin{array}{r} 811 \\ - 291 \\ \hline 157 \end{array}$$

۱۳۴ صفحه باقی مانده است.

۳۲ دسته‌ی ده‌تایی مداد در یک مغازه وجود دارد. ۱۹۷ مداد فروش رفت. چند مداد در مغازه باقی مانده است؟

۵

درنا ۲۱ ریال پول دارد. برادرش ۳۲ ریال پیش‌تر از او دارد. برادر درنا چند ریال دارد؟

۶

۵ ۳۲ دسته‌ی ده‌تایی مداد در یک مغازه وجود دارد. ۱۹۷ مداد فروش رفت. چند مداد در مغازه باقی مانده است؟

$$\begin{array}{r} 11 \\ 211.0 \\ \underline{32.} \\ -197 \\ \hline 123 \end{array}$$

۱۲۳ مداد در مغازه باقی مانده است.

۶ درنا ۲۱۰ ریال پول دارد. برادرش ۳۲۰ ریال پیش‌تر از او دارد. برادر درنا چند ریال دارد؟

$$\begin{array}{r} 320 \\ +210 \\ \hline 530 \end{array}$$

۵۳۰ ریال دارد.

۷ حاصل تفریق‌های زیر را به دست بیاور. (به روش تکنیکی)

۸۰۹

$$\text{الف: } \underline{\underline{-۲۶۲}}$$

۵۵۱

$$\text{ب: } \underline{\underline{-۳۲۷}}$$


۶۰۳

$$\text{پ: } \underline{\underline{-۴۲۰}}$$

۳۰۰

$$\text{ت: } \underline{\underline{-۱۳۰}}$$

۱۱

حاصل تفریق‌های زیر را به دست بیاور. (به روش تکنیکی) 

۷۱۰

~~۸۰۹~~الف: $\frac{-۲۶۲}{-۸۰۹}$

۵۴۷

۴۱۱

~~۵۵۱~~ب: $\frac{-۳۲۷}{-۵۵۱}$

۲۲۴

۵۱۰

~~۶۰۳~~پ: $\frac{-۴۲۰}{-۶۰۳}$

۱۸۳

۲۱۰

~~۳۰۰~~ت: $\frac{-۱۳۰}{-۳۰۰}$

۱۷۰

ساعتها را از اثنهای کتاب کله جدا کن. آنها را طوری کنار هم قرار بده و بچسبان که یک الگو ساخته شود.

A large rectangular area with a dashed border, intended for a drawing or activity. The area is empty, providing space for the student to follow the instructions and create a pattern.

ساعتها را از انتهای کتاب کالر جدا کن. آنها را طوری کنار هم قرار بده و بچسبان که یک الگو ساخته شود.



با توجه به سوالات داده شده، گزینه‌ی صحیح را انتخاب کن.

الف: آشپزی می‌خواهد یک نوع بیسکویت بپزد. او باید فر (نوعی اجاق) را به مدت ۱۰ دقیقه گرم کند و بیسکویت را به مدت ۱۲ دقیقه بپزد. آشپز می‌خواهد پختن بیسکویت را در ساعت ۱۱ تمام کند. دیرترین زمانی که او باید فر را روشن کند، کدام است؟

۱۰:۲۲ (۴)

۱۰:۵۰ (۳)

۱۰:۴۸ (۲)

۱۰:۲۸ (۱)

ب: اگر شما یکی از عددهای زیر را از ۹۰۰ کم کنید، پاسخ آن از ۳۰۰ بزرگ‌تر خواهد شد. آن عدد کدام است؟

۵۷۹ (۴)

۶۶۷ (۳)

۷۱۲ (۲)

۸۲۳ (۱)

با توجه به سوالات داده شده، گزینه‌ی صحیح را انتخاب کن.

الف: آشپزی می‌خواهد یک نوع بیسکویت بپزد. او باید فر (نوعی اجاق) را به مدت ۱۰ دقیقه گرم کند و بیسکویت را به مدت ۱۲ دقیقه بپزد. آشپز می‌خواهد پختن بیسکویت را در ساعت ۱۱ تمام کند. دیرترین زمانی که او باید فر را روشن کند، کدام است؟

۱۰:۲۲ (۴)

۱۰:۵۰ (۳)

۱۰:۴۸ (۲)

۱۰:۲۸ (۱)

ب: اگر شما یکی از عددهای زیر را از ۹۰۰ کم کنید، پاسخ آن از ۳۰۰ بزرگ‌تر خواهد شد. آن عدد کدام است؟

۵۷۹ (۴)

۶۶۷ (۳)

۷۱۲ (۲)

۸۲۳ (۱)