

۱- حاصل جمع و تفریق‌ها را از راه تکنیکی به دست بیاور و جواب‌ها را از کوچک به بزرگ بنویس.

$$\begin{array}{r} 564 \\ + 247 \\ \hline \end{array}$$

$$\begin{array}{r} 775 \\ + 188 \\ \hline \end{array}$$

$$\begin{array}{r} 975 \\ - 368 \\ \hline \end{array}$$

$$\begin{array}{r} 800 \\ - 152 \\ \hline \end{array}$$

$$\boxed{\phantom{000}} < \boxed{\phantom{000}} < \boxed{\phantom{000}} < \boxed{\phantom{000}}$$

۲- قد پدر نیلا ۱۷۶ سانتی متر است. اگر نیلا ۲۹ سانتی متر از پدرش کوتاه تر باشد، اندازه‌ی قد نیلا چقدر است؟

۳- اعداد زیر را به صورت باز شده بنویس.

$$309 = \dots\dots\dots$$

$$845 = \dots\dots\dots$$

$$670 = \dots\dots\dots$$



تاریخ

نام و نام خانوادگی

موضوع: کاربرد عیدانه (۲)

درس: ریاضی



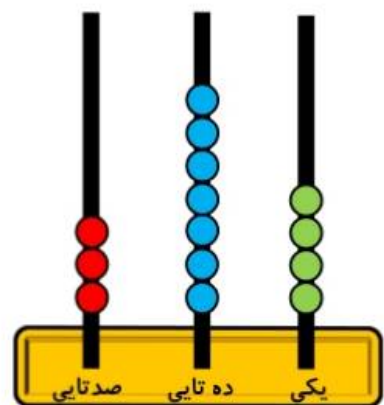
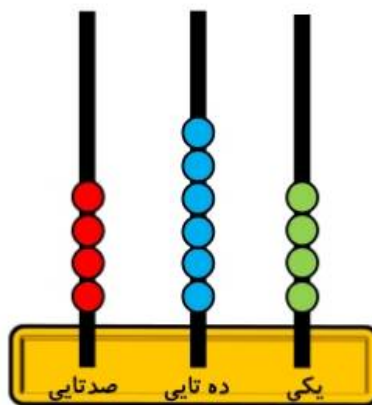
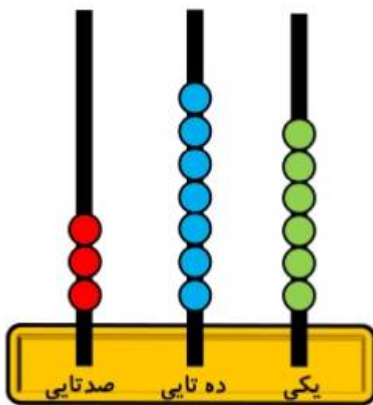
۴- در جاهای خالی عدد مناسب بنویس.

۴۰ میلی متر ..... سانتی متر است.

۲ سانتی متر و ۵ میلی متر یعنی ..... میلی متر است.

۶۷ میلی متر یعنی ..... سانتی متر و ..... میلی متر است.

۵- کدامیک از چرتکه های زیر عدد بزرگتری را نشان می دهد؟



.....

.....

.....