

نام و نام خانوادگی: _____ تاریخ: _____ موضوع: _____ هدف: _____

	<p>جمله ها را کامل کنید.</p> <p>* اندازه ی سنجاق سر کم تر از سانتی متر است.</p> <p>* اندازه ی سنجاق سر سانتی متر و میلی متر است.</p> <p>* اندازه ی سنجاق سر سانتی متر و قسمت از ۱۰ قسمت کوچک است.</p> <p>* اندازه ی هویج کم تر از سانتی متر است.</p> <p>* اندازه ی هویج سانتی متر و میلی متر است.</p> <p>* اندازه ی هویج سانتی متر و قسمت از ۱۰ قسمت کوچک است.</p>
<p>جاهای خالی را با عدد مناسب پر کنید.</p> <p>▲ عدد ۷۹ را می توانیم به صورت ده تایی و قسمت از ۱۰ بیان کنیم.</p> <p>▲ عدد ۳۴ را می توانیم به صورت ده تایی و قسمت از ۱۰ بیان کنیم.</p> <p>▲ عدد ۵۲ را می توانیم به صورت ده تایی و قسمت از ۱۰ بیان کنیم.</p>	
<p>شکل هایی را که به قسمت های مساوی تقسیم شده اند با علامت ✓ و بقیه را با علامت ✗ مشخص کنید.</p> <div style="display: flex; justify-content: space-around;"> <div style="text-align: center;"> <p><input type="checkbox"/></p> </div> <div style="text-align: center;"> <p><input type="checkbox"/></p> </div> <div style="text-align: center;"> <p><input type="checkbox"/></p> </div> <div style="text-align: center;"> <p><input type="checkbox"/></p> </div> </div>	
<p>با عدد های مناسب بنویسید چه قسمتی از هر شکل رنگی است .</p> <div style="display: flex; justify-content: space-around;"> <div style="text-align: center;"> <p>..... قسمت از قسمت</p> </div> <div style="text-align: center;"> <p>..... قسمت از قسمت</p> </div> <div style="text-align: center;"> <p>..... قسمت از قسمت</p> </div> <div style="text-align: center;"> <p>..... قسمت از قسمت</p> </div> </div>	
<p>نقطه ی مشخص شده با فلش چه چیزی را نشان می دهد؟</p> <div style="text-align: center;"> </div> <p>نقطه ی مشخص شده واحد و قسمت از قسمت مساوی را نشان می دهد.</p>	

بازخورد:








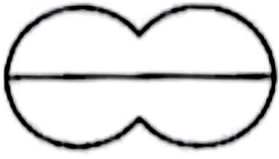
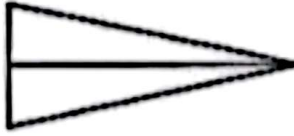
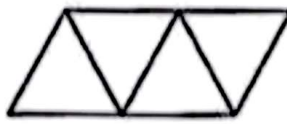




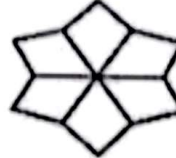


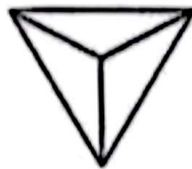

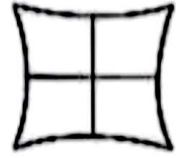
موضوع:

تاریخ:

نام و نام خانوادگی:

هدف:

✓ به اندازه کسر نوشته شده، از هر شکل رنگ کن.

			
۶ قسمت از ۸ قسمت مساوی	۴ قسمت از ۴ قسمت مساوی	۱ قسمت از ۴ قسمت مساوی	۲ قسمت از ۲ قسمت مساوی
			
۱ قسمت از ۲ قسمت مساوی	۲ قسمت از ۴ قسمت مساوی	۸ قسمت از ۱۲ قسمت مساوی	۱ قسمت از ۲ قسمت مساوی
			
۳ قسمت از ۴ قسمت مساوی	۱ قسمت از ۲ قسمت مساوی	۴ قسمت از ۶ قسمت مساوی	۱ قسمت از ۳ قسمت مساوی
			
۱ قسمت از ۳ قسمت مساوی	۳ قسمت از ۳ قسمت مساوی	۳ قسمت از ۸ قسمت مساوی	۲ قسمت از ۴ قسمت مساوی

