





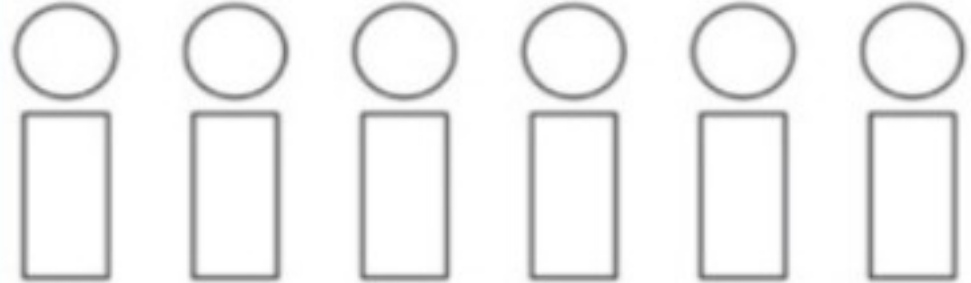





موضوع:

تاریخ

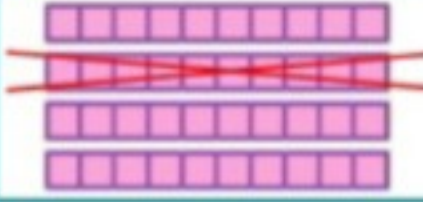
نام و نام خانوادگی

هدف:

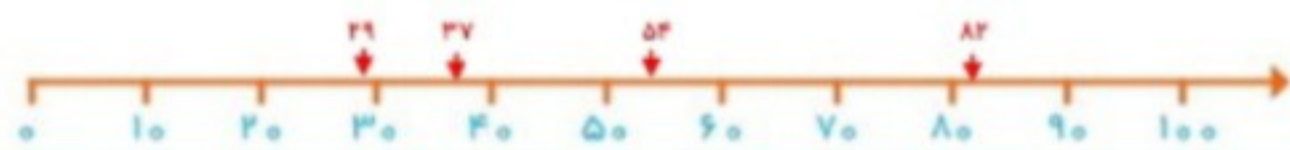
	<p>پاسخ جمع و تفریق زیر را با استفاده از شکل مناسب به دست آورید.</p> <p><math>8 + 9 = \dots\dots</math>  <math>13 - 8 = \dots\dots</math></p>	7
	<p>جمع و تفریق های داده شده را روی محور نشان دهید.</p> <p><math>16 - 7 = \dots\dots</math></p>  <p><math>5 + 9 = \dots\dots</math></p> 	8
	<p>جمع و تفریق های داده شده را به صورت ذهنی انجام دهید.</p> <p><math>4 \text{ ده تایی} + 5 \text{ ده تایی} = \dots\dots\dots</math>      <math>2 \text{ ده تایی} + 6 \text{ ده تایی} = \dots\dots\dots</math></p> <p><math>70 - 30 = \dots\dots</math>      <math>60 + 20 = \dots\dots</math>      <math>90 - 60 = \dots\dots</math>      <math>30 + 40 = \dots\dots</math></p>	9
	<p>اگر برای رنگ کردن دایره از رنگ های قهوه ای، قرمز و آبی و برای رنگ کردن مستطیل رنگ های زرد و نارنجی را به کار ببریم به چند حالت می توانیم این شکل را رنگ کنیم؟ ..... با رنگ کردن انجام دهید.</p> 	10
	<p>پاسخ تفریق مقابل را با استفاده از محور داده شده به دست آورید.</p> <p><math>80 - 30 = \dots\dots</math></p> 	11
	<p>اگر عقربه ی بزرگ ساعت حرکت کند جاهای خالی را پر کنید.</p>  	12
	<p>34 به کدام عدد نزدیک تر است دورش خط بکشید.</p> <p>30      " 34 "      40</p>	13
	<p>سارینا 27 عدد از شکلات های خود را به برادرش که 49 شکلات داشت داد. بعد برادرش یک بسته ی 18 تایی شکلات درست کرده و به مادرش هدیه داد. چند شکلات برای برادرش می ماند؟</p>	14



برای شکل داده یک تفریق بنویسید.

۱.   $40 - 10 = 30$

محل تقریبی اعداد ۳۷، ۸۲، ۲۹، ۵۴ را روی محور زیر نشان دهید.

۲. 

حاصل جمع و تفریق‌ها را به صورت تقریبی به دست آورید.

۳.  $46 \rightarrow 30$      $28 \rightarrow 30$      $63 \rightarrow 60$      $91 \rightarrow 90$   
 $+ 18 \rightarrow 20$      $- 15 \rightarrow 10$      $+ 28 \rightarrow 30$      $- 34 \rightarrow 30$   
 $50$      $20$      $90$      $60$

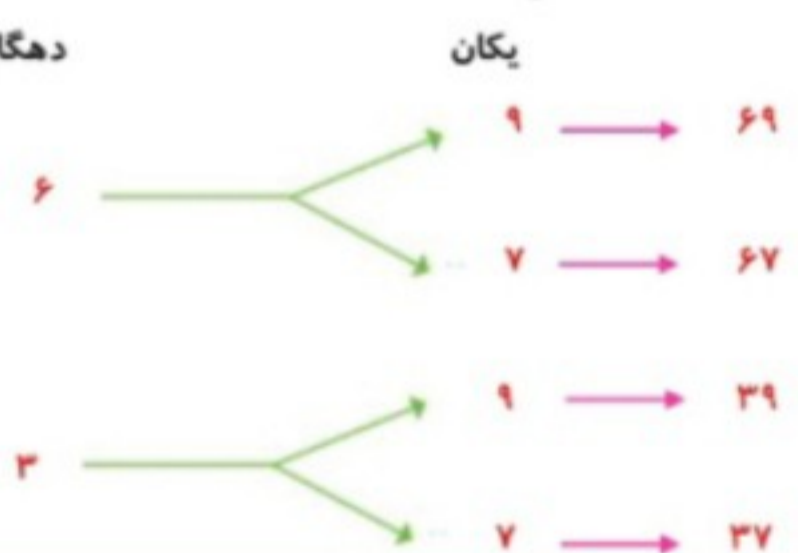
جمع و تفریق‌های زیر را به صورت فرآیندی انجام دهید.

۴. 
$$\begin{array}{r} 26 \\ + 52 \\ \hline 78 \end{array}$$
    
$$\begin{array}{r} 28 \\ - 15 \\ \hline 13 \end{array}$$
    
$$\begin{array}{r} 65 \\ + 28 \\ \hline 93 \end{array}$$
    
$$\begin{array}{r} 91 \\ - 34 \\ \hline 57 \end{array}$$

همه‌ی اعداد دو رقمی که یکان آن‌ها ۹ و دهگان آن‌ها ۶ باشد را با دو روش خوشه‌ای و جدولی بنویسید.

۵. 

دهگان	یکان
۶	۹
۶	۷
۳	۹
۳	۷



جدول‌های داده شده را تکمیل کنید.

۶. 

-	۹	۸	۷	۶
۳۵	۲۶	۲۷	۲۸	۲۹
۸۶	۷۷	۷۸	۷۹	۸۰
۲۴	۱۵	۱۶	۱۷	۱۸

+	۹	۸	۷	۶
۵۵	۶۴	۶۳	۶۲	۶۱
۲۶	۳۵	۳۴	۳۳	۳۲
۶۷	۷۶	۷۵	۷۴	۷۳





نام و نام خانوادگی: \_\_\_\_\_ تاریخ: \_\_\_\_\_ موضوع: \_\_\_\_\_ هدف: \_\_\_\_\_

۷	<p>پاسخ جمع و تفریق زیر را با استفاده از شکل مناسب به دست آورید.</p> <p><math>8 + 9 = 17</math> </p> <p><math>13 - 8 = 5</math> </p>	
۸	<p>جمع و تفریق های داده شده را روی محور نشان دهید.</p> <p><math>16 - 7 = 9</math> </p> <p><math>5 + 9 = 14</math> </p>	
۹	<p>جمع و تفریق های داده شده را به صورت ذهنی انجام دهید.</p> <p>ده تایی = <math>2 + 6 = 8</math>      ده تایی = <math>4 + 5 = 9</math></p> <p><math>70 - 30 = 40</math>      <math>60 + 20 = 80</math>      <math>90 - 60 = 30</math>      <math>30 + 40 = 70</math></p>	
۱۰	<p>اگر برای رنگ کردن دایره از رنگ های قهوه ای و قرمز آبی و برای رنگ کردن مستطیل رنگ های زرد و نارنجی را به کار ببریم به چند حالت می توانیم این شکل را رنگ کنیم؟ <b>۶ حالت</b> با رنگ کردن انجام دهید.</p>	
۱۱	<p>پاسخ تفریق مقابل را با استفاده از محور داده شده به دست آورید.</p> <p><math>80 - 30 = 50</math> </p>	
۱۲	<p>اگر عقربه ی بزرگ ساعت حرکت کند جاهای خالی را پر کنید.</p>	
۱۳	<p>۳۴ به کدام عدد نزدیک تر است دورش خط بکشید.</p> <p><input checked="" type="radio"/> ۳۰      " ۳۴ "      ۴۰</p>	
۱۴	<p>سارینا ۲۷ عدد از شکلات های خود را به برادرش که ۴۹ شکلات داشت داد. بعد برادرش یک بسته ی ۱۸ تایی شکلات درست کرده و به مادرش هدیه داد. چند شکلات برای برادرش می ماند؟ <b>۵۸</b></p> <p><math>27 + 49 = 76</math></p> <p><math>76 - 18 = 58</math></p> <p>(بهتر است ستونی فرآیندی حل شوند)</p>	

