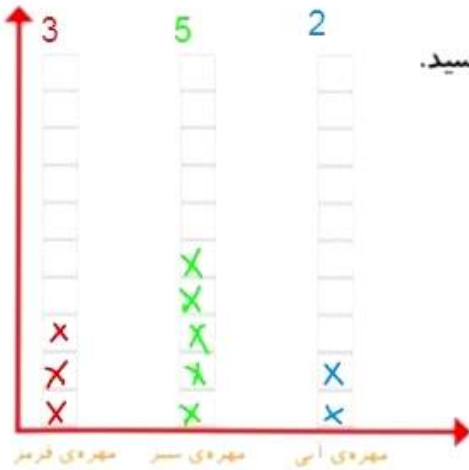


۱- در داخل کیسه ۵ تا مهره‌ی سبز و ۴ تا مهره‌ی قرمز و ۳ تا مهره‌ی آبی قرار دهید. هر بار بدون نگاه کردن به داخل آن، یکی را در بیاورید و یک مربع از نمودار زیر را رنگ کنید: مهره را دوباره در داخل کیسه قرار دهید. این آزمایش را ۱۰ بار تکرار کنید و نمودار را کامل کنید.



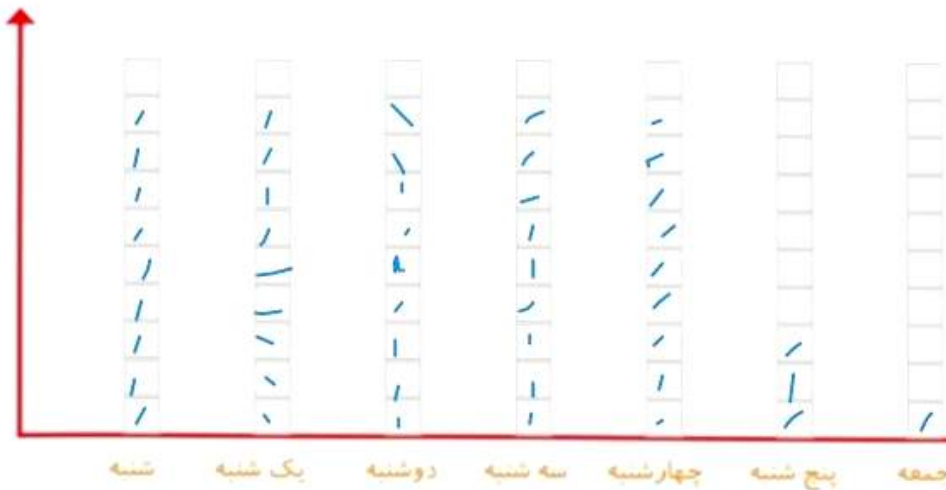
### فعالیت



تعداد مربع‌های رنگ شده را بالای ستون آن رنگ بنویسید.



۲- نمودار ستونی ساعات درس خواندن (مدرسه، انجام تکالیف و مطالعه) خود را با رنگ کردن یک مربع برای هر ساعت کامل کنید.



با رسم کردن نمودارهای ستونی نمایش بهتری از اطلاعات خواهیم داشت و مقایسه کردن ساده‌تر می‌شود. شما به راحتی می‌توانید بیشترین و کمترین مقدارها را پیدا کنید.

### الگویابی کن

الگوها را ادامه دهید.

اعددهای فرد: ۱، ۳، ۵، ۷، ۹، ۱۱، ۱۳، ۱۵، ۱۷، ۱۹، ۲۱، ۲۳، ۲۵

اعددهای زوج: ۲، ۴، ۶، ۸، ۱۰، ۱۲، ۱۴، ۱۶، ۱۸، ۲۰، ۲۲، ۲۴

مهم: برای تشخیص اعداد زوج و فرد، به یکان آن‌ها نگاه می‌کنیم

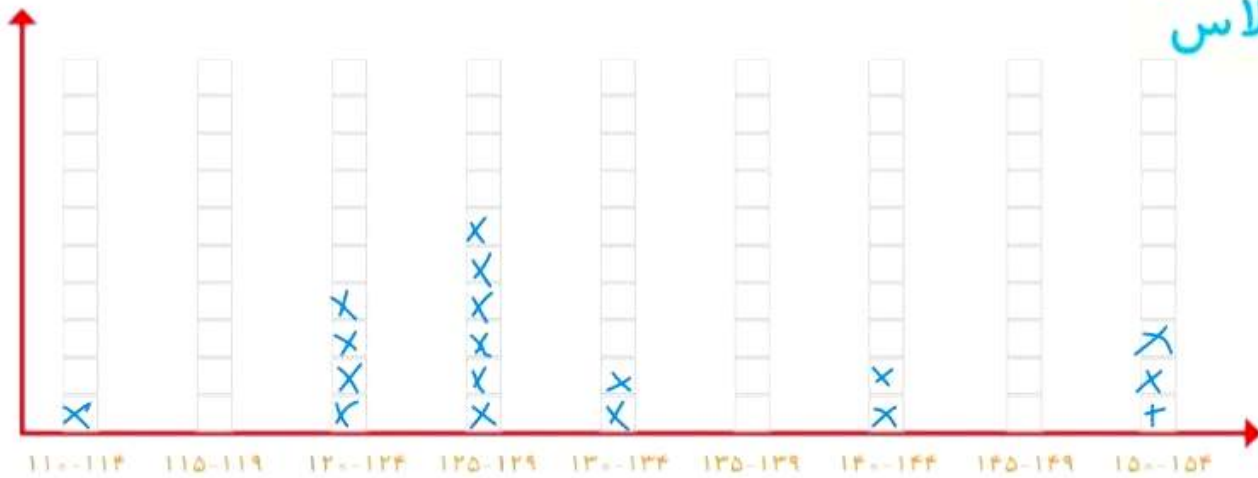
۰، ۲، ۴، ۶، ۸ یکان → عدد زوج

۱، ۳، ۵، ۷، ۹ یکان → عدد فرد



کار در کلاس

۱- به کمک آموزگار قد دانش آموزان کلاس را اندازه بگیرید. با توجه به عددهای نوشته شده برای هر نفر در ستون مربوطه یک مربع رنگ کنید. برای مثال اگر قد دانش آموزی ۱۲۳ سانتی متر بود، شما باید در ستون ۱۲۰-۱۲۴ یک مربع برای او رنگ کنید.



بیشترین گروه: ۱۲۵-۱۲۹

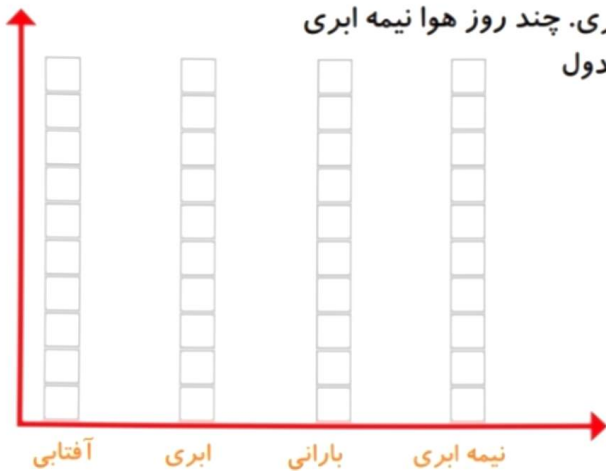
۲- همین کار را برای وزن هم انجام دهید. آموزگار وزن هر کس را اعلام کرد، شما در ستون مربوطه یک مربع را رنگ کنید.



بیشترین گروه: ۲۰-۲۹

۱ ۳ ۲

۱- امیر وضعیت هوای روزهای مختلف ۴ هفته را یادداشت کرده است: ۴ روز آفتابی، ۶ روز ابری، ۸ روز بارانی و بقیه‌ی روزها نیمه‌ابری. چند روز هوا نیمه ابری بوده است؟ نمودار وضعیت آب‌وهوا و جدول مربوط به آن را کامل کنید.



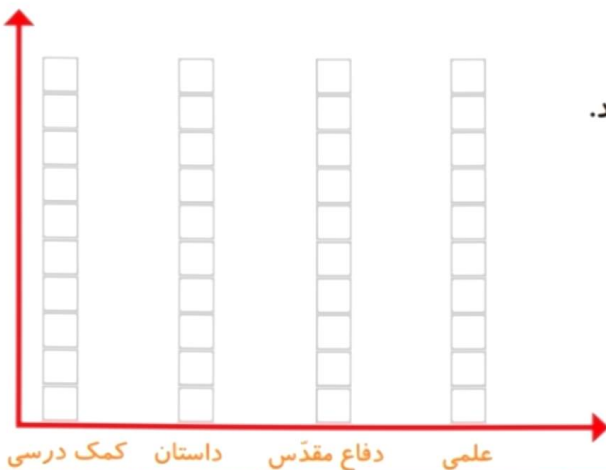
وضعیت هوا	تعداد روز
آفتابی	
ابری	
بارانی	
نیمه ابری	



### تمرین



۲- ریحانه در یک سال تحصیلی ۶ کتاب کمک درسی، ۱۰ کتاب داستان، ۸ کتاب دفاع مقدس، ۶ کتاب علمی از کتابخانه‌ی مدرسه امانت گرفت و خواند. نمودار کتاب‌های خوانده شده را کامل کنید. به نظر شما ریحانه به چه نوع کتابی بیشتر علاقه دارد؟ چرا؟



### کامل کن

تعداد هر قسمت را با کامل کردن جمله‌ها مشخص کنید.



\_\_\_\_\_ تا ۴ تایی می‌شود \_\_\_\_\_



\_\_\_\_\_ تا \_\_\_\_\_ تایی می‌شود \_\_\_\_\_



\_\_\_\_\_ تا \_\_\_\_\_ تایی می‌شود \_\_\_\_\_



\_\_\_\_\_ تا \_\_\_\_\_ تایی می‌شود \_\_\_\_\_