


فعالیت کلاسی



۱ در جدول زیر تعداد دفعاتی را که درنا از یک رنگ در نقاشی‌هایش استفاده کرده نشان داده شده است. آن‌ها را در نمودار ستونی زیر نشان بده و سپس دو پرسش بساز و خودت پاسخ بده.

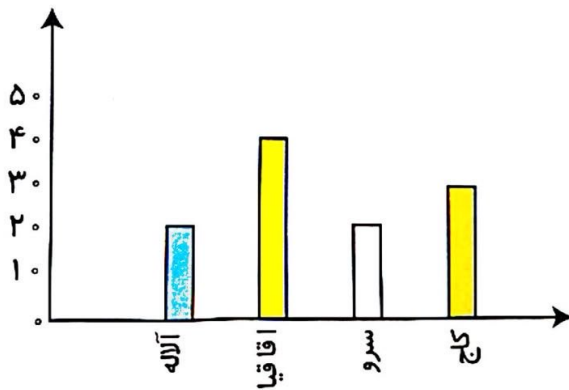
نام رنگ	سبز	آبی	قرمز	نارنجی	صورتی	زرد
تعداد دفعات استفاده شده	۴	۳	۲	۷	۵	۶



الف: کدام رنگ از همه بیشتر است؟ نارنجی

ب: کدام رنگ از همه کمتر است؟ قرمز

۲ به نمودار زیر توجه کن، سپس جاهای خالی را کامل کن.



شهرداری یک شهرستان یک سرشماری بر روی تعداد خانه‌های چند کوچه در یک محله انجام داده است. سپس نمودار آن را رسم کرده است. از این نمودار می‌توان فهمید که تعداد خانه‌های کوچه‌ی آقا قاقا از همه کوچه‌ها بیش‌تر است. تعداد خانه‌های کوچه‌ی سرو و آله با هم برابر است. تعداد خانه‌های کوچه‌ی کاج از تعداد خانه‌های کوچه‌ی آله است.

۳ اعداد زوج را رنگ کن.

۲۵

۲۰

۳۴

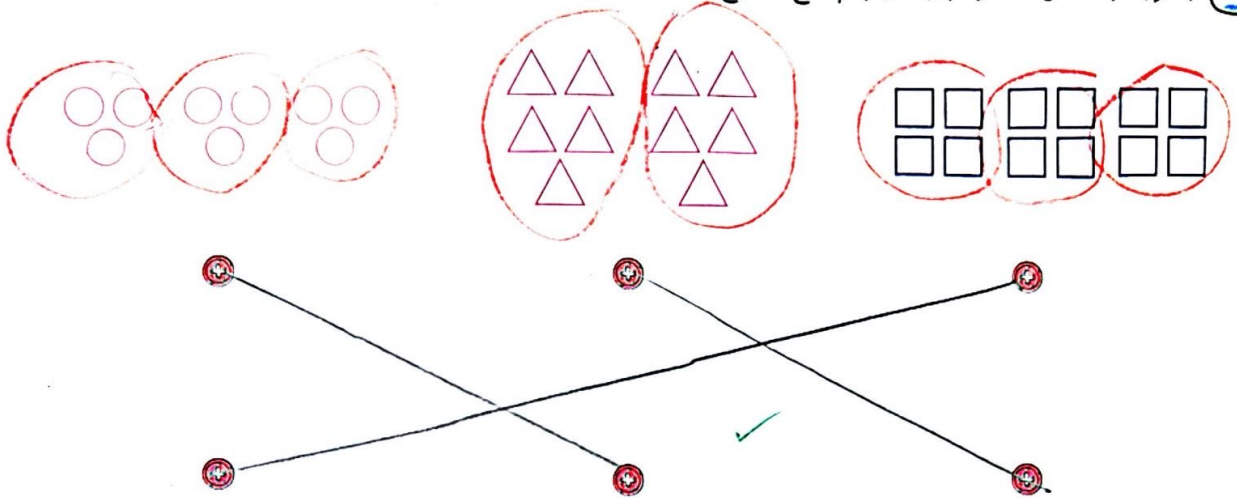
۳۱۲

۷

ریاضی دوم دبستان

۱۹۰

۱ با توجه به شکل‌ها، هر عبارت را به پاسخ صحیح آن وصل کن.

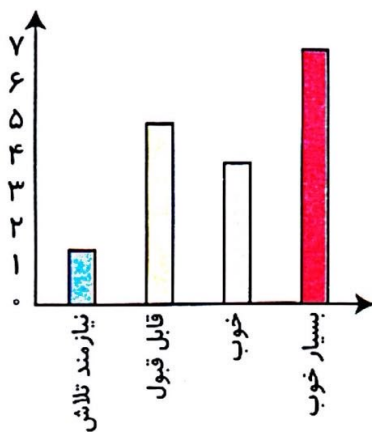


۳ دسته‌ی ۴ تایی می‌شود ۱۲ تا

۳ دسته‌ی ۳ تایی می‌شود ۹ تا

۲ دسته‌ی ۵ تایی می‌شود ۱۰ تا

۲ با توجه به نمودار، درستی و نادرستی هر عبارت را مشخص کن.



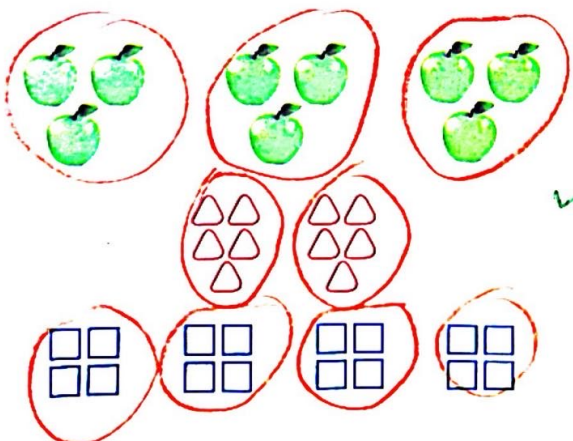
الف: تمام دانش‌آموزان کلاس نمرات بدی کسب کرده‌اند.

ب: بیش‌تر دانش‌آموزان نمره‌ی بسیار خوب کسب کرده‌اند.

پ: تعداد دانش‌آموزانی که بسیار خوب دریافت کرده‌اند کم‌تر از تعداد دانش‌آموزانی است که قابل قبول کسب کرده‌اند.

دانش‌آموزانی است که قابل قبول کسب کرده‌اند.

۳ با توجه به شکل‌ها، در جای خالی عدد مناسب بنویس.



الف: دسته‌ی ۳ تایی می‌شود تا.

ب: دسته‌ی ۵ تایی می‌شود تا.

پ: دسته‌ی تایی می‌شود ۱۶ تا.

۴ الف: تمام عددهای ۵۵، ۶۷، ۸۱، ۱۷، هستند، چون رقم یکان آن‌ها است.


ب: تمام عددهای ۴۶، ۳۴، ۹۲، ۸۰، هستند، چون رقم یکان آن‌ها است.



۵ رنگ‌های جدول روبه‌رو، رنگ‌های مورد علاقه‌ی دانش‌آموزان کلاس دوم هستند. نمودار ستونی مربوط به جدول را رنگ و کامل کن، سپس به سؤالات پاسخ بده.

رنگ	زرد	بنفش	آبی	قرمز
تعداد (نفر)	۵	۲	۷	۳
چوب خط				

الف: مجموع تعداد افرادی که رنگ مورد علاقه‌ی آنان بنفش و آبی است چند نفر هستند؟ $۷ + ۲ = ۹$ نفر هستند.



ب: بیش‌ترین افراد، چه رنگی را دوست دارند؟ آبی

پ: کم‌ترین افراد، چه رنگی را دوست دارند؟ بنفش

ت: تعداد کل دانش‌آموزان چند نفر است؟ ۱۷ نفر هستند.

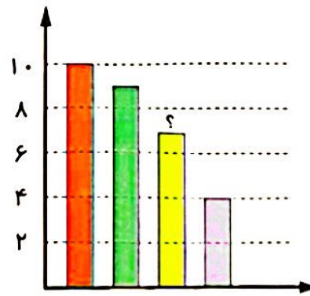
$$۵ + ۲ + ۷ + ۳ = ۱۷$$

۶ با توجه به سؤالات داده شده، گزینه‌ی صحیح را انتخاب کن.

الف: یک معلم از ۳۰ دانش‌آموز کلاس خود پرسید چه نوع بستنی را بیشتر دوست دارند. او پاسخ‌های دانش‌آموزان را در جدول زیر ثبت کرده است.

در نمودار میله‌ای زیر، میله‌ای که با؟ مشخص شده، نشان دهنده‌ی کدام نوع بستنی است؟

بستنی مورد علاقه	تعداد دانش‌آموزان
موزی	
شکلاتی	
توت‌فرنگی	
زعفرانی	



- (۱) موزی
- (۲) شکلاتی
- (۳) توت‌فرنگی
- (۴) زعفرانی

ب: در یک خیابان خانه‌های یک سمت با اعداد فرد متوالی، ۱ تا ۳۹ شماره‌گذاری شده‌اند و خانه‌های سمت دیگر با اعداد زوج متوالی ۲ تا ۳۸ شماره‌گذاری شده‌اند. چند خانه در این خیابان وجود دارد؟

فرد: ۱-۳-۵-۷-۹-۱۱-۱۳-۱۵-۱۷-۱۹-۲۱-۲۳-۲۵-۲۷-۲۹-۳۱-۳۳-۳۵-۳۷-۳۹
 زوج: ۲-۴-۶-۸-۱۰-۱۲-۱۴-۱۶-۱۸-۲۰-۲۲-۲۴-۲۶-۲۸-۳۰-۳۲-۳۴-۳۶-۳۸

ریاضی دوم دبستان

