

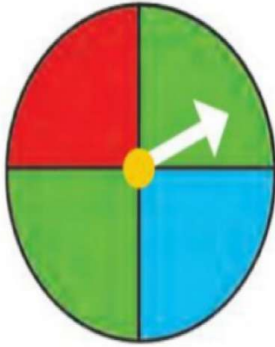


موضوع:

تاریخ:

نام و نام خانوادگی:


هدف:



۲- یک چرخنده مثل شکل روبه رو درست کنید.

آن را بچرخانید. پس از ایستادن، عقربه روی کدام رنگ قرار دارد؟ در محل مربوط به آن رنگ یک چوب خط بکشید. این آزمایش را ۱۰ مرتبه انجام دهید و جدول را کامل کنید.

تعداد	چوب خط	رنگ
۵	////	سبز
۳	///	قرمز
۲	//	آبی
۱۰	//// //	مجموع





موضوع:

تاریخ

نام و نام خانوادگی

هدف:


۱- ستاره در هر روز برای هر کار خوبی که می‌کرد، یک چوب خط جلوی آن روز رسم می‌کرد. کارهای خوب ستاره در یک هفته به صورت جدول زیر درآمده است. جدول را کامل کنید.



کار در کلاس



روز	چوب خط	تعداد
شنبه	### ///	۸
یکشنبه	### ###	۱۰
دوشنبه	### //	۷
سه شنبه	###	۵
چهارشنبه	////	۴
پنج شنبه	### ### /	۱۱
جمعه	### ### /	۱۱
	مجموع	۵۶





موضوع:

تاریخ

نام و نام خانوادگی

هدف:

۲- رضا مقدار زمان انجام تکالیف و مطالعه‌ی خود را در یک هفته نوشته است. مقدار انجام تکالیف بیشتر از نیم ساعت را یک ساعت کامل در نظر می‌گرفت و اگر زمان کمتر از نیم ساعت می‌شد، آن مقدار را حذف می‌کرد. جدول او به صورت زیر درآمده است.

روز	شنبه	یکشنبه	دوشنبه	سه‌شنبه	چهارشنبه	پنج‌شنبه	جمعه
ساعت	۳	۲	۲	۱	۳	۳	۴



در کدام روز بیشترین مقدار کار را انجام داده است؟ **جمعه**

در کدام روز کمترین مقدار کار را انجام داده است؟ **سه‌شنبه**

در این هفته چند ساعت کار کرده است؟ **۱۸**

