



موضوع:

تاریخ

نام و نام خانوادگی

هدف:

کاربرک فصل هفتم، کسر و احتمال

با شابلون ۱۰ دایره رسم کنید. ۷ تایی آن ها را آبی کنید. بعد با چشمان بسته روی این دایره ها دست بگذارید. به احتمال زیاد شما روی کدام رنگ دست گذاشته اید؟.....

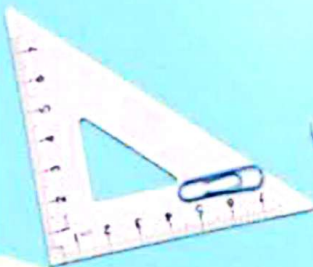


چرا؟.....



در داخل یک کیسه ۱۵ سیب و ۲ پرتقال وجود دارد. اگر از داخل کیسه میوه در بیاوریم، شانس کدام میوه بیشتر است؟.....

چرا؟.....





موضوع:


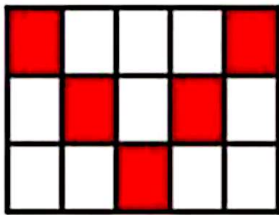
تاریخ

نام و نام خانوادگی

هدف:





در مورد هر شکل جملات را کامل کنید.



.... قسمت از قسمت مساوی رنگ شده است.

.... قسمت از قسمت مساوی رنگ شده است.



.... قسمت از قسمت مساوی رنگ شده است.

.... قسمت از قسمت مساوی رنگ شده است.

