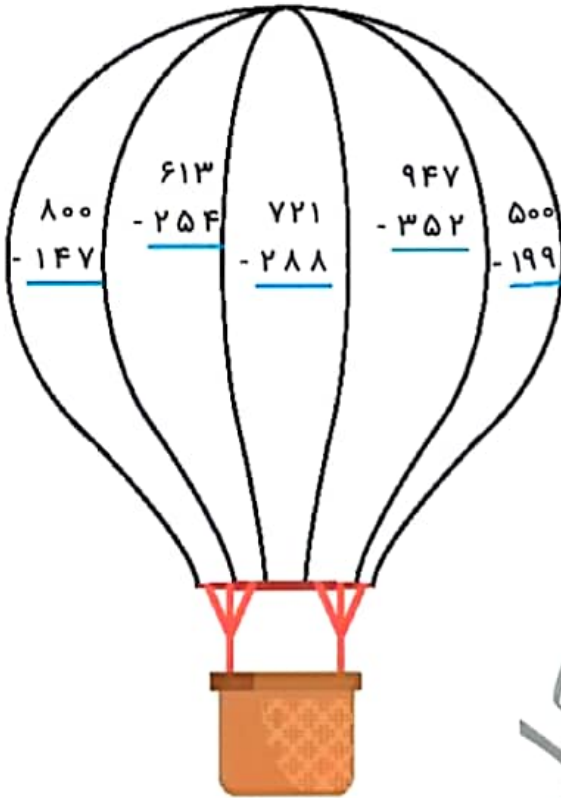


موضوع	شماره سؤال	هفته آموزشی
هوش ریاضی- جمع و تفریق اعداد سه رقمی	۱	بیست و چهارم
هوش کلامی	۲	
هوش فضایی	۳	
سرعت، دقت، تمرکز	۴	

۱. با توجه به راهنما، بالن را رنگ آمیزی کن.

رنگ	عدد
آبی	۳۰۰ - ۴۰۰
زرد	۴۰۰ - ۵۰۰
سبز	۵۰۰ - ۶۰۰
قرمز	۶۰۰ - ۷۰۰



۲. به پرسش‌ها پاسخ بده و رمز قفل را پیدا کن.

- ◆ نشانه‌ی اول و آخر کلمه‌ی «نان»:
- ◆ دومین نشانه در کلمه‌ی «خوشحال»:
- ◆ اولین نشانه در کلمه‌ی «راست‌گو»:
- ◆ چهارمین نشانه در کلمه‌ی «ابرو»:
- ◆ اولین نشانه در کلمه‌ی «زاگرس»:



نشانه‌های به‌دست آمده را به‌ترتیب کنار هم بگذار و رمز قفل را پیدا کن.





۱- با سرعت بیشتری جواب جمع و تفریق‌های زیر را پیدا کنید.

$$۴۳۰ + ۲۰۰ =$$

$$۵۲۰ + ۳۰۰ =$$

$$۶۲۰ - ۴۰۰ =$$

$$۷۳۰ - ۲۰۰ =$$

$$۱۷۰ + ۵۰۰ =$$

$$۹۸۰ - ۶۰۰ =$$

۲- قد سعید ۱۳۶ سانتی‌متر است. قد خواهرش ۱۰ سانتی‌متر از او بلندتر است. قد خواهرش چند سانتی‌متر است؟



۳- حمیده در مرحله‌ی اول یک مسابقه ۲۱۰ امتیاز گرفت. در مرحله‌ی دوم ۳۴۰ امتیاز گرفت، حالا او چند امتیاز دارد؟



در مرحله‌ی سوم ۵۰ امتیاز از او کم شد. حمیده چند امتیاز دارد؟

توضیح دهید چگونه ۲ عدد ۳ رقمی را با هم مقایسه می کنیم.

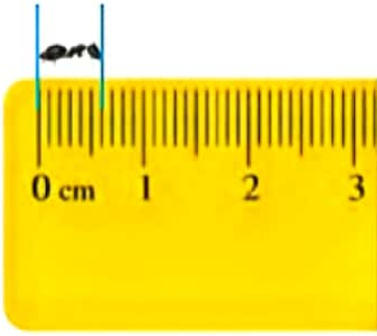
- ۱- اول باید مطمئن شویم که هر دو عدد سه رقمی هستند.
- ۲- بعد به صدگان هر دو عدد نگاه می کنیم، هر کدام بیشتر بود آن عدد بزرگتر است.
- ۳- اگر صدگان ها مساوی باشد به دهگان آنها نگاه می کنیم و هر کدام بزرگتر بود آن عدد بزرگتر است.
- ۴- و اگر صدگان و دهگان هم مساوی بودند یکان آنها نگاه می کنیم هر کدام بزرگتر بود آن عدد بیشتر است.



۱- جواب را بنویسید. توضیح دهید که جواب را چگونه و از چه راهی به دست آوردید.

$108 - 9 = 99$
 $295 + 8 = 303$
 $702 - 6 = 696$
 $205 - 7 = 198$
 $692 + 9 = 701$
 $899 + 7 = 906$

قسمتی از یک واحد



۱- در شکل روبه‌رو یک مورچه را می‌بینید که روی لبه‌ی خط‌کش ایستاده است.

اندازه‌ی طول این مورچه را با کامل کردن جمله‌های زیر مشخص کنید.




فعالیت



اندازه‌ی طول مورچه کمتر از ۱ سانتی‌متر است یا اندازه‌ی طول مورچه بین ۰ و ۱ سانتی‌متر است. اندازه‌ی طول مورچه ۶ میلی‌متر است یا ۶ قسمت از ۱۰ قسمت کوچک است.

۲- حالا برای شکل روبه‌رو جمله‌ها را کامل کنید.



اندازه‌ی طول پاک‌کن از ۴ سانتی‌متر بیشتر و از ۵ سانتی‌متر کمتر است. اندازه‌ی طول پاک‌کن ۴ سانتی‌متر و ۸ میلی‌متر است. اندازه‌ی طول پاک‌کن ۴ سانتی‌متر و ۸ قسمت از ۱۰ قسمت کوچک است.

یک سانتی‌متر به ۱۰ قسمت مساوی تقسیم شده و ۶ میلی‌متر همان ۶ قسمت از ۱۰ قسمت کوچک مساوی است. به همین ترتیب مثال‌های دیگری وجود دارد که می‌توانیم قسمتی از یک واحد را به صورت بالا نشان دهیم.





کار در کلاس

۱- هر یکی را می توان به صورت یک قسمت از ۱۰ قسمت نیز نشان داد.



ده تایی



یکی


عدد ۱۳ را می توان به صورت ۱ ده تایی و ۳ قسمت از ۱۰ قسمت بیان کرد.

عدد ۲۷ را می توان به صورت ۲ ده تایی و ۷ قسمت از ۱۰ قسمت بیان کرد.

عدد ۴۵ را می توان به صورت ۴ ده تایی و ۵ قسمت از ۱۰ قسمت بیان کرد.

عدد ۹۰ را می توان به صورت ۹ ده تایی و ۰ قسمت از ۱۰ قسمت بیان کرد.

۲- در شکل های زیر کدام شکل به قسمت های مساوی تقسیم نشده است؟



الگویابی کن

