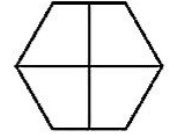
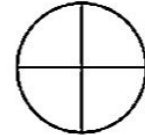
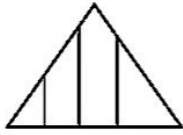




نام و نام خانوادگی: تاریخ: موضوع: ریاضی

هدف: فصل ۷ کسر و احتمال

۱- کدام یک از شکل های زیر به ۴ قسمت مساوی تقسیم نشده است؟

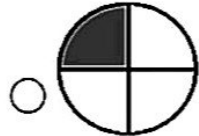
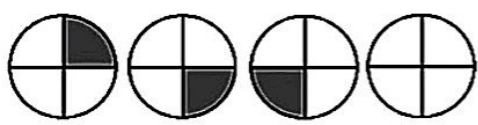


۲- با توجه به شکل مقابل کدام عبارت درست می باشد؟



- (۱) ۳ قسمت از ۶ قسمت مساوی
- (۲) ۴ قسمت از ۶ قسمت مساوی
- (۳) ۲ قسمت از ۴ قسمت مساوی

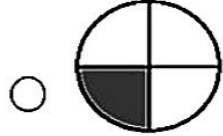
۳- الگوی چهارم کدام یک از شکل زیر می باشد؟



(۲)

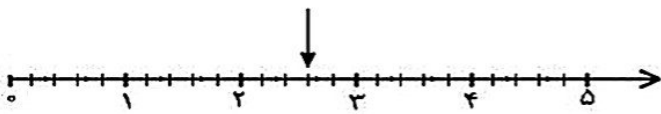


(۱)



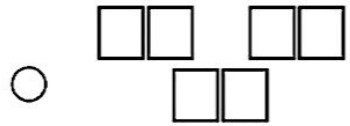
(۳)

۴- نقطه ی روی محور کدام یک را نمایش می دهد؟



- (۱) ۲ واحد و ۶ قسمت از ۵ قسمت مساوی
- (۲) ۳ قسمت و ۴ قسمت از ۵ قسمت مساوی
- (۳) ۲ واحد و ۳ قسمت از ۵ قسمت مساوی


۵- کدام یک با بقیه تفاوت دارد؟



(۲)



(۱)



(۳)