



موضوع:

تاریخ:

نام و نام خانوادگی:

هدف:

۱- برای انتخاب نماینده‌ی دانش آموزان کلاس از بین ۳ دانش آموز به نام‌های زهرا، فاطمه و مریم یک نفر باید انتخاب می‌شد. رأی‌های دانش آموزان در زیر نوشته شده است. با رسم چوب خط تعداد رأی هرکس را پیدا کنید. (بهتر است یک نفر نام‌ها را بخواند و نفر دیگر چوب خط رسم کند).

مریم- فاطمه- فاطمه- فاطمه- زهرا- فاطمه - مریم- زهرا- فاطمه- مریم- مریم- فاطمه- زهرا- مریم- مریم- فاطمه- فاطمه- زهرا- فاطمه- فاطمه- فاطمه- زهرا- فاطمه- فاطمه- فاطمه- زهرا- فاطمه- فاطمه- فاطمه- زهرا




تمرین

چوب خط	تعداد رأی	نام
	۸	زهرا
	۱۳	فاطمه
	۹	مریم



چه کسی بیشترین رأی را آورده است؟ **فاطمه**  
چند نفر در این کلاس رأی داده‌اند؟ **۳۰**





موضوع:

تاریخ:

نام و نام خانوادگی:


هدف:

۲- کتاب‌های یک کتاب‌خانه در شکل زیر نشان داده شده است. رنگ زرد نشان‌دهنده‌ی کتاب‌های داستانی، رنگ سبز کتاب‌های مذهبی و رنگ آبی کتاب‌های علمی است. تعداد کتاب‌های هر موضوع را سرشماری کنید.

نوع کتاب	تعداد	چوب خط
داستانی	۸	
مذهبی	۱۲	
علمی	۱۷	



- تعداد کتاب‌های چه موضوعی بیشتر از بقیه است؟ **علمی**
- کدام موضوع کتاب‌های کمتری دارد؟ **داستانی**
- تعداد کتاب‌های داستانی و مذهبی روی هم چند تا است؟ **۲۰**





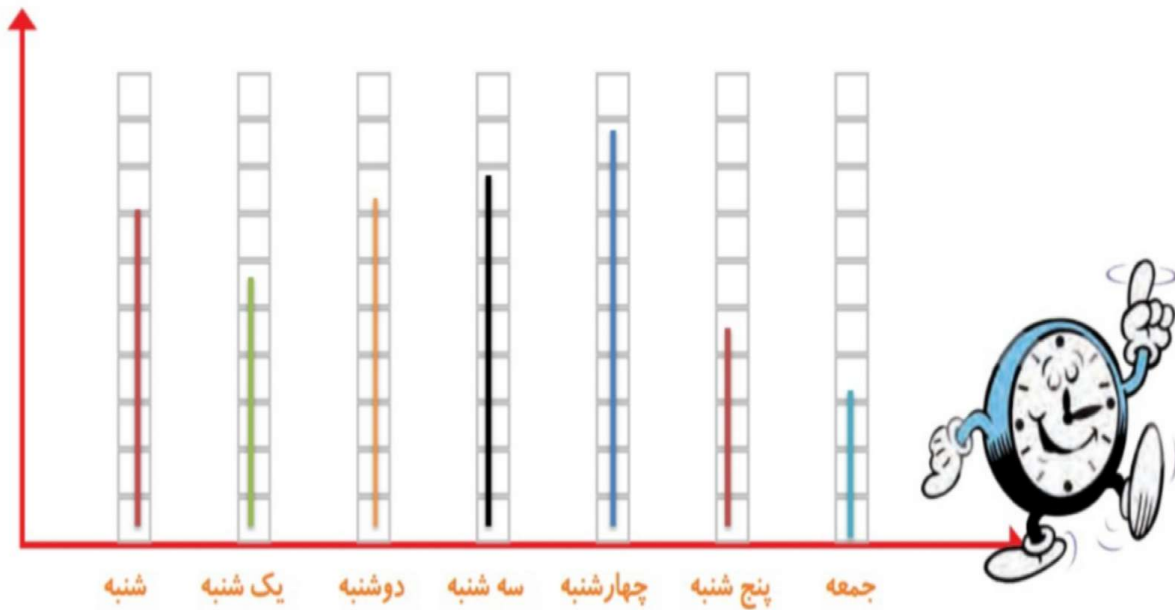
موضوع:

تاریخ:

نام و نام خانوادگی:


هدف:

۲- نمودار ستونی ساعات درس خواندن (مدرسه، انجام تکالیف و مطالعه) خود را با رنگ کردن یک مربع برای هر ساعت کامل کنید.



با رسم کردن نمودارهای ستونی نمایش بهتری از اطلاعات خواهیم داشت و مقایسه کردن ساده‌تر می‌شود. شما به راحتی می‌توانید بیشترین و کمترین مقدارها را پیدا کنید.

الگویابی کن





موضوع:

تاریخ:

نام و نام خانوادگی:

هدف:



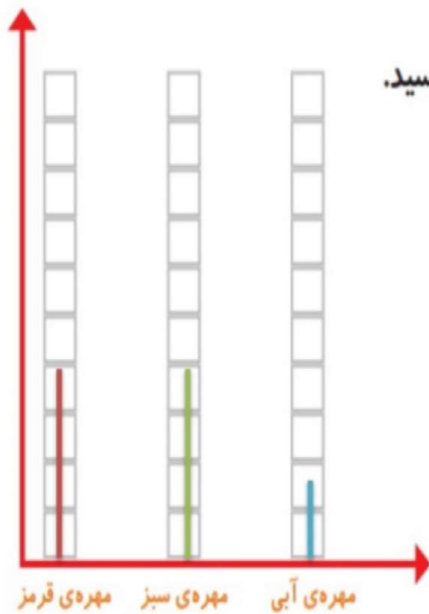
مهره‌های سبزی

۱- در داخل کیسه ۵ تا مهره‌ی سبز و ۴ تا مهره‌ی قرمز و ۳ تا مهره‌ی آبی قرار دهید. هر بار بدون نگاه کردن به داخل آن، یکی را در بیاورید و یک مربع از نمودار زیر را رنگ کنید؛ مهره را دوباره در داخل کیسه قرار دهید. این آزمایش را ۱۰ بار تکرار کنید و نمودار را کامل کنید.



فعالیت

تعداد مربع‌های رنگ شده را بالای ستون آن رنگ بنویسید.





موضوع:

تاریخ

نام و نام خانوادگی

هدف:

الگویابی کن

الگوها را ادامه دهید.

۱، ۳، ۵، ۷، ۹، ۱۱، ۱۳، ۱۵، ۱۷، ۱۹، ۲۱، ۲۳، ۲۵ :عددهای فرد

۲، ۴، ۶، ۸، ۱۰، ۱۲، ۱۴، ۱۶، ۱۸، ۲۰، ۲۲، ۲۴ :عددهای زوج

