

## علوی

### فعالیت کلاسی



جاهای خالی را با کلمات کمتر و بیشتر کامل کن.



الف: درنا ۵۸ کتاب و برادرش ۳۹ کتاب دارد. تعداد کتابهای درنا **بیشتر** از تعداد کتابهای برادرش است.

ب: در گلخانه‌ی رز ۱۲۵ گل و در گلخانه‌ی یاس ۱۴۷ گل پرورش داده شده است.

تعداد گل‌های پرورش یافته در گلخانه‌ی رز **کمتر** از تعداد گل‌های پرورش یافته در گلخانه یاس است.

درستی  و نادرستی  هر عبارت را مشخص کن.




الف: ارزش رقم صدگان کم‌تر از دهگان است.


ب: عدد ۳۵۲ کم‌تر از ۳۵۰ است.

پ: یکی از روش‌های مقایسه‌ی دو عبارت، حذف قسمت‌های مساوی دو طرف است.

پاسخها را در دو طرف عبارت با هم مقایسه کن و علامت <=> بگذار.

الف:  $400 + 400$    $800 - 200$


پ:  $100 + 100 + 200$    $200 + 300$

ب:  $500 + 200$    $500 - 200$

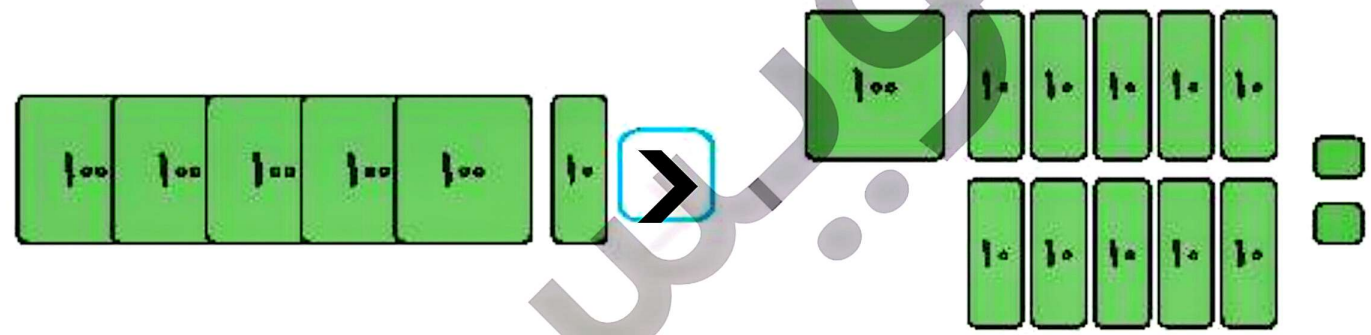
ت:  $700 - 400$    $100 + 100 + 100$

۴ با حذف قسمت‌های مساوی علامت  $<=>$  بگذار.

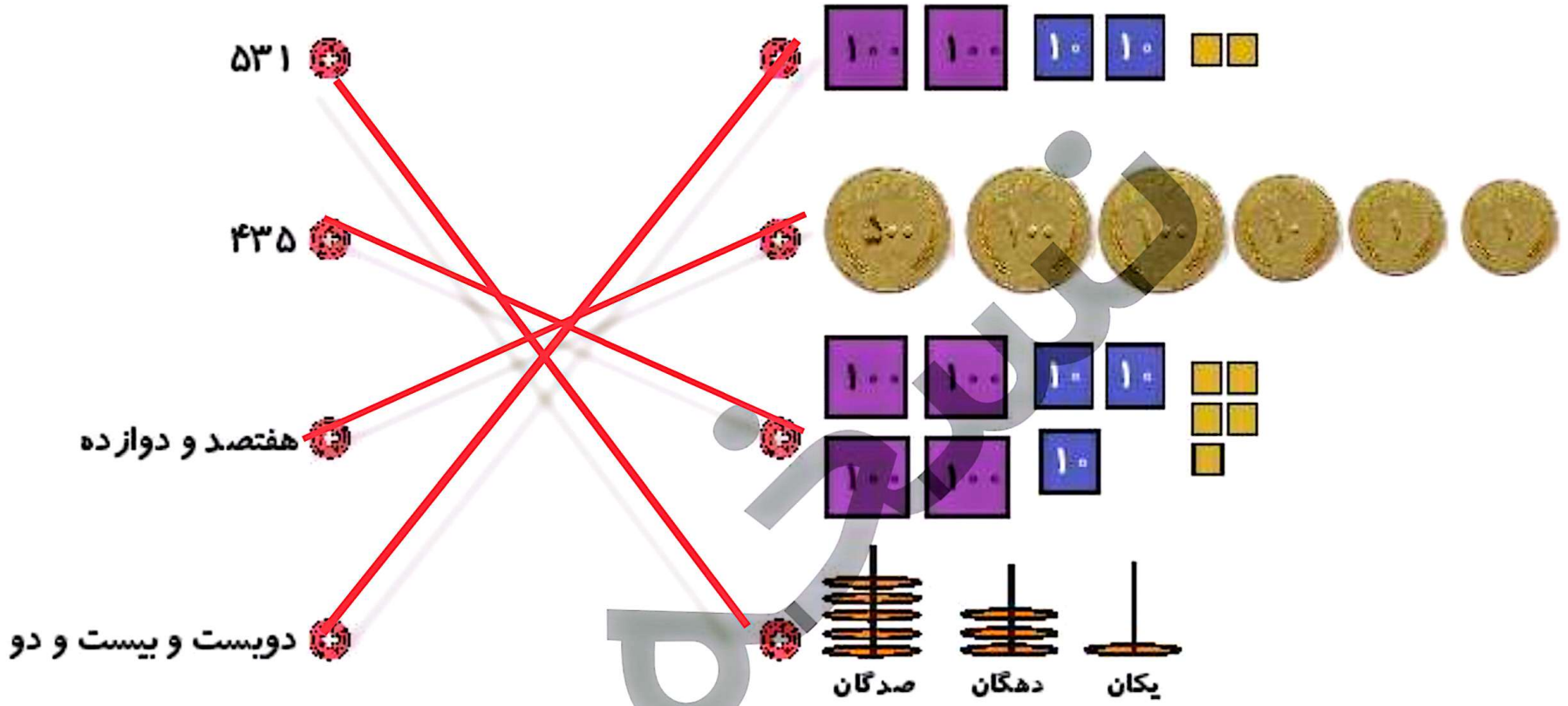
الف:



ب:



۱ هر شکل را به عدد مربوط به آن وصل کن.



درستی  و نادرستی  هر عبارت را مشخص کن.

الف: اگر به عدد  $504$  یک دسته  $100$  تایی اضافه کنیم از عدد  $602$  بزرگتر است.

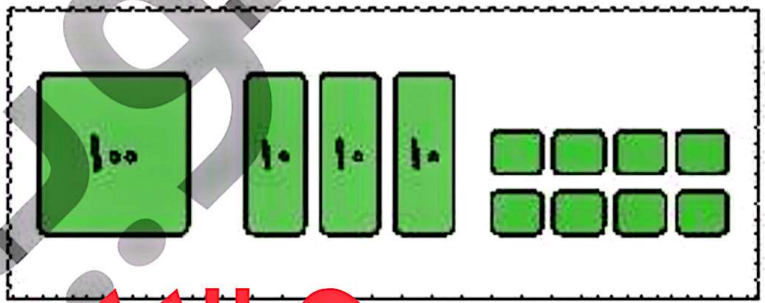

ب: عدد  $220$  از عدد  $222$  بزرگتر است.

پ: رقم صدگان عدد  $405$  از رقم صدگان  $440$  بزرگتر است.

ت: عدد  $152$  کم‌تر از عدد  $52$  می‌باشد.

۲

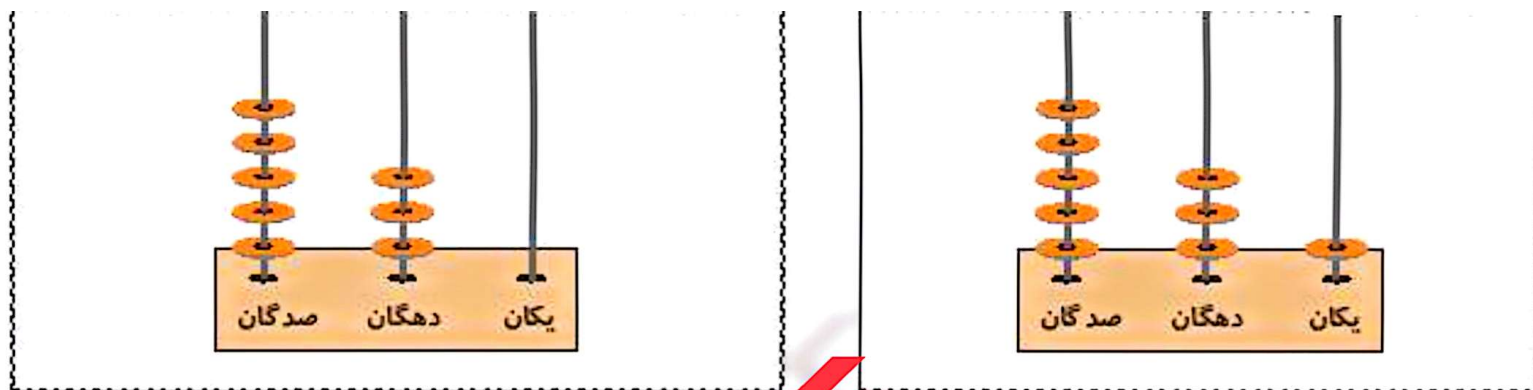
عددی را که هر شکل نشان می‌دهد بنویس، سپس با هم مقایسه کن و علامت  $<= >$  بگذار.



۲۳۶  $>$  ۱۳۶



۱۷۰  $<$  ۴۳۰



# امساك مس

هر دو عدد را با هم مقایسه کن، سپس در جای خالی علامت  $< = >$  بگذار. ۴

الف: ۲۰۰  $>$  ۲۰۲

ب: ۵۰۷  $>$  ۴۹۹

پ: ۲۱۴  $>$  ۳۱۴

ت: ۷۰۸  $>$  ۷۳۵

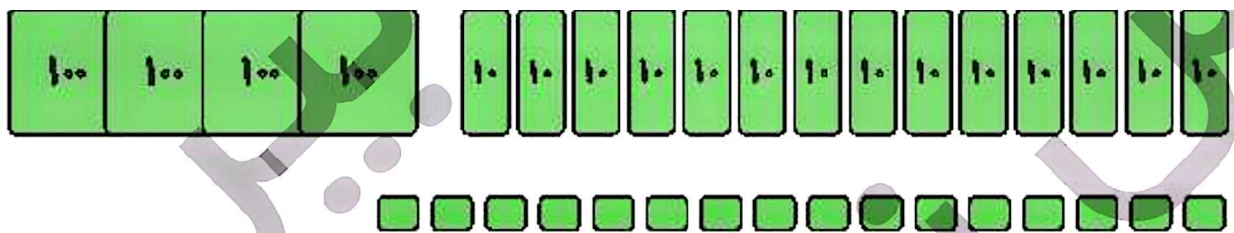
ث: ۳۸۰  $>$  ۳۰۸

ج: ۴۱۷  $>$  ۴۰۷

چ: ۱۸۵  $>$  ۱۸۹

ح: ۹۸  $>$  ۱۰۷


خ: ۳۰۵  $>$  ۳۵



به عدد: ۵۵۶

صدگان	دهگان	یکان
۵	۵	۶

به حروف: پانصد و پنجاه و شش  
ب:



به عدد: ۳۱۵

صدگان	دهگان	یکان
۳	۱	۵

به حروف: سیصد و پانزده



الف: پول برنا چند ریال بیش تر از پول درنا است؟



پول برنا

۸ (۴)

۱۰ (۳)



پول درنا

۶ (۲)

۷ (۱)

ب: کدام عبارت عددی زیر صحیح است؟

۹۶۸ = ۶۸۹ (۴)

۹۶۸ > ۶۸۹ (۳) ✓

۹۶۸ < ۶۸۹ (۲)

۹۶۸ < ۶۹۸ (۱)

پ: در کدام یک از دسته‌های زیر، عددها از چپ به راست و از بزرگ‌ترین به کوچک‌ترین مرتب شده‌اند؟

۸۷.۶۶.۴۳.۳۶ (۴) ✓

۸۷.۶۶.۳۶.۴۳ (۳)

۶۶.۴۳.۳۶.۸۷ (۲)

۳۶.۴۳.۶۶.۸۷ (۱)