



موضوع:

تاریخ

نام و نام خانوادگی

هدف:

۱- امیر وضعیت هوای روزهای مختلف ۴ هفته را یادداشت کرده است: ۴ روز آفتابی، ۶ روز

ابری، ۸ روز بارانی و بقیه‌ی روزها نیمه‌ابری. چند روز هوا نیمه ابری



بوده است؟ نمودار وضعیت آب و هوا و جدول

مربوط به آن را کامل کنید.



تعداد روز	وضعیت هوا
۴	آفتابی
۶	ابری
۸	بارانی
۱۰	نیمه ابری

تمرین



۲- ریحانه در یک سال تحصیلی ۶ کتاب کمک درسی، ۱۰ کتاب داستان، ۸ کتاب دفاع مقدس،


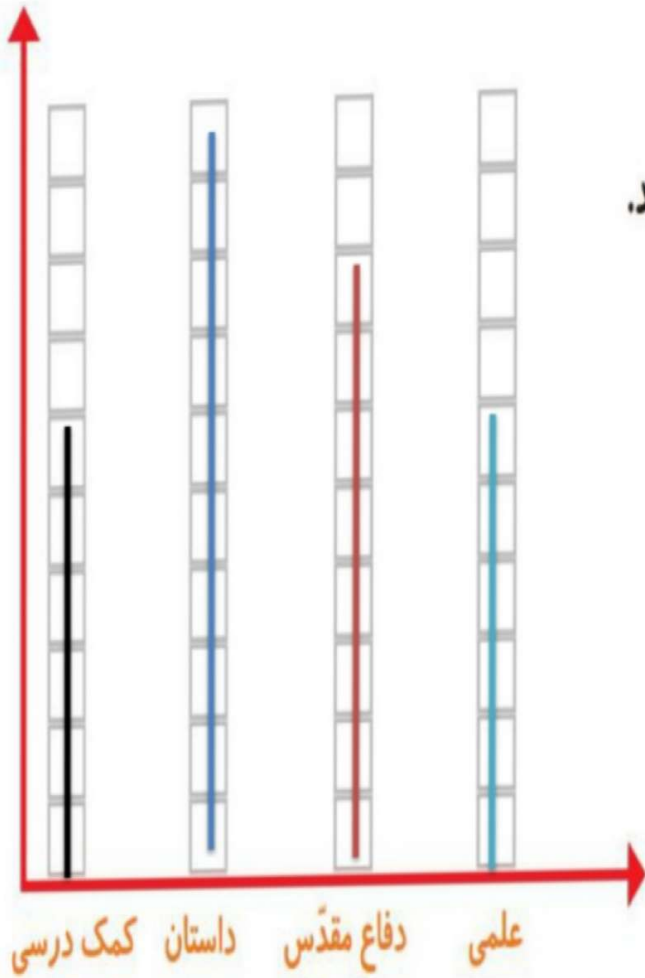

۶ کتاب علمی از کتابخانه‌ی مدرسه

امانت گرفت و خواند.

نمودار کتاب‌های خوانده شده را کامل کنید.

به نظر شما ریحانه به چه نوع کتابی

بیشتر علاقه دارد؟ چرا؟





موضوع:

تاریخ

نام و نام خانوادگی

هدف:

سمن اس

تعداد هر قسمت را با کامل کردن جمله‌ها مشخص کنید.



۴ تا ۳ تایی می‌شود ۱۲



۵ تا ۴ تایی می‌شود ۲۰




۴ تا ۶ تایی می‌شود ۲۴



۳ تا ۵ تایی می‌شود ۱۵

۱ ۳ ۳





موضوع:

تاریخ:

نام و نام خانوادگی:

هدف:

۱- عددی را پیدا کنید که اگر با ۲۷ جمع کنیم، جواب ۵۳ می شود.

برای حل این مسئله می توانیم جمع زیر را بنویسیم و به جای آن عدد، یک مربع در نظر بگیریم.

$$\boxed{۲۶} + ۲۷ = ۵۳$$

حالا می توانید با راهبرد حدس و آزمایش، عدد را پیدا کنید.

۲- یک نفر ۲ دفتر و یک پاک کن خرید و ۹۵۰ تومان پول داد. قیمت دفتر ۴۰۰ تومان بود. قیمت پاک کن را پیدا کنید.




$$۴۰۰ + ۴۰۰ = ۸۰۰$$

قیمت دفتر

$$\begin{array}{r} ۹۵ \\ - ۸۰۰ \\ \hline ۱۵۰ \end{array}$$

قیمت پاک کن ۱۵۰ تومان است.





موضوع:

تاریخ

نام و نام خانوادگی

هدف:

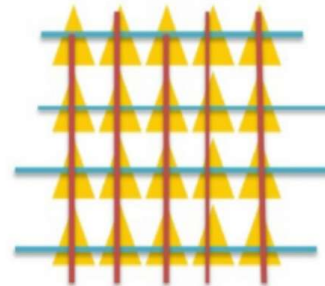
کامل کن

جملات را کامل کنید. برای هر شکل ۲ جمله بنویسید.



۳ تا ۴ تایی می شود ۱۲

۴ تا ۳ تایی می شود ۱۲



۴ تا ۵ تایی می شود ۲۰

۵ تا ۴ تایی می شود ۲۰

