


کامل کن

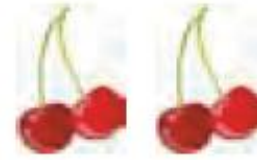
مانند نمونه کامل کنید.



۲ دسته ۵ تایی



۲ دسته ۹ تایی



۲ دسته ۲ تایی



۲ دسته ۳ تایی

با توجه به شکل کامل کنید.




دسته ۳ تایی ۴



دسته ۲ تایی ۵



دسته ۳ تایی ۴



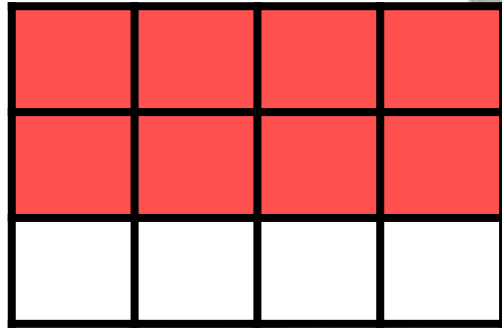
دسته ۳ تایی ۴

پاسخ تکالیف روز چهارشنبه

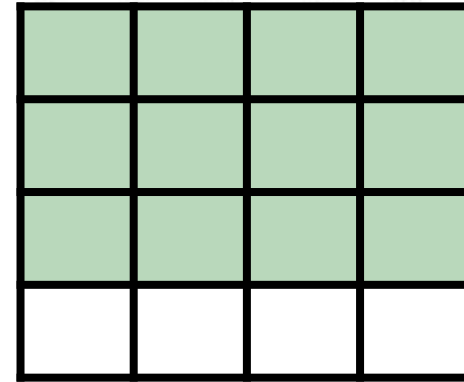
از کتاب کار ریاضی (صفحه ۱۶۸)

۲

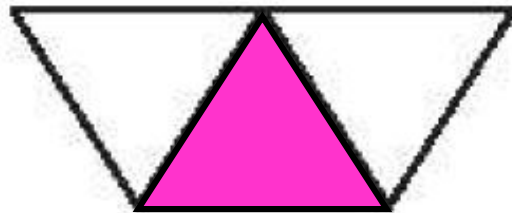
با توجه به قسمت‌های خواسته شده شکل را رنگ کن.




ب: ۸ قسمت از ۱۲ قسمت مساوی رنگ شده.



الف: ۱۲ قسمت از ۱۶ قسمت مساوی رنگ شده.


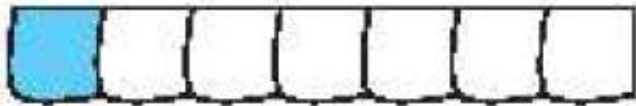



ت: ۱ قسمت از ۴ قسمت مساوی رنگ شده.



پ: ۲ قسمت از ۳ قسمت مساوی رنگ شده.

۱ هر شکل را به عبارت مناسب آن وصل کن.



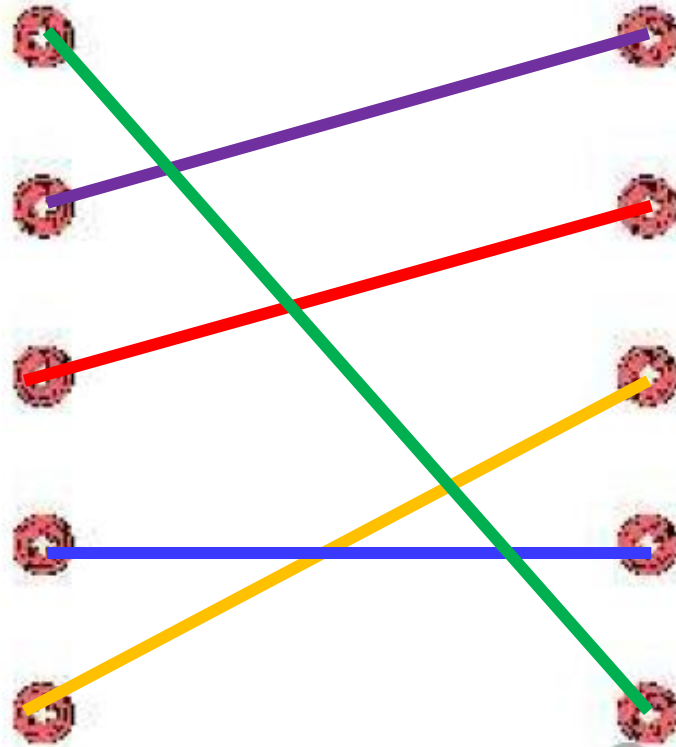
یک قسمت از ۷ قسمت مساوی

۹ قسمت از ۱۰ قسمت مساوی

۶ قسمت از ۹ قسمت مساوی

۷ قسمت از ۸ قسمت مساوی

۱۰ قسمت از ۱۰ قسمت مساوی



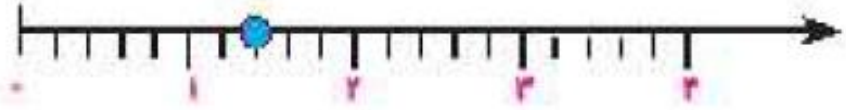

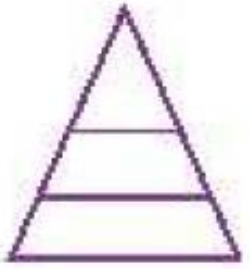
۲

درستی و نادرستی هر عبارت را مشخص کن.

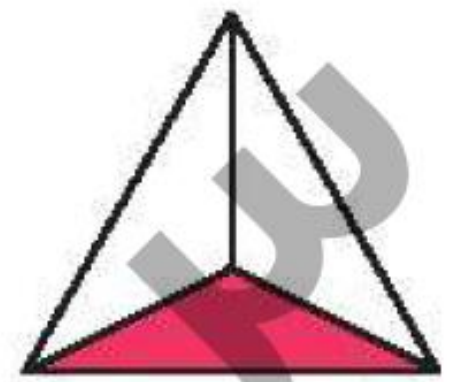
الف: شکل مقابل به ۳ قسمت مساوی تقسیم شده است

ب: در شکل مقابل ۲ قسمت از ۴ قسمت رنگ نشده است.

پ: نقطه‌ی روی محور ۳ واحد و ۱ قسمت مساوی را نشان می‌دهد

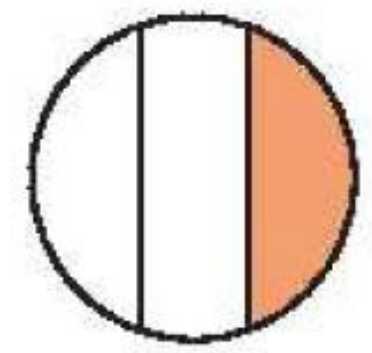


برای شکل‌هایی که به قسمت‌های مساوی تقسیم شده‌اند کسر مقدار رنگ شده‌ی آن را بنویس.



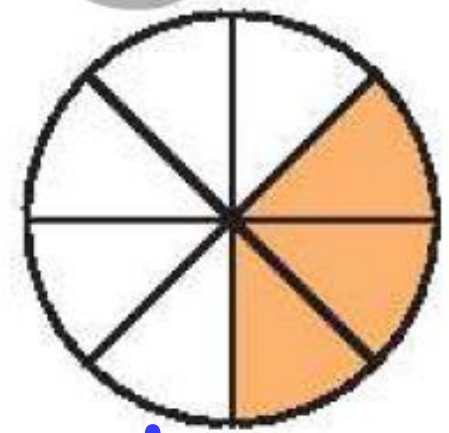
۳

ب: ۱ قسمت از قسمت مساوی



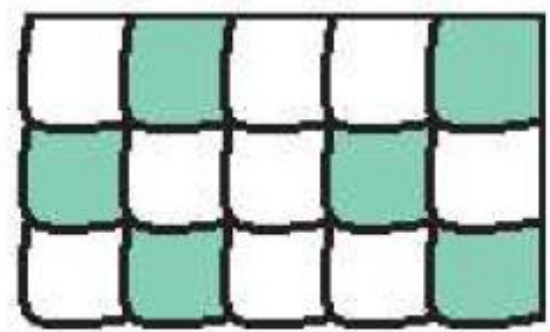
۳

الف: ۱ قسمت از قسمت مساوی



۸

ت: ۳ قسمت از قسمت مساوی



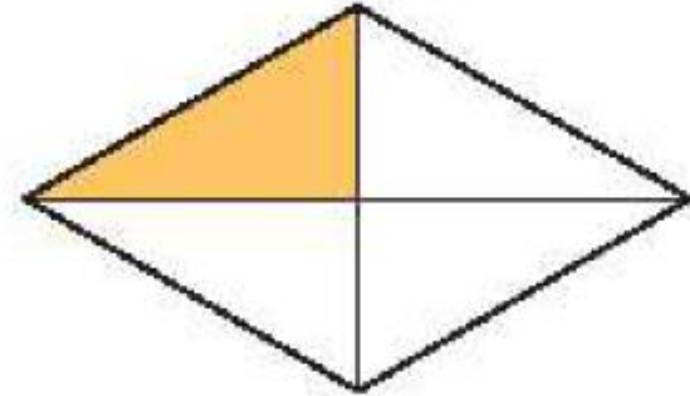
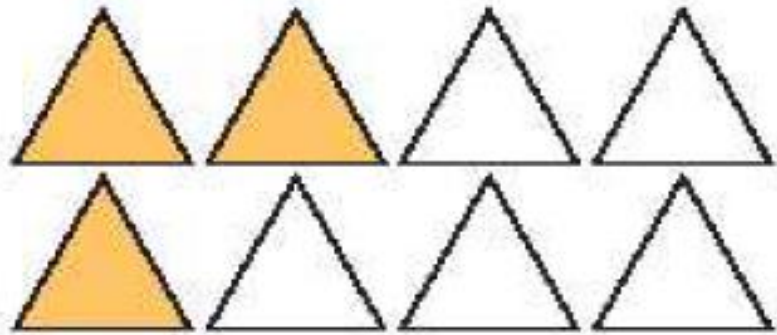
۱۵

پ: ۶ قسمت از قسمت مساوی

تکلیف

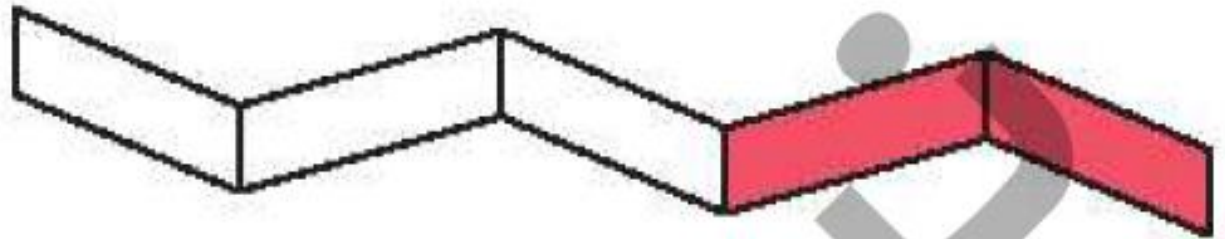

چه کسری از هر شکل رنگ نشده است؟ زیر آن بنویس.

صفحه ۱۶۹



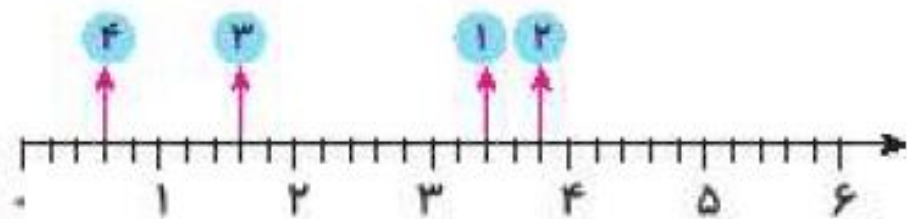
ب: قسمت از قسمت مساوی

الف: قسمت از قسمت مساوی



ت: قسمت از قسمت مساوی

پ: قسمت از قسمت مساوی



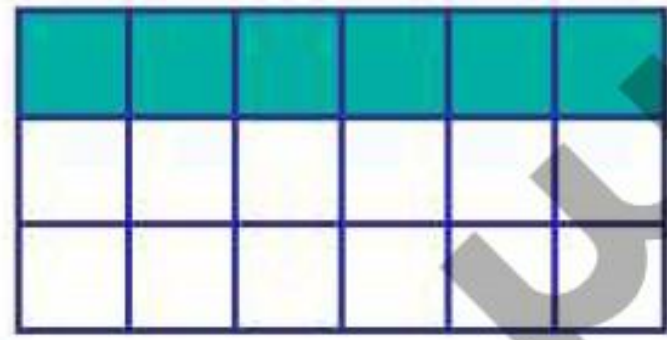
۵ کدام نقطه روی محور $\frac{1}{2}$ واحد و $\frac{1}{2}$ قسمت مساوی را نشان می‌دهد؟

نقطه‌ی شماره‌ی

۶ یک کیک به ۸ قسمت مساوی تقسیم و سه قسمت آن خورده شد. چه کسری از کیک خورده شده است؟

با توجه به سوالات داده شده، گزینه‌ی صحیح را انتخاب کن.

الف: چه کسری از این مستطیل رنگ شده است؟



(۱) یک قسمت از سه قسمت مساوی

(۲) شش قسمت از هجده قسمت مساوی

(۳) هر دو مورد صحیح است

ب: در کدام شکل ۲ قسمت از ۳ قسمت مساوی از مربع رنگ شده است؟ دور آن خط بسته بکش.




(۴)



(۳)



(۲)



(۱)