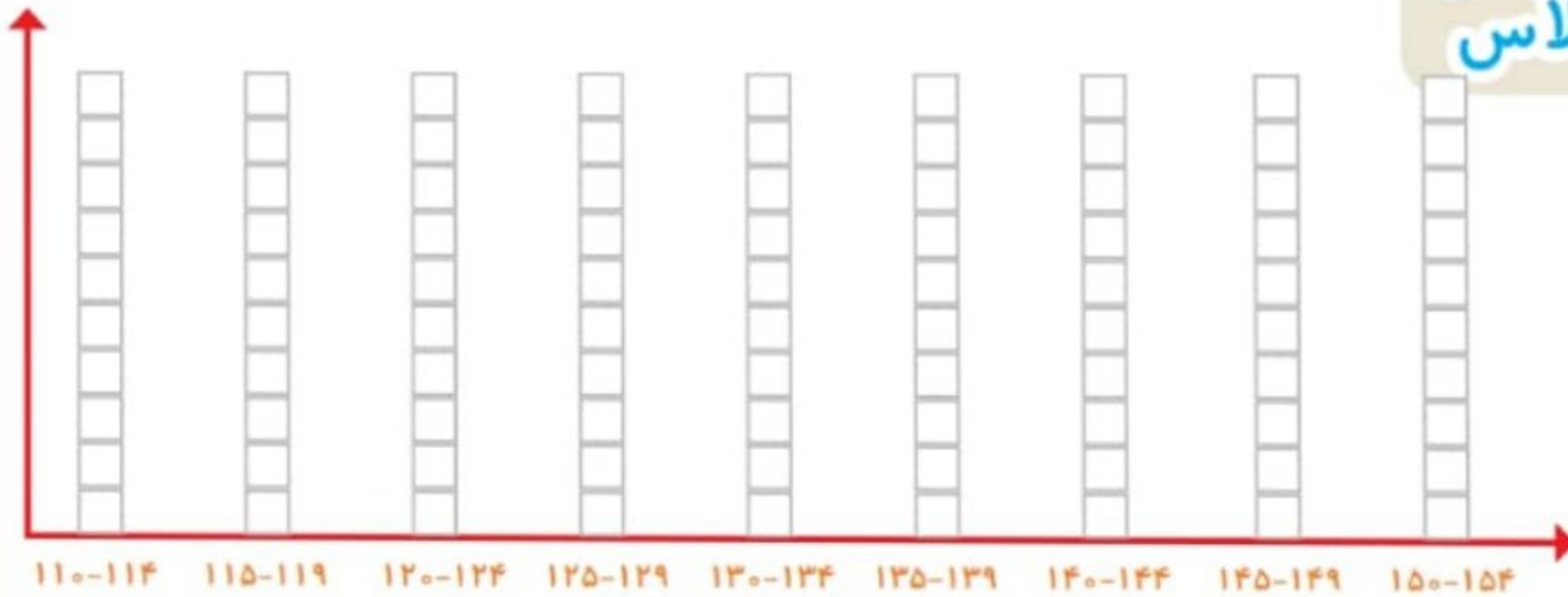




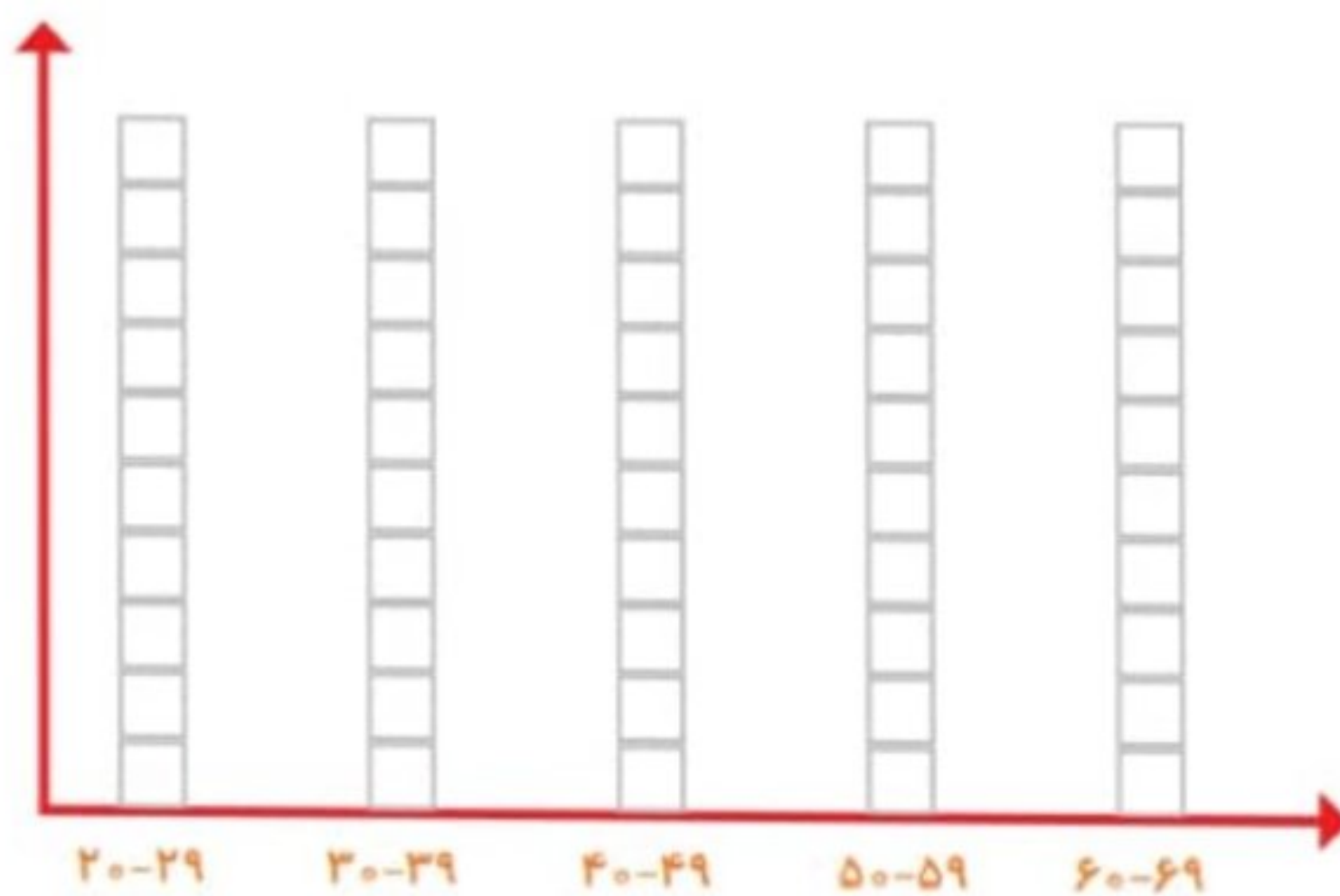
کار در کلاس

۱- به کمک آموزگار قد دانش آموزان کلاس را اندازه بگیرید. با توجه به عددهای نوشته شده برای هر نفر در ستون مربوطه یک مربع رنگ کنید. برای مثال اگر قد دانش آموزی ۱۲۳ سانتی متر بود، شما باید در ستون ۱۲۰-۱۲۴ یک مربع برای او رنگ کنید.

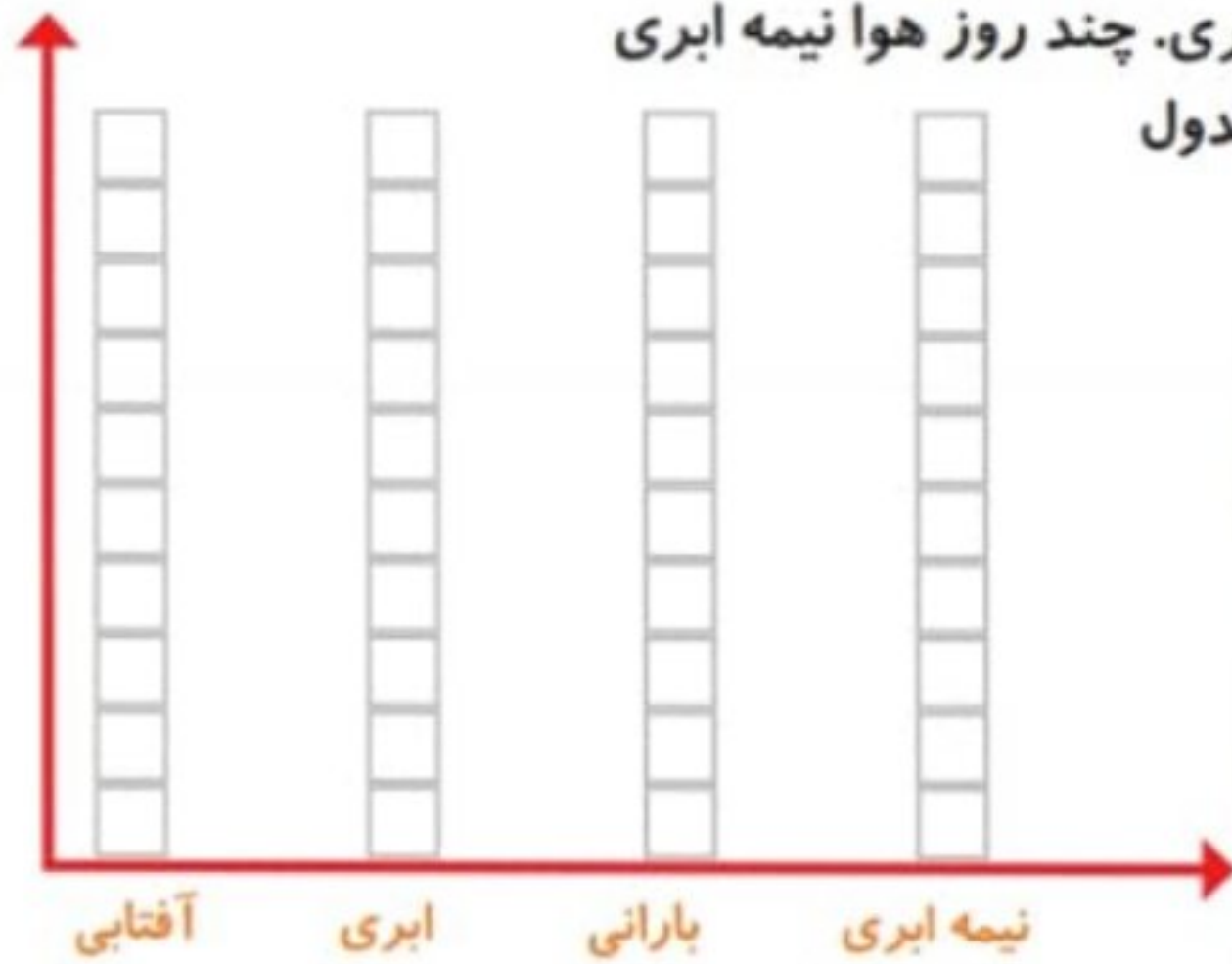


بیشتر دانش آموزان در چه قسمتی قرار گرفته اند؟

۲- همین کار را برای وزن هم انجام دهید. آموزگار وزن هر کس را اعلام کرد، شما در ستون مربوطه یک مربع را رنگ کنید.



۱- امیر وضعیت هوای روزهای مختلف ۴ هفته را یادداشت کرده است: ۴ روز آفتابی، ۶ روز ابری، ۸ روز بارانی و بقیه‌ی روزها نیمه‌ابری. چند روز هوا نیمه ابری بوده است؟ نمودار وضعیت آب و هوا و جدول مربوط به آن را کامل کنید.

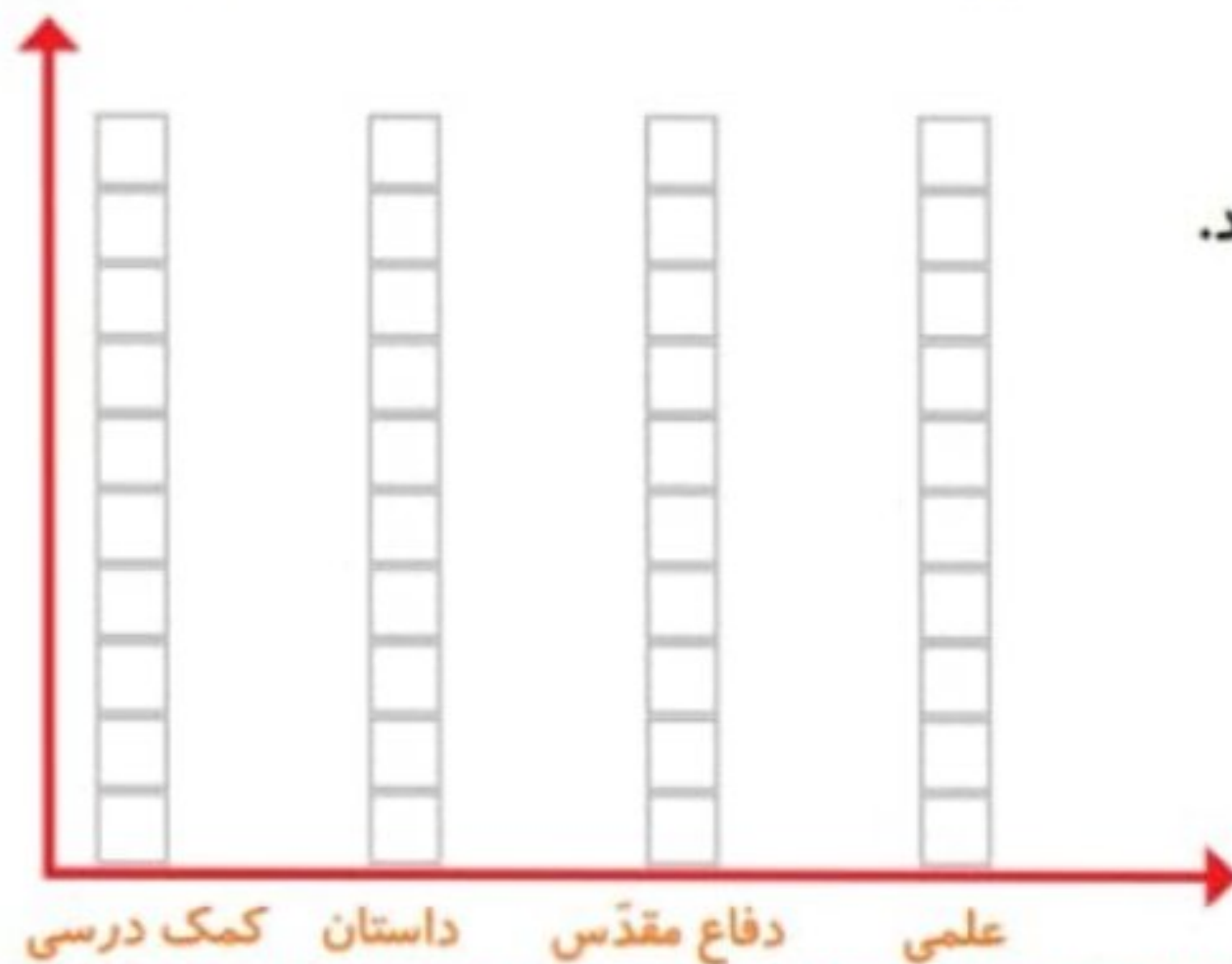


وضعیت هوا	تعداد روز
آفتابی	
ابری	
بارانی	
نیمه ابری	

تمرین



۲- ریحانه در یک سال تحصیلی ۶ کتاب کمک درسی، ۱۰ کتاب داستان، ۸ کتاب دفاع مقدس، ۶ کتاب علمی از کتابخانه‌ی مدرسه امانت گرفت و خواند. نمودار کتاب‌های خوانده شده را کامل کنید. به نظر شما ریحانه به چه نوع کتابی بیشتر علاقه دارد؟ چرا؟



کامل کن

تعداد هر قسمت را با کامل کردن جمله‌ها مشخص کنید.



_____ تا ۳ تایی می‌شود _____



_____ تا _____ تایی می‌شود _____



_____ تا _____ تایی می‌شود _____

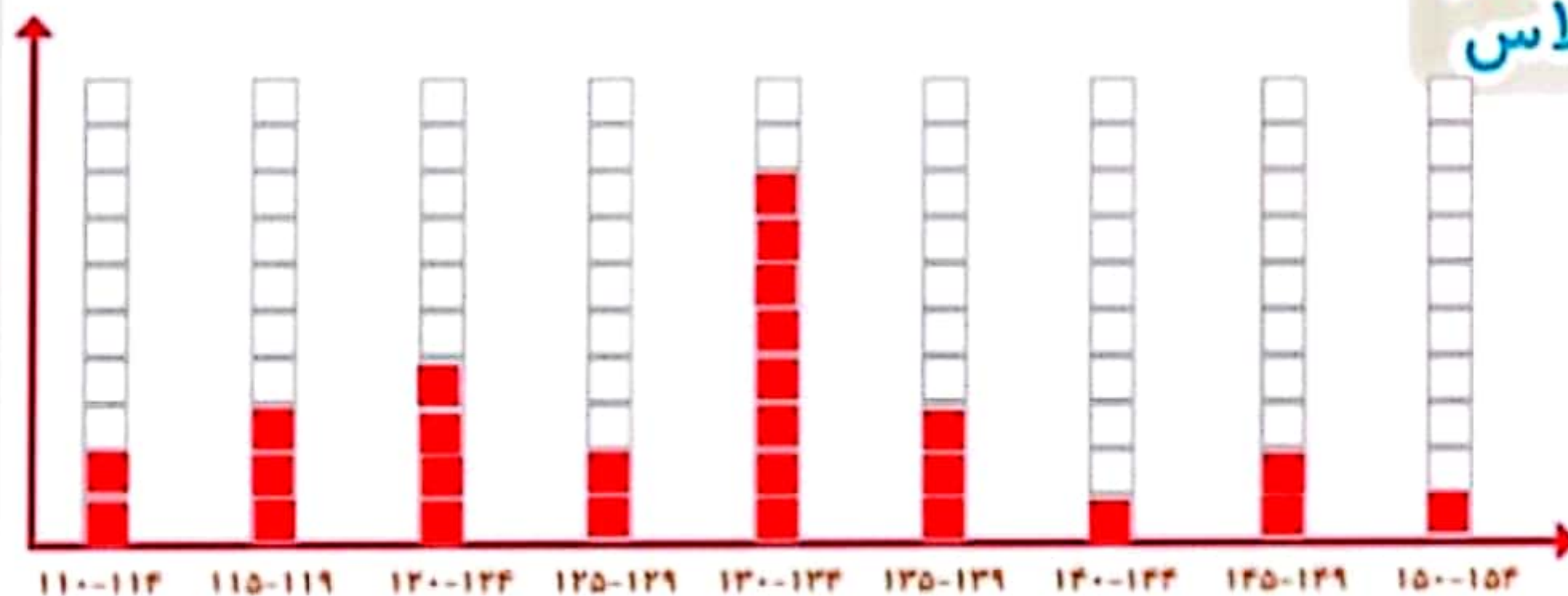


_____ تا _____ تایی می‌شود _____

پاسخ های این صفحه پیشنهادی است و دانش آموز باید خودش فعالیت را انجام دهد تا به درک مطلب برسد و شما می توانید به جای نوشتن قد و وزن دانش آموزان قد و وزن اعضای خانواده یا بستگان را به طور تقریبی بنویسید و آمار گیری کنید در کلاس بر اساس پاسخ های آنلاین انجام شد.



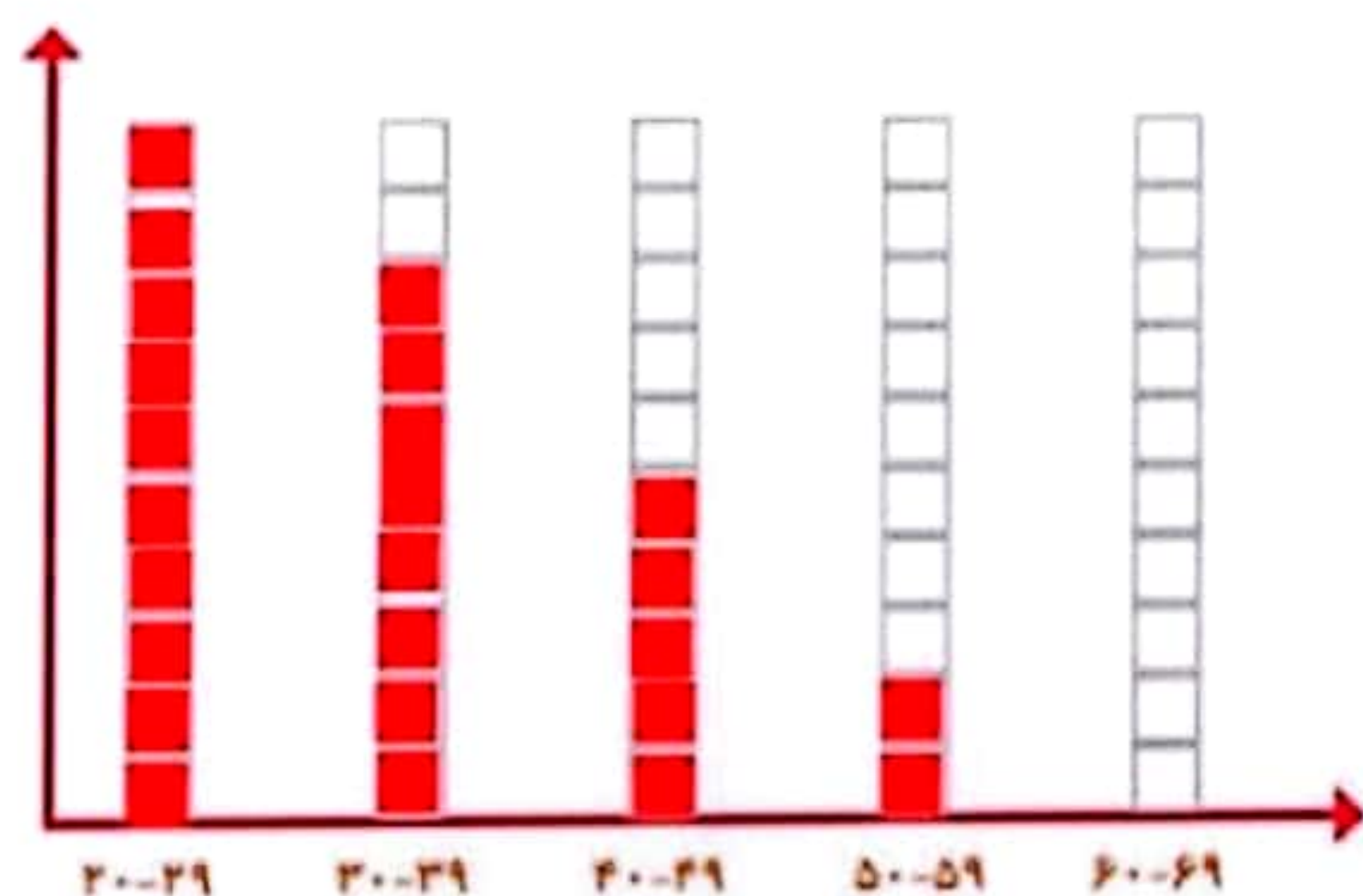
۱- به کمک آموزگار قد دانش آموزان کلاس را اندازه بگیرید. با توجه به عددهای نوشته شده برای هر نفر در ستون مربوطه یک مربع رنگ کنید. برای مثال اگر قد دانش آموزی ۱۲۳ سانتی متر بود، شما باید در ستون ۱۲۰-۱۲۴ یک مربع برای او رنگ کنید.



بیشتر دانش آموزان در چه قسمتی قرار گرفته اند؟ ۱۳۰-۱۳۴

۲- همین کار را برای وزن هم انجام دهید. آموزگار وزن هر کس را اعلام کرد، شما در ستون مربوطه یک مربع را رنگ کنید.

در کلاس بر اساس پاسخ هاس آنلاین انجام شد.



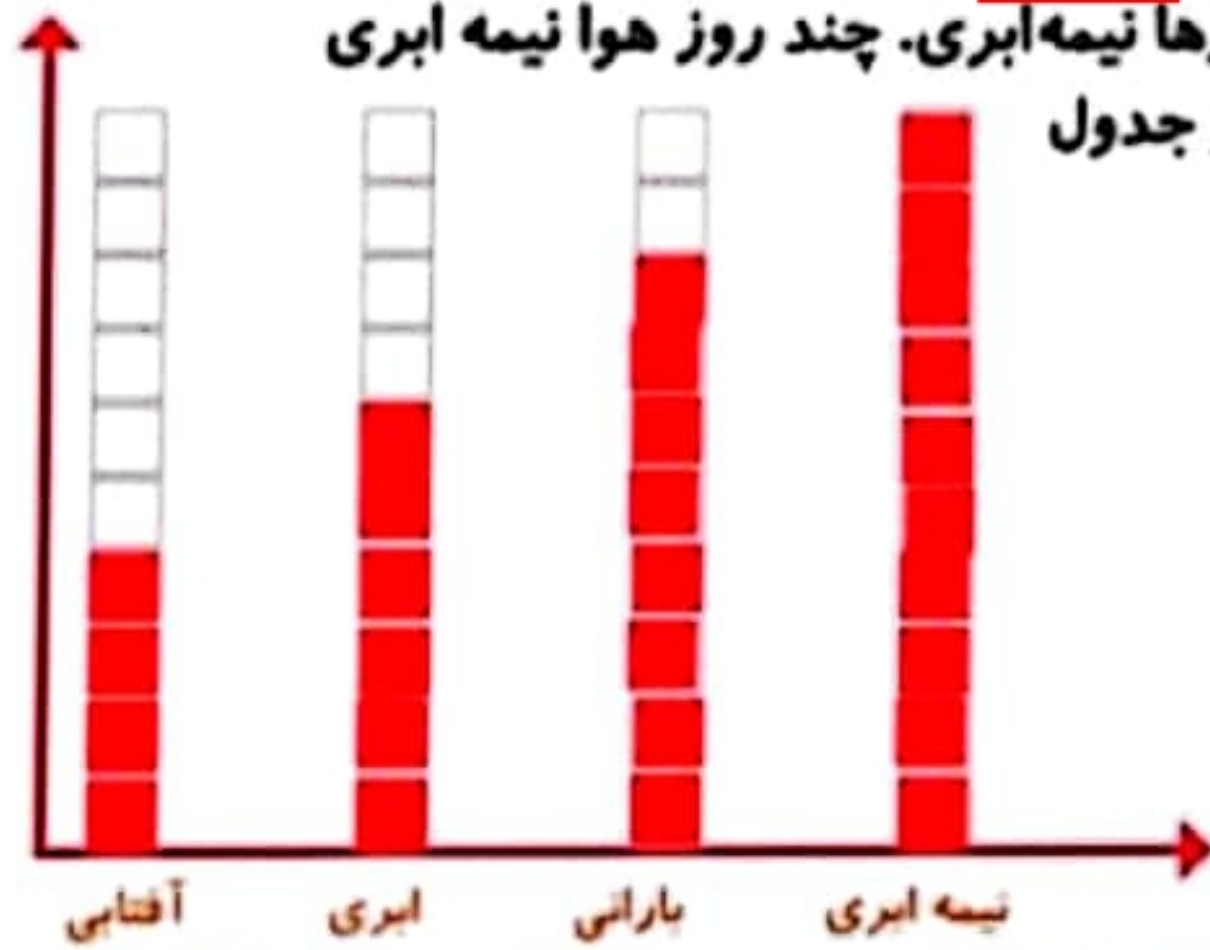
$$\textcircled{7} + \textcircled{7} + \textcircled{7} + \textcircled{7} = 28 \text{ کل} - 28$$

$$4 + 6 + 8 = 18 \text{ روز هایی که می دانیم}$$

$$\frac{18}{10}$$

نیمه ابری (نمی دانستیم)

۱- امیر وضعیت هوای روزهای مختلف ۴ هفته را یادداشت کرده است: ۴ روز آفتابی، ۶ روز ابری، ۸ روز بارانی و بقیه‌ی روزها نیمه ابری. چند روز هوا نیمه ابری بوده است؟ نمودار وضعیت آب و هوا و جدول مربوط به آن را کامل کنید.



جدول داده

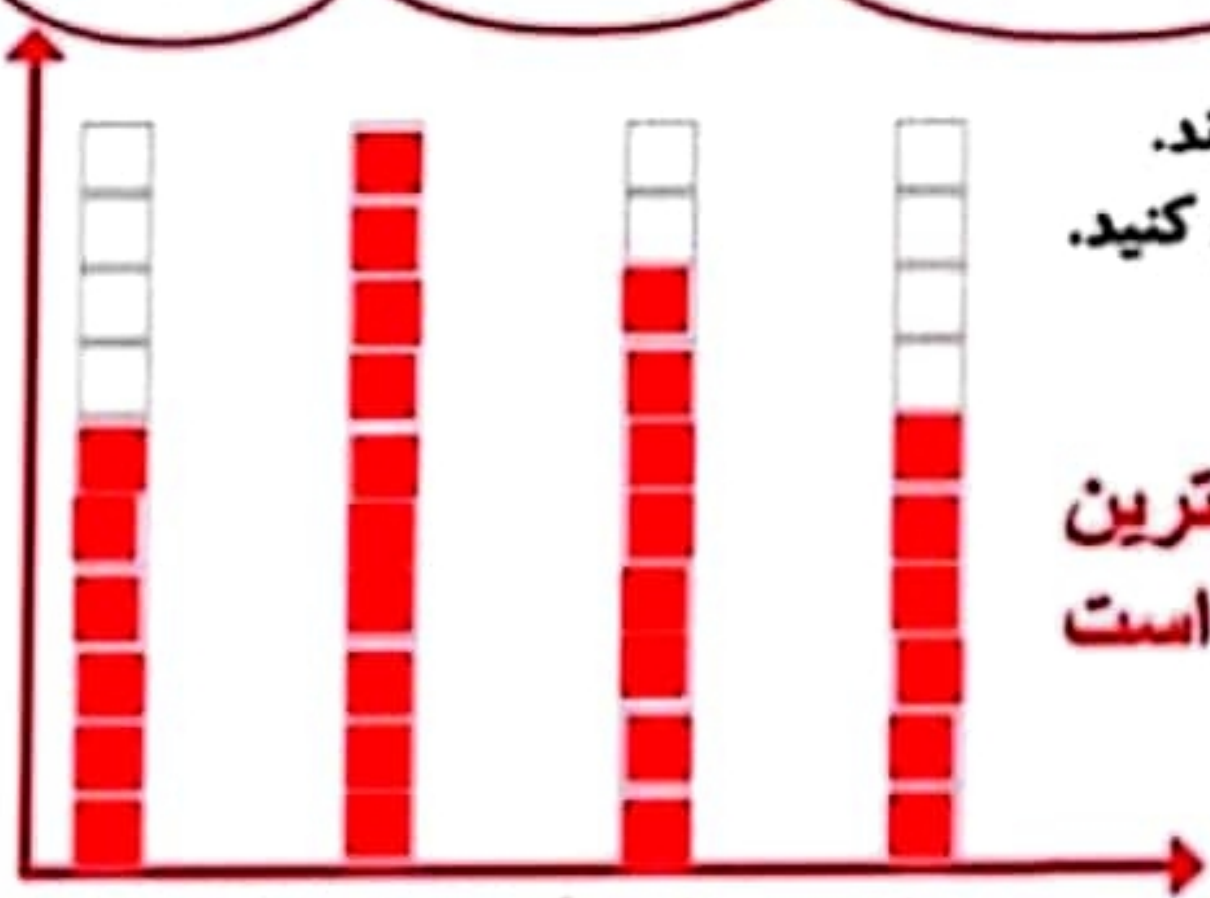
تعداد روز	وضعیت هوا
۴	آفتابی
۶	ابری
۸	بارانی
۱۰	نیمه ابری



تمرین



۲- ریحانه در یک سال تحصیلی ۶ کتاب کمک درسی، ۱۰ کتاب داستان، ۸ کتاب دفاع مقدس، ۶ کتاب علمی از کتابخانه‌ی مدرسه امانت گرفت و خواند. نمودار کتاب‌های خوانده شده را کامل کنید. به نظر شما ریحانه به چه نوع کتابی بیشتر علاقه دارد؟ چرا؟




کتاب داستان، چون با توجه به نمودار ستونی، بیشترین خانه‌های رنگ شده مربوط به کتاب داستان است.

کامل کن

تعداد هر قسمت را با کامل کردن جمله‌ها مشخص کنید.



۴ تا ۳ تایی می‌شود ۲ تا ۱ تا



۵ تا ۴ تایی می‌شود ۲۰ تا



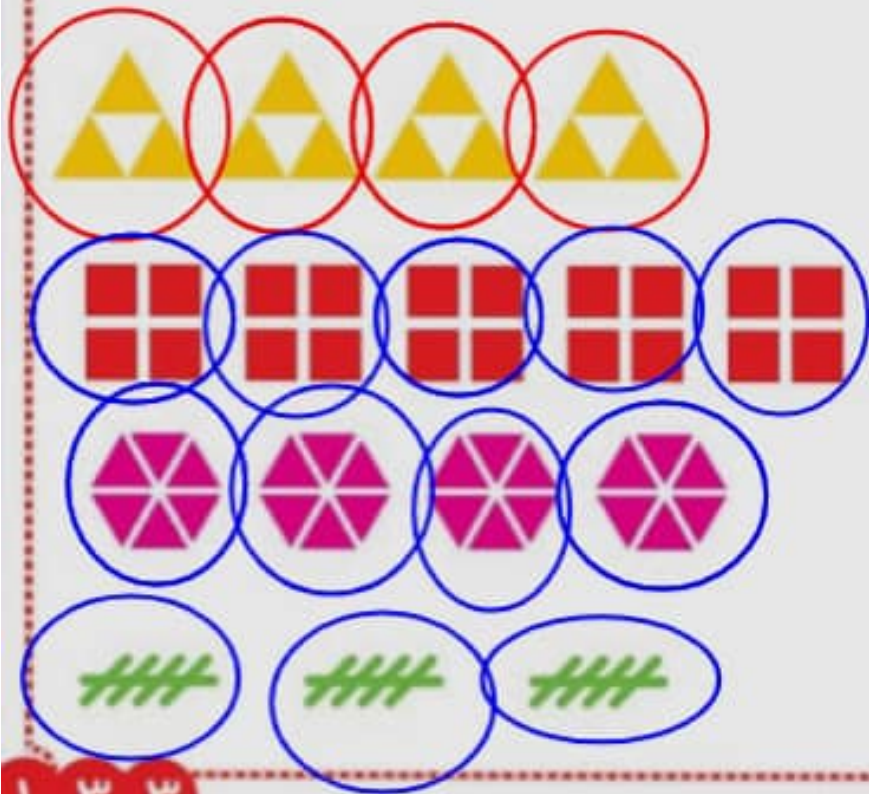
۴ تا ۶ تایی می‌شود ۲۴ تا



۳ تا ۵ تایی می‌شود ۱۵ تا



تعداد هر قسمت را با کامل کردن جمله‌ها مشخص کنید.



۴ تا ۳ تایی می‌شود 12

20 تا 5 تایی می‌شود 4

24 تا 4 تایی می‌شود 6

15 تا 3 تایی می‌شود 5