



موضوع: تمرین مروری (اجباری)

تاریخ

نام و نام خانوادگی

هدف: تکرار آموخته‌ها

۱- جاهای خالی را کامل کنید.

الف) یک ربع بعد از ساعت ۲:۴۵ ساعت ..... می باشد.

ب) ..... دقیقه طول می کشد تا عقربه‌ی بزرگ ساعت از عدد ۷ به ۹ برسد.

پ) عدد دورقمی که رقم یکانش ۳ و دهگان‌ش ۵ تا از یکانش بیشتر است عدد ..... می باشد.

ت) ۳۷ میلی متر یعنی ..... سانتی متر و ..... میلی متر.

ث) ۴ سانتی متر و ۹ میلی متر یعنی ..... میلی متر.

ج) در شمارش ده تا ده تا عدد بعد از ۴۹۰ ..... است.

چ) به محل نمایش و نشان دادن ..... می گویند.

ح) به کسی که نمی بیند ..... می گویند.

خ) از چرخش زمین به دور خودش ..... به وجود می آید.

د) موادی که شکل معینی دارند ..... نامیده می شوند.

ذ) کره با ..... آب می شود.

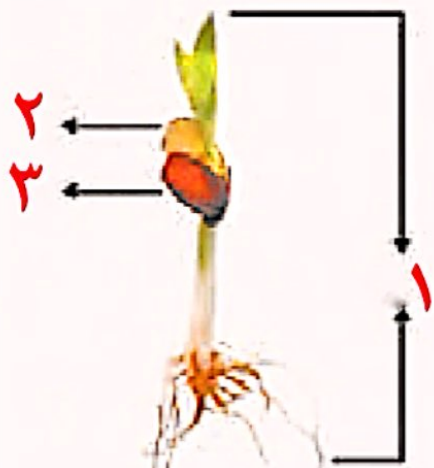


۲- سامیار ۷ سکه‌ی صد ریالی، ۱۲ سکه‌ی ده ریالی و ۱ سکه‌ی یک ریالی دارد. او به خواهرش ۲۱۳ ریال و به برادرش ۴۰۹ ریال پول داد. چند ریال برای سامیار باقی مانده است؟ (تکنیکی)


۳- معنی کلمات روبه روبرو بنویسید. الف) فراوان: ..... ب) وسط: ..... ت) نیاز: .....

۴- اولین روز سال نو در کشور ما چه روزی است؟

۵- می دانی که یک دانه دارای قسمت‌های مختلفی از جمله پوسته، اندوخته و گیاهک می باشد، قسمت‌های مختلف این دانه را نام گذاری کن.



۲- کدام شکل‌ها به قسمت‌های مساوی تقسیم شده‌اند؟ زیر آن‌ها تعداد قسمت‌های مساوی را بنویسید.




۴ قسمت مساوی



۳ قسمت مساوی



۳ قسمت مساوی



۱۶ قسمت مساوی


۳- به تصویر صفحه‌ی اول این فصل نگاه کنید.

پرچم جمهوری اسلامی ایران به چند قسمت مساوی تقسیم شده است؟ ۳ قسمت

چند قسمت آن به رنگ سبز است؟ ۱ قسمت

چند قسمت آن به رنگ قرمز است؟ ۱ قسمت

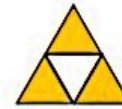
۴- مانند نمونه جمله‌ها را با نوشتن عدد مناسب کامل کنید و نشان دهید چه بخشی از شکل رنگ شده است.



۴ قسمت از ۸ قسمت



۶ قسمت از ۱۰ قسمت



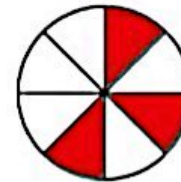
۲ قسمت از ۴ قسمت



۲ قسمت از ۸ قسمت



۵ قسمت از ۱۵ قسمت



۳ قسمت از ۸ قسمت

