




در جدول زیر میزان تصادفات تهران در هفته‌ی گذشته نشان داده شده است. نمودار تصویری مربوط به جدول را رسم کرده، سپس به پرسش‌های زیر پاسخ بده.


روزهای هفته	شنبه	یکشنبه	دوشنبه	سه‌شنبه	چهارشنبه	پنجشنبه	جمعه
تعداد تصادفات	۲۹	۱۳	۱۵	۵	۴۹	۳۴	۱۸
تعداد تقریبی	۳۰	۱۰	۲۰	۱۰	۵۰	۳۰	۲۰



الف: بیش‌ترین آمار تصادف در کدام روز هفته بوده است؟

ب: کم‌ترین آمار تصادف در کدام روز هفته بوده است؟

۲ در شکل زیر ۴ جزیره دیده می‌شود. اگر بخواهیم بین همه‌ی آن‌ها پل بسازیم، چند پل باید ساخته شود؟ پل



۳ مجموع سن درنا و مادرش ۶۷ سال است. اگر درنا ۱۹ ساله باشد، سن مادرش چقدر است؟

مادرش ۴۸ ساله است.  $67 - 19 = 48$

# تمرین


۱ اگر هر  را نشان دهنده‌ی ۱۰ و هر  نشان دهنده‌ی ۵ باشد، هر عبارت را به پاسخ صحیح آن وصل کن.

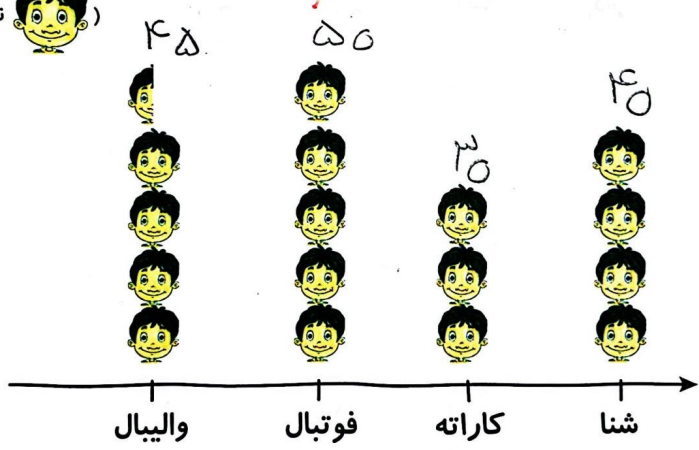
۲۵	☺	☹	<input type="checkbox"/>	<input type="checkbox"/>	<input type="checkbox"/>
۱۵	☺	☹	<input type="checkbox"/>	<input type="checkbox"/>	<input type="checkbox"/>
۳۰	☺	☹	<input type="checkbox"/>	<input type="checkbox"/>	

۲ درستی  و نادرستی  هر عبارت را مشخص کن.  
 الف: یک ساختمان ۳ طبقه دارد و تعداد واحدهای آن ۲۴ تا می‌شود. این ساختمان در هر طبقه ۷ واحد دارد.

ب: اگر  برابر با ۱۰۰ باشد حاصل شکل  برابر با ۴۰۰ است.

۳ برنا در بین کلاس دومی‌های علوی، برای چهار رشته‌ی ورزشی، آمار علاقه‌مندی را به شکل نمودار تصویری کشیده است. با توجه به نمودار به پرسش‌ها پاسخ بده.

(نشانه‌ی ۱۰ نفر علاقه‌مند است.) 



الف: کدام ورزش بیشترین علاقه‌مند را دارد؟ فوتبال

ب: چند نفر به ورزش والیبال علاقه دارند؟ ۴۵ نفر

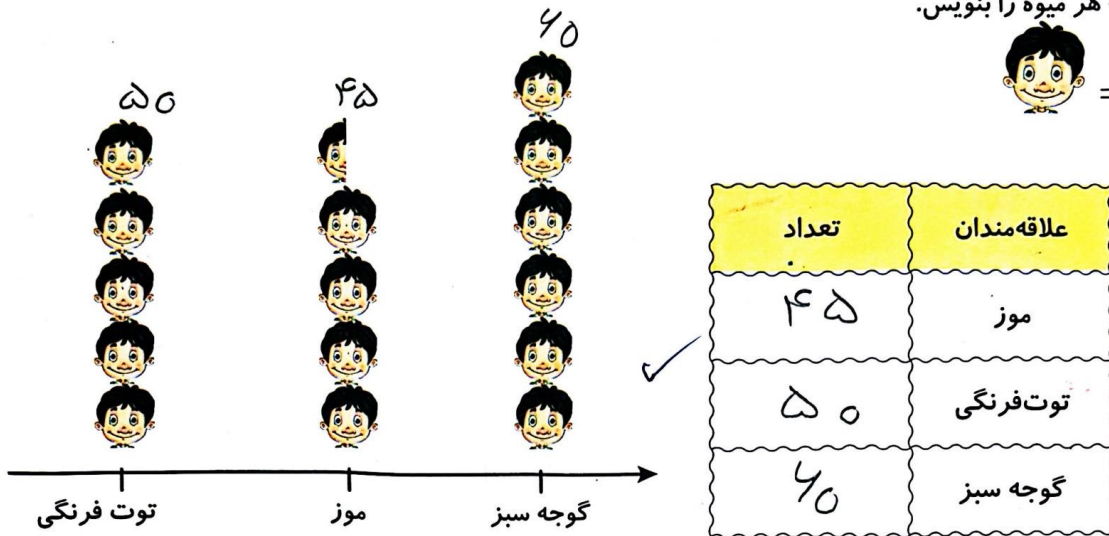
پ: علاقه‌مندان به کدام ورزش کمترین تعداد را دارند؟ کاراته



# علوی

۴ نمودار تصویری زیر تعداد علاقه‌مندان به میوه‌های موز، توت فرنگی و گوجه سبز را در یک مدرسه نشان می‌دهد. تعداد

علاقه‌مندان به هر میوه را بنویس.



۵ درنا یک دفتر و یک پاک‌کن خرید و ۷۸ ریال پول داد. اگر قیمت دفتر ۵۳ ریال باشد، قیمت پاک‌کن چقدر است؟

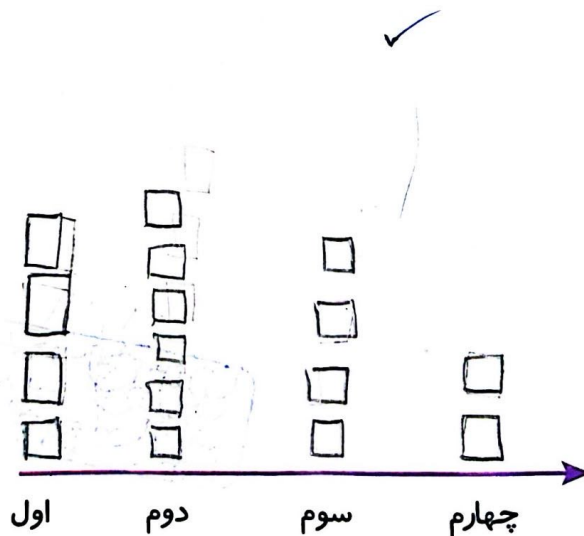
قیمت پاک‌کن ۲۵ ریال است.

$$78 - 53 = 25$$

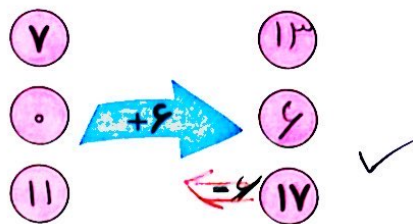
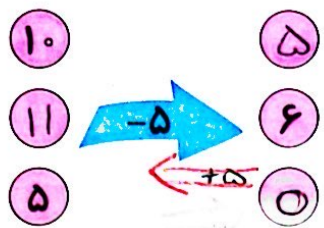
۶ تعداد دانش‌آموزان کلاس اول تا چهارم در مدرسه‌ای در جدول زیر آمده است نمودار تصویری را برای آن رسم کن.

کلاس	اول	دوم	سوم	چهارم
تعداد دانش‌آموزان	۱۶	۳۱	۲۲	۱۴
تعداد تقریبی دانش‌آموزان	۲۰	۳۰	۲۰	۱۰

(هر  نشان‌دهنده ۵ دانش‌آموز می‌باشد.)



جاهای خالی را پر کن.



جدول سمت چپ نشان می‌دهد که دانش آموزان کلاس دوم مدرسه‌ی علوی به چه فصل‌هایی علاقه‌مند می‌باشند. جدول سمت راست را کامل کن.

فصل‌ها	تعداد دانش آموزان
بهار	
تابستان	
پاییز	
زمستان	

فصل‌ها	تعداد دانش آموزان
بهار	
تابستان	
پاییز	
زمستان	

دو دانش آموز یک دانش آموز

با توجه به جدول بالا به سؤالات زیر پاسخ بده و گزینه‌ی صحیح را انتخاب کن.

الف: تعداد دانش آموزان در کدام فصل سال بیش‌تر است؟

- بهار (1)  تابستان (2) پاییز (3) زمستان (4)

ب: در کدام فصل سال اختلاف تعداد دانش آموزان 5 تا است؟

- بهار و تابستان (1)  تابستان و پاییز (2) پاییز و زمستان (3) بهار و زمستان (4)

پ: مجموع تمام تعداد دانش آموزان کلاس دوم علوی چند نفر است؟

- 32 (1) 31 (2)  33 (3) 35 (4)

$$12 + 10 + 5 + 6 = 33$$

ریاضی دوم دبستان

