


۲- یک نفر ۲ دفتر و یک پاک کن خرید و ۹۵۰ تومان پول داد. قیمت دفتر ۴۰۰ تومان بود. قیمت پاک کن را پیدا کنید.

قیمت ۲ دفتر

$$۴۰۰ + ۴۰۰ = ۸۰۰$$

$$\square + ۸۰۰ = ۹۵۰$$



حدس اول :  $\square + ۸۰۰ = ۹۰۰$  ❌

حدس دوم :  $\square + ۸۰۰ = ۹۵۰$  ✓

قیمت پاک کن ۱۵۰ تومان است .


## روشن نمادین

صفحه ی ۱۳۵ کتاب درسی ریاضی

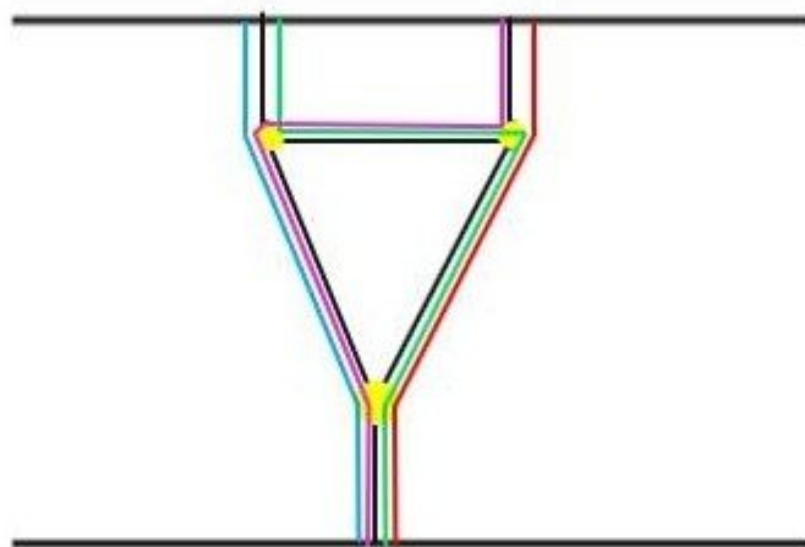


در داخل یک دریاچه ی مصنوعی، چند محل تفریح وجود دارد. بین تمام این محل های تفریح و کناره ی دریاچه پل زده شده است. اگر فردی بخواهد از یک طرف دریاچه به طرف دیگر برود، بدون این که از یک مسیر دوبار عبور کند، از چند راه مختلف می تواند عبور کند؟ **۴ راه**

برای حل مسئله می توانید به جای محل های تفریح، از نقطه و به جای پل ها از خط استفاده کنید.

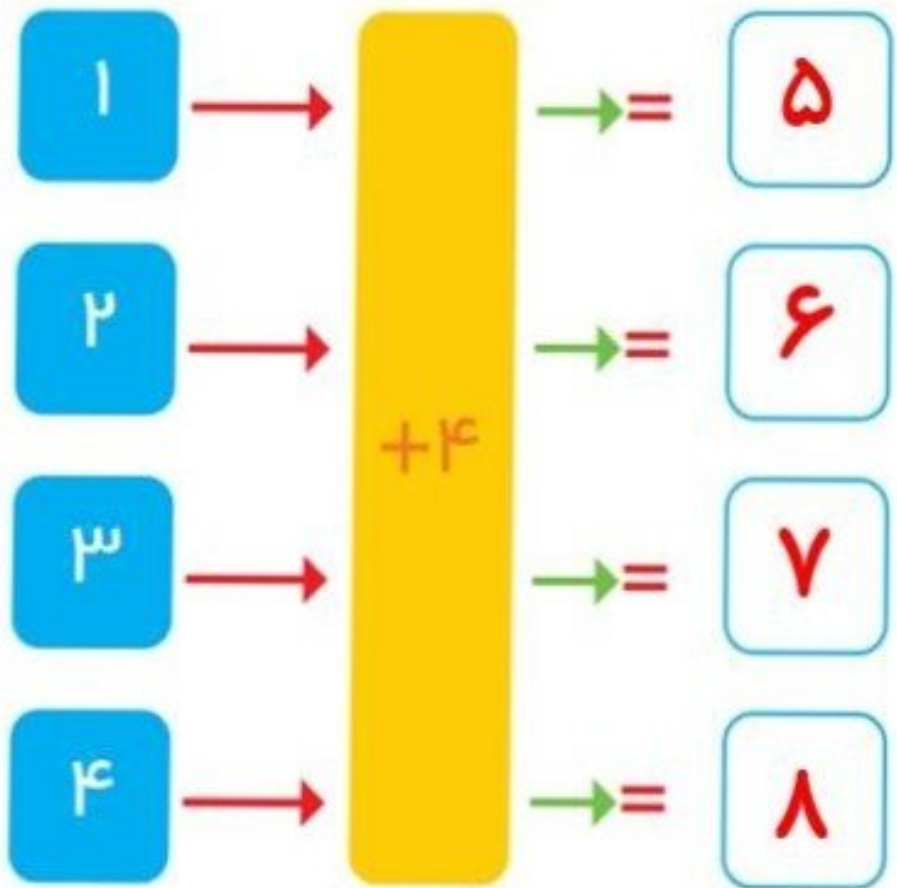


برای حل مسئله می‌توانید به جای محل‌های تفریح، از نقطه و به جای پل‌ها از خط استفاده کنید.



کامل کن

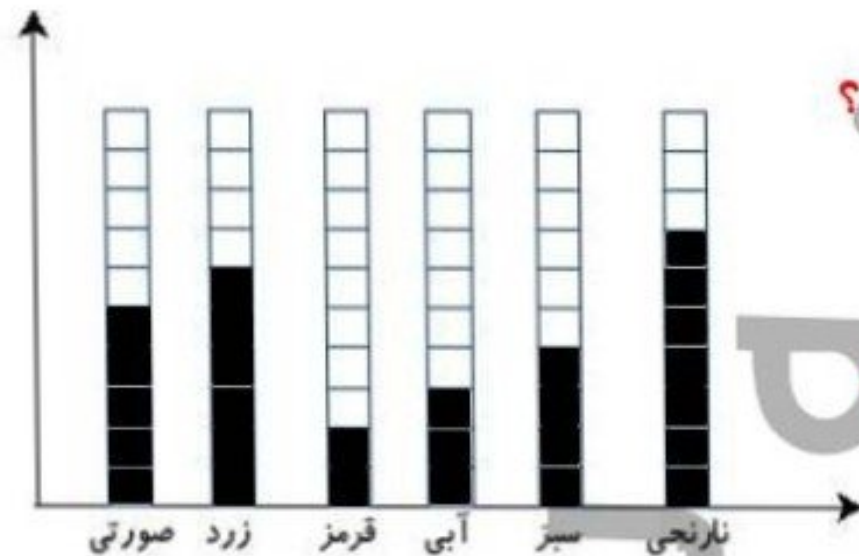
جاهای خالی را کامل کنید.





در جدول زیر تعداد دفعاتی را که در نا از یک رنگ در نقاشی‌هایش استفاده کرده نشان داده شده است. آن‌ها را در نمودار ستونی زیر نشان بده و سپس دو پرسش بساز و خودت پاسخ بده.

نام رنگ	سبز	آبی	قرمز	نارنجی	صورتی	زرد
تعداد دفعات استفاده شده	۴	۳	۲	۷	۵	۶



الف: از کدام رنگ بیشترین استفاده شده است؟  
نارنجی

ب: کدام رنگ از همه ی رنگ‌ها کم‌تر استفاده شده است؟  
قرمز