



موضوع:

تاریخ:

نام و نام خانوادگی:

هدف:

جاهای خالی را کامل کنید.

۱	→	+۳	⇒	۵
۲	→		⇒	۶
۳	→		⇒	۷
۴	→		⇒	۸

۷

۹

۵

۸




۴

۶

۲

۵





موضوع:

تاریخ:

نام و نام خانوادگی:

هدف:

## نمودار تصویری




۱- عدد ۲۳ به ۲۰ نزدیک تر است یا ۳۰؟ ۲۰

عدد ۴۷ به ۴۰ نزدیک تر است یا ۵۰؟ ۵۰

عددهای زیر را به نزدیک ترین ده تایی به صورت تقریبی بنویسید.

۳۶ → ۴۰

۵۲ → ۵۰    ۲۱ → ۲۰    ۱۹ → ۲۰





موضوع:

تاریخ:

نام و نام خانوادگی:

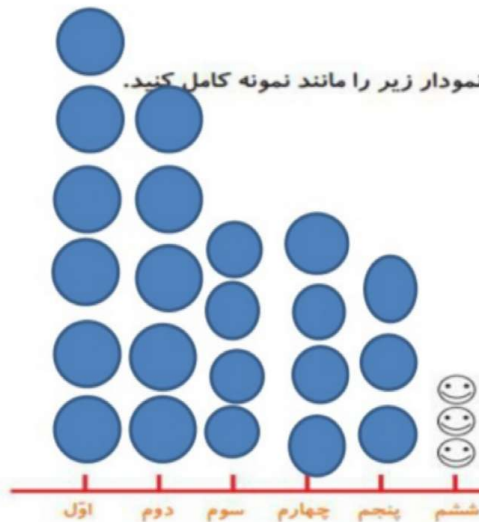
هدف:

فعالیت


۲- در یک دبستان تعداد دانش آموزان کلاس های اول تا ششم به صورت زیر است:

ششم	پنجم	چهارم	سوم	دوم	اول	کلاس
۳۱	۲۸	۳۹	۴۴	۴۸	۶۱	تعداد دانش آموزان
۳۰	۳۰	۴۰	۴۰	۵۰	۶۰	تعداد تقریبی

ابتدا تعداد تقریبی دانش آموزان در کلاس را مانند سؤال اول بنویسید و جدول را کامل کنید.



اگر هر ۱۰ دانش آموز را با 😊 نشان دهیم، نمودار زیر را مانند نمونه کامل کنید.





موضوع:

تاریخ:

نام و نام خانوادگی:

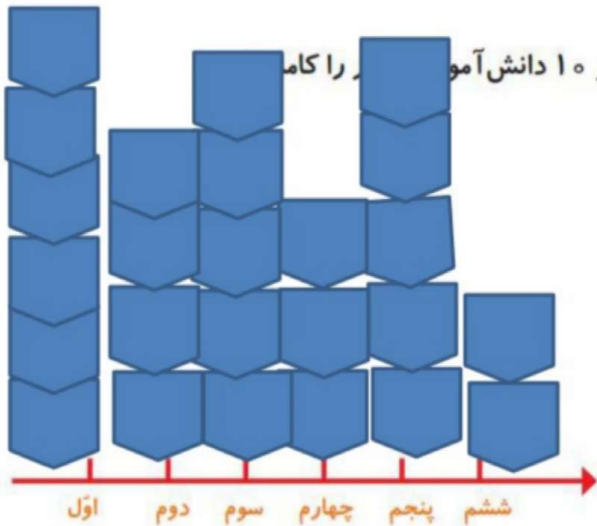
هدف:

۱- از آموزگار تعداد دانش آموزان کلاس‌های مدرسه‌ی خودتان را بپرسید و جدول را کامل کنید.  
سپس تعداد تقریبی هر کلاس را پیدا کنید.




کار در کلاس

ششم	پنجم	چهارم	سوم	دوم	اول	کلاس
۲۴	۴۶	۲۶	۴۷	۳۵	۵۷	تعداد دانش آموزان
۲۰	۵۰	۳۰	۵۰	۴۰	۶۰	تعداد تقریبی



با در نظر گرفتن یک  برای هر ۱۰ دانش آموز را کامل کنید.






موضوع:


تاریخ

نام و نام خانوادگی

هدف:

۲- تعداد خانه‌ها در چند خیابان در جدول زیر مشخص شده است. اگر هر ۱۰ خانه را با  نشان دهیم، جدول را کامل کنید.

نمودار تصویری	تعداد خانه‌ها	نام خیابان
	۴۰	انقلاب
	۶۰	آزادی
	۵۰	استقلال
	۳۵	امام رضا





موضوع:

تاریخ

نام و نام خانوادگی

هدف:

۱- تعداد درخت‌های سرودر چند خیابان شهر سروسن شمرده شده است. این عددها به صورت تقریبی نوشته شده‌اند. اگر هر ۱۰ درخت را با  نشان دهیم، جدول را کامل کنید.



نمودار تصویری	تعداد درخت‌ها	نام خیابان
	۵۰	سعدی
	۴۰	حافظ
	۶۵	مولوی

