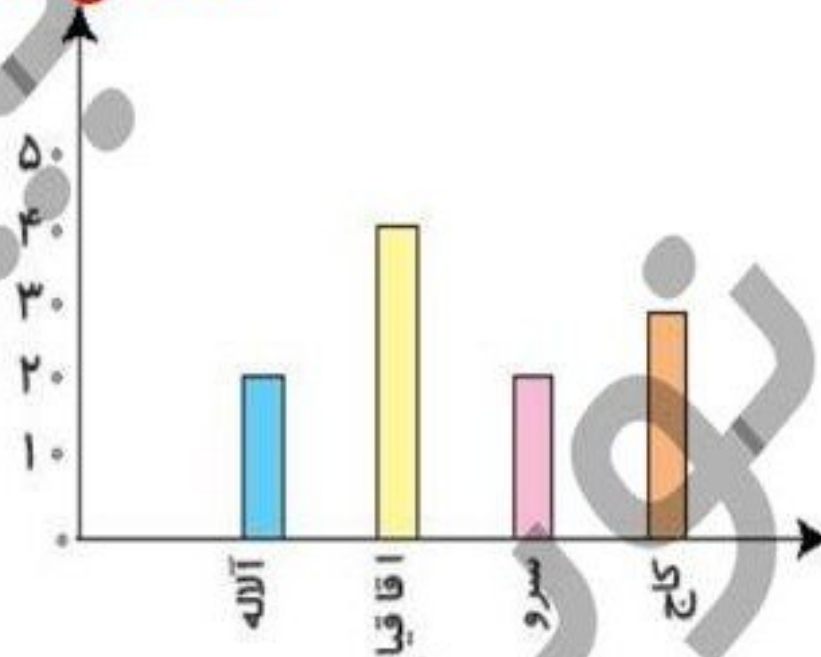


۲ به نمودار زیر توجه کن، سپس جاهای خالی را کامل کن.

صفحه ی ۱۹۰ کتاب کار ریاضی



شهر دلی یک شهرستان یک سرشماری بر روی تعداد خانه‌های چند کوچه در یک محله انجام داده است. سپس نمودار آن را رسم کرده است. از این نمودار می‌توان فهمید که تعداد خانه‌های کوچه ی **اقا قیا** از همه کوچه‌ها بیشتر است. تعداد خانه‌های کوچه ی **سرو** و **آلاله** با هم برابر است. تعداد خانه‌های کوچه ی کاج از تعداد خانه‌های کوچه ی آلاله **بیشتر** است.

صفحه ی ۱۹۰ کتاب کار ریاضی

۲۵

۲۰

۳۴

۳۱۲

۷

اعداد زوج را رنگ کن.

۲

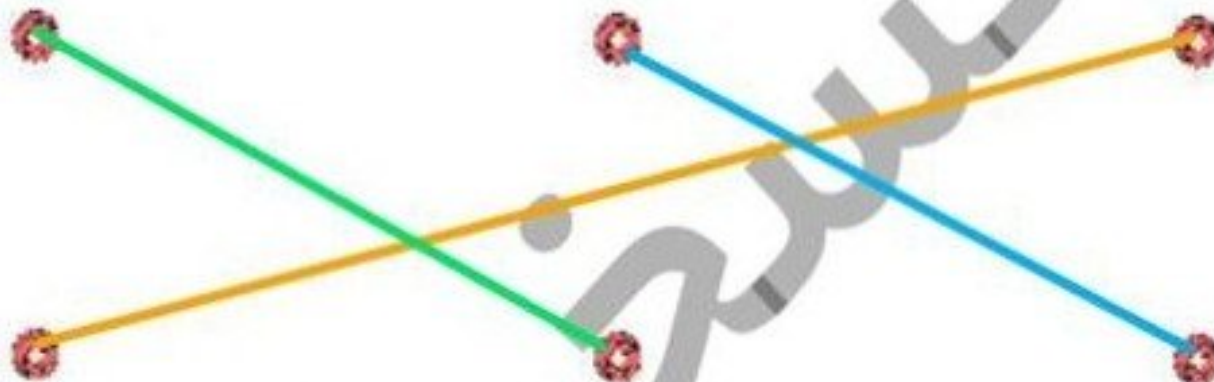
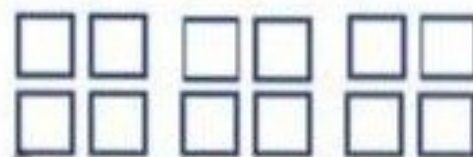


ریاضی دوم دبستان



تمرین




۱ با توجه به شکل‌ها، هر عبارت را به پاسخ صحیح آن وصل کن.



۳ دسته ی ۴ تایی می شود ۱۲ تا

۳ دسته ی ۳ تایی می شود ۹ تا

۲ دسته ی ۵ تایی می شود ۱۰ تا



۲ با توجه به نمودار، درستی و نادرستی هر عبارت را مشخص کن.

الف: تمام دانش آموزان کلاس نمرات بدی کسب کرده‌اند.

ب: بیش‌تر دانش آموزان نمره‌ی بسیار خوب کسب کرده‌اند.

پ: تعداد دانش آموزانی که بسیار خوب دریافت کرده‌اند کم‌تر از تعداد


دانش آموزانی است که قابل قبول کسب کرده‌اند.

با توجه به شکل‌ها، در جای خالی عدد مناسب بنویس.

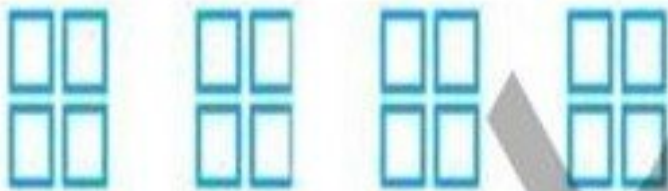
صفحه ی ۱۹۱ کتاب کار ریاضی



الف: ۳ دسته‌ی ۳ تایی می‌شود تا. ۹



ب: ۲ دسته‌ی ۵ تایی می‌شود تا. ۱۰



پ: ۴ دسته‌ی تایی می‌شود ۱۶ تا. ۴

الف: تمام عددهای ۱۷، ۸۱، ۶۷، ۵۵ **فرد** هستند، چون رقم یکان آنها **فرد** ... است.

۴

ب: تمام عددهای ۸۰، ۹۲، ۳۴، ۴۶ **زوج** هستند، چون رقم یکان آنها **زوج** ... است.

