

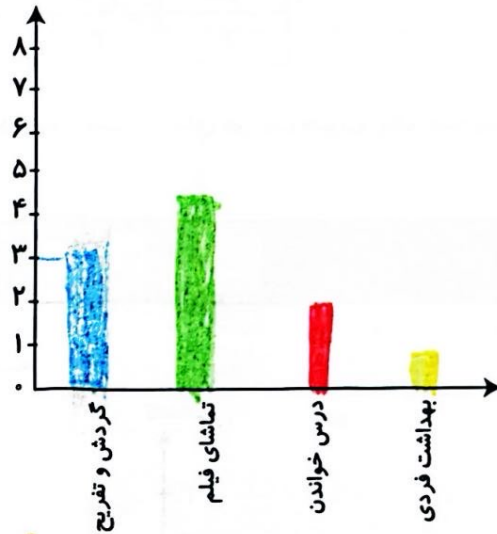

فعالیت کلاسی




۱ بعضی از کارهایی که برنا در یک روز انجام داده، در جدول زیر نوشته شده است. برای هر ساعت یک قسمت از شکل

داده شده را رنگ آمیزی کن سپس نمودار ستونی را برای آن رسم کن.

بهداشت فردی	گردش و تفریح	تماشای فیلم	درس خواندن	کارهای انجام داده
۱	۳	۴	۲	ساعت

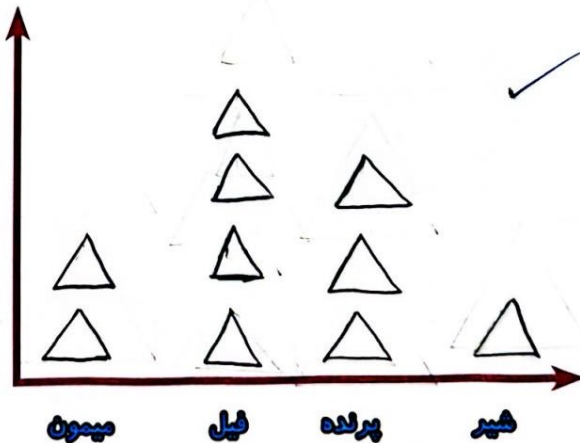


۲ در یک باغ وحش تعدادی حیوان نگهداری می‌شوند، پس از کامل کردن جدول، نمودار تصویری را رسم کن.



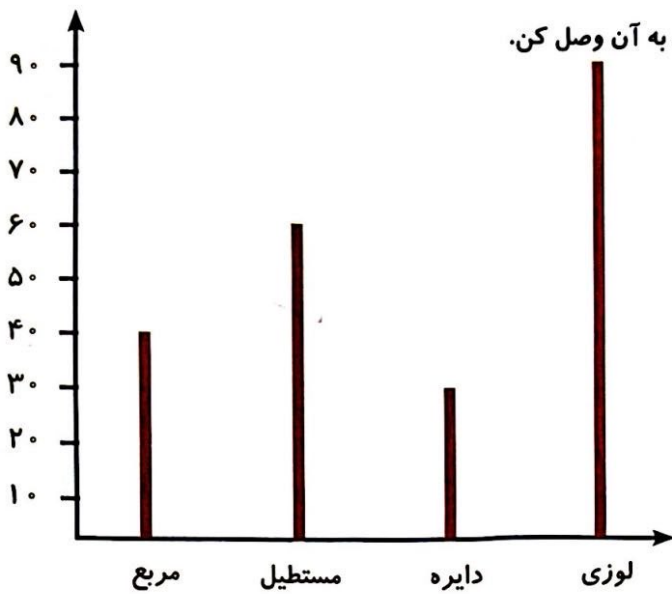
شیر	پرنده	فیل	میمون	نام حیوان
۱۲	۲۵	۳۷	۱۸	تعداد
۱۰	۳۰	۴۰	۲۰	تعداد تقریبی

(هر ۱۰ حیوان را با \triangle نشان بده.)

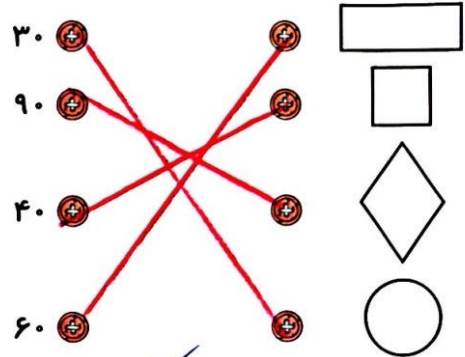


ریاضی دوم دبستان





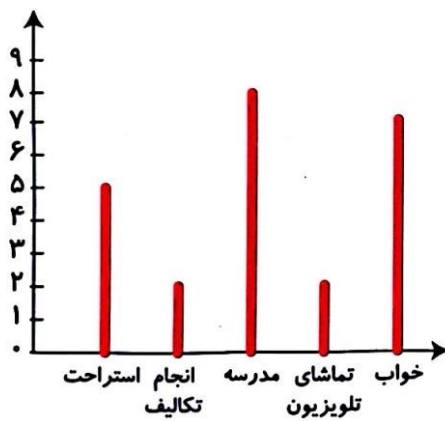
۱ با توجه به نمودار ستونی، هر شکل را به عدد مربوط به آن وصل کن.



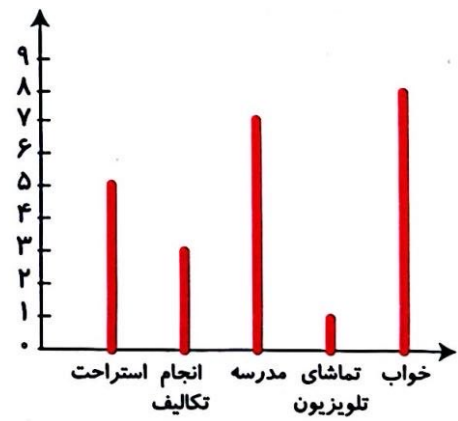
۲ درستی و نادرستی هر عبارت را مشخص کن.

- الف: نمودار ستونی برای نمایش اطلاعات بهتر از نمودار تصویری است.
- ب: یک سکه را ۲۰ بار پرتاب می‌کنیم. احتمال پشت یا رو آمدن سکه در پرتاب یکسان است.
- پ: اگر به عدد ۳۸ یک دسته‌ی ۱۰۰ تایی اضافه کنیم عدد بدست آمده یک عدد فرد است.

۳ نمودار کارهای روزانه‌ی درنا و برنا را در یک شبانه روز رسم کرده‌ایم. با توجه به نمودارها به پرسش‌های زیر پاسخ بده.



برنا

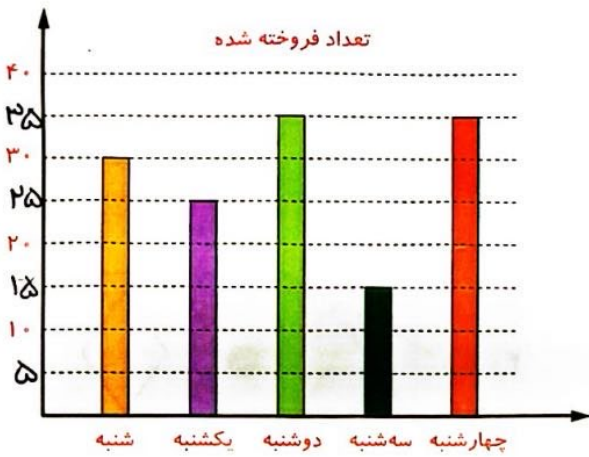


درنا

- الف: کدام یک مدت زمان بیش‌تری را برای انجام تکالیف خود اختصاص می‌دهند؟ برنا
- ب: کدام یک بیش‌تر در مدرسه می‌ماند؟ برنا
- پ: کدام یک مدت‌زمان بیش‌تری را صرف تماشای تلویزیون می‌کند؟ برنا
- ت: مجموع استراحت و انجام تکالیف کدام یک کم‌تر است؟ برنا



۴ نمودار زیر تعداد پاکت‌های شیر را که یک فروشگاه در روزهای هفته فروخته است، نشان می‌دهد. این فروشگاه در روز



شنبه و کل هفته به ترتیب چند پاکت شیر فروخته است؟

الف: تعداد پاکت‌های شیر در روز شنبه

۳۰

ب: تعداد پاکت‌های شیر در کل هفته

$$30 + 25 + 35 + 15 + 35 = 140$$

۵ الگوهای عددی زیر را ادامه بده.

الف: ۶۴۵, ۶۴۰, ۶۳۵, ۶۳۰, ۶۲۵, ۶۲۰
ب: ۸۰۲, ۸۰۴, ۸۰۶, ۸۰۸, ۸۱۰, ۸۱۲

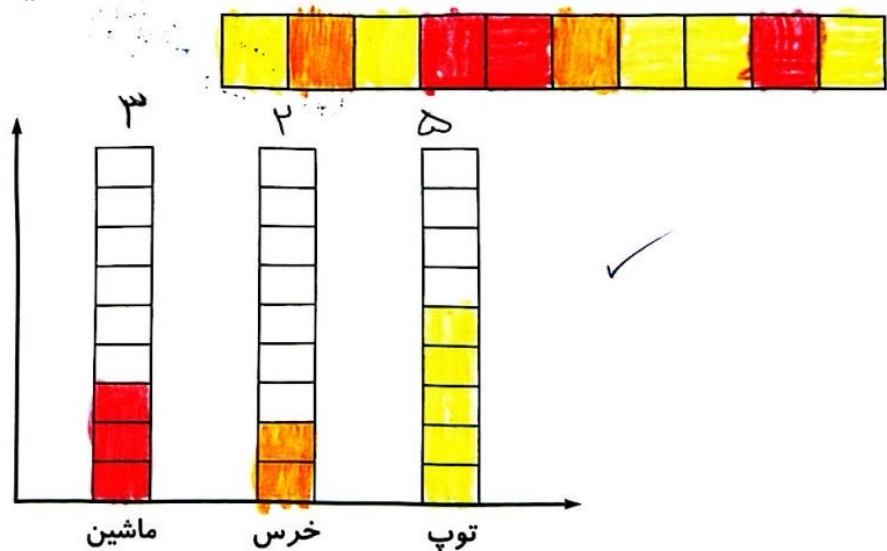
۶ در یک شهر بازی جایزه‌های مختلف روی صفحه‌ی چرخنده قرار گرفت. ۱۰ بچه با چرخاندن صفحه و ایستادن عقربه‌ی

آن، جایزه‌های زیر را برنده شدند. با توجه به راهنما، جایزه‌ها را روی شکل و نمودار نشان داده و به سؤالات پاسخ بده.

جایزه‌ی بچه‌ها: توپ - عروسک خرس - توپ - ماشین - ماشین - عروسک خرس - توپ - توپ - ماشین - توپ



راهنما: توپ: زرد، عروسک خرس: نارنجی، ماشین: قرمز



الف: چند قسمت از شکل قرمز است؟ قسمت از قسمت مساوی



ب: بچه‌ها به احتمال بیش‌تر کدام جایزه را برنده می‌شوند؟ توپ



علوی

نمودار زیر ۵۰۰ درخت سرو و ۱۵۰ درخت صنوبر را نشان می‌دهد. هر نشان‌دهنده چند درخت است؟

۷

سرو	
صنوبر	

۵۰ (۱)

✓

۱۰۰ (۲)

۱۵۰ (۳)

۲۰ (۴)