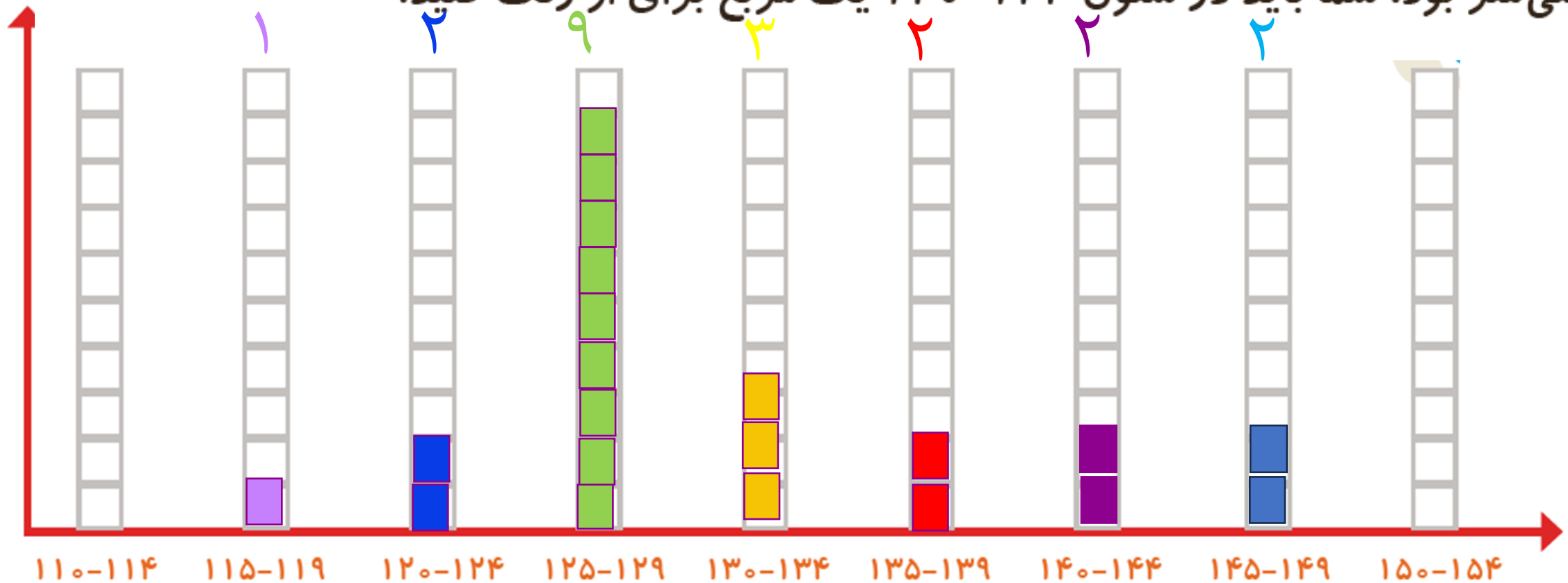


فصل هشتم

نمودار ستونی

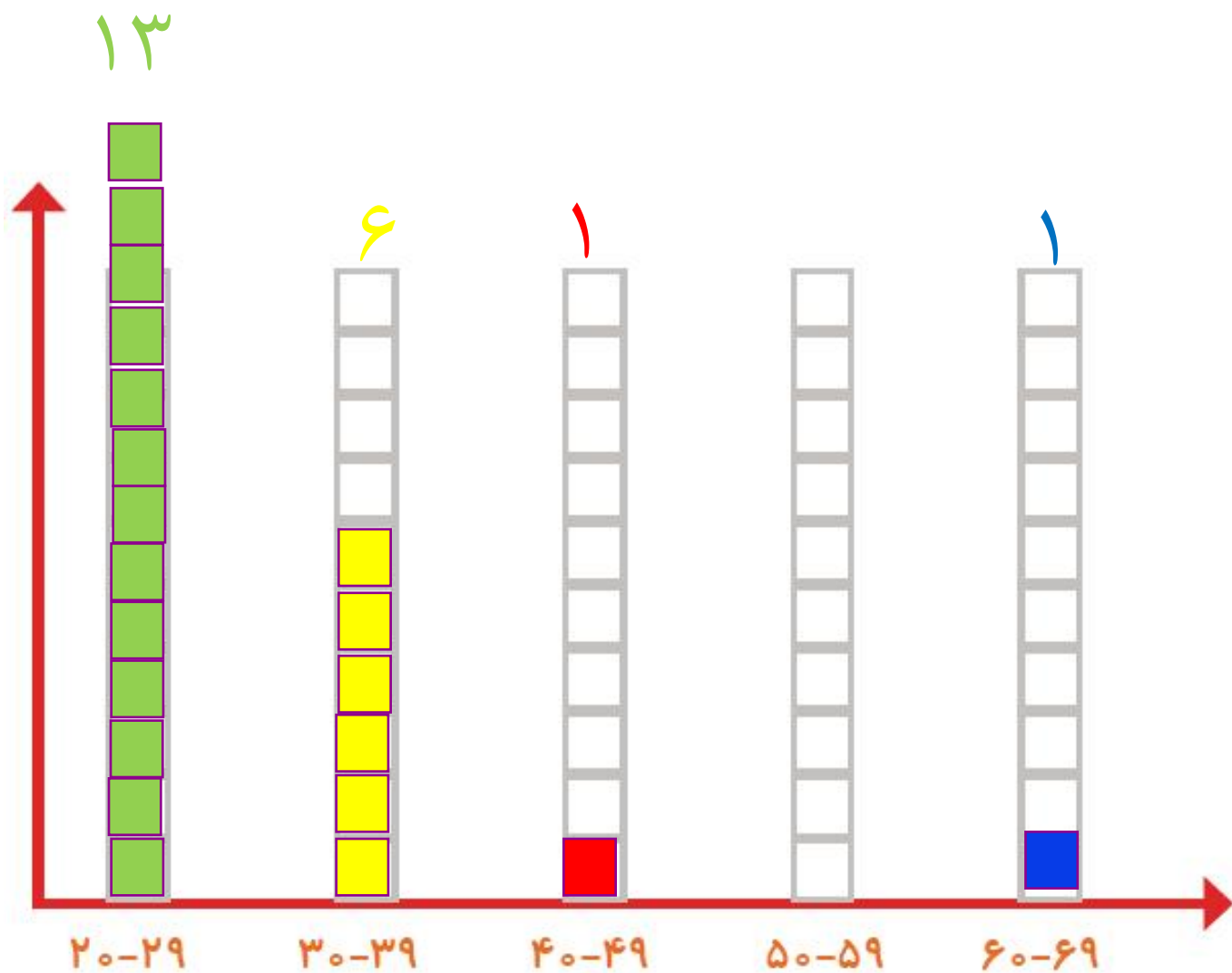


۱- به کمک آموزگار قد دانش آموزان کلاس را اندازه بگیرید. با توجه به عددهای نوشته شده برای هر نفر در ستون مربوطه یک مربع رنگ کنید. برای مثال اگر قد دانش آموزی ۱۲۳ سانتی متر بود، شما باید در ستون ۱۲۰-۱۲۴ یک مربع برای او رنگ کنید.

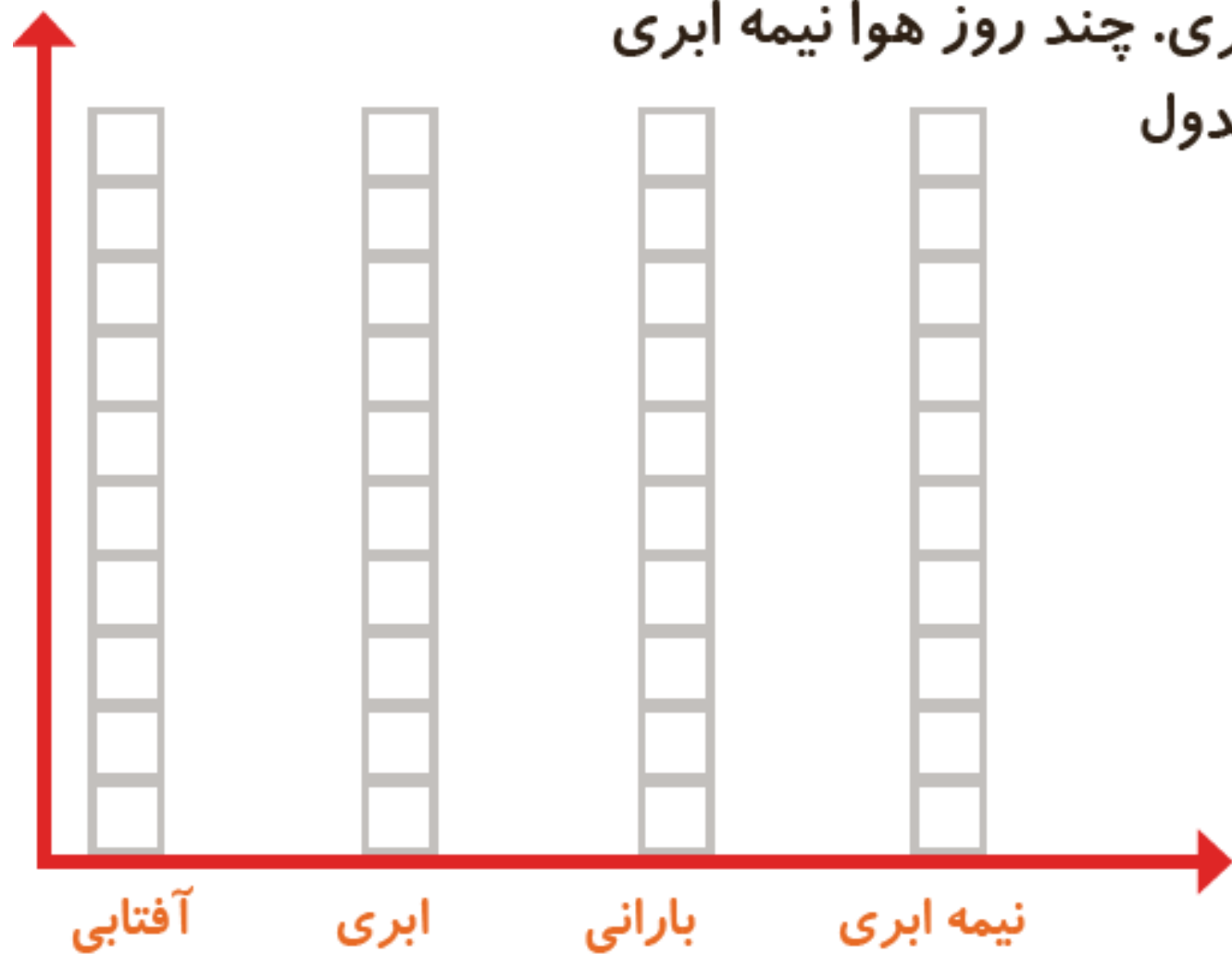


بیشتر دانش آموزان در چه قسمتی قرار گرفته اند؟ ۱۲۵-۱۲۹

۲- همین کار را برای وزن هم انجام دهید. آموزگار وزن هر کس را اعلام کرد، شما در ستون مربوطه یک مربع را رنگ کنید.



۱- امیر وضعیت هوای روزهای مختلف ۴ هفته را یادداشت کرده است: ۴ روز آفتابی، ۶ روز ابری، ۸ روز بارانی و بقیه‌ی روزها نیمه‌ابری. چند روز هوا نیمه ابری بوده است؟ نمودار وضعیت آب‌وهوا و جدول مربوط به آن را کامل کنید.



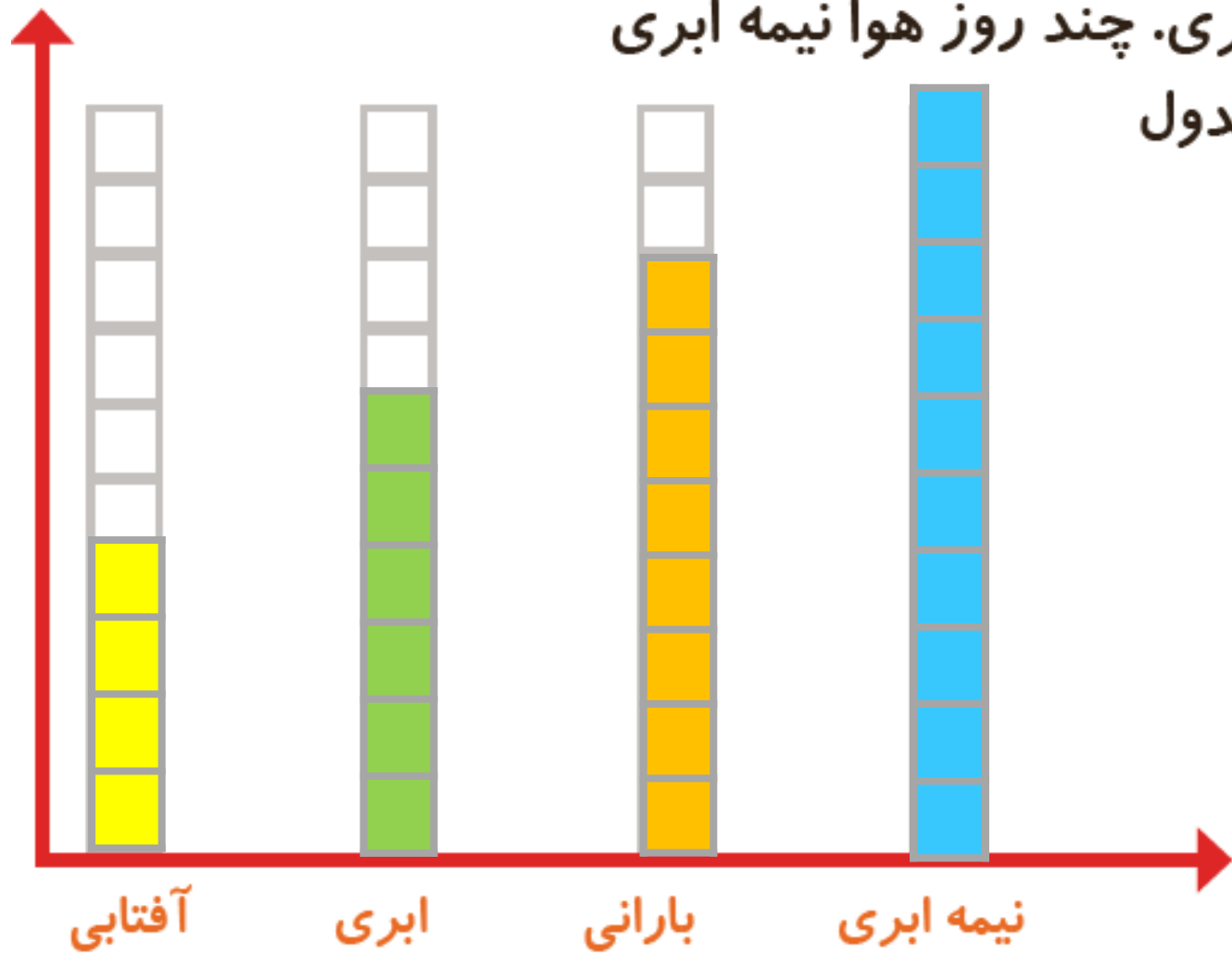
تعداد روز	وضعیت هوا
	آفتابی
	ابری
	بارانی
	نیمه ابری

۱- امیر وضعیت هوای روزهای مختلف ۴ هفته را یادداشت کرده است: ۴ روز آفتابی، ۶ روز

ابری، ۸ روز بارانی و بقیه‌ی روزها نیمه‌ابری. چند روز هوا نیمه ابری

بوده است؟ نمودار وضعیت آب‌وهوا و جدول

مربوط به آن را کامل کنید.



تعداد روز	وضعیت هوا
۴	آفتابی
۶	ابری
۸	بارانی
۱۰	نیمه ابری

جمع ۴ هفته $7+7+7+7=28$

تعداد روزهای نیمه ابری $28-18=10$

۲- ریحانه در یک سال تحصیلی ۶ کتاب کمک درسی، ۱۰ کتاب داستان، ۸ کتاب دفاع مقدّس،

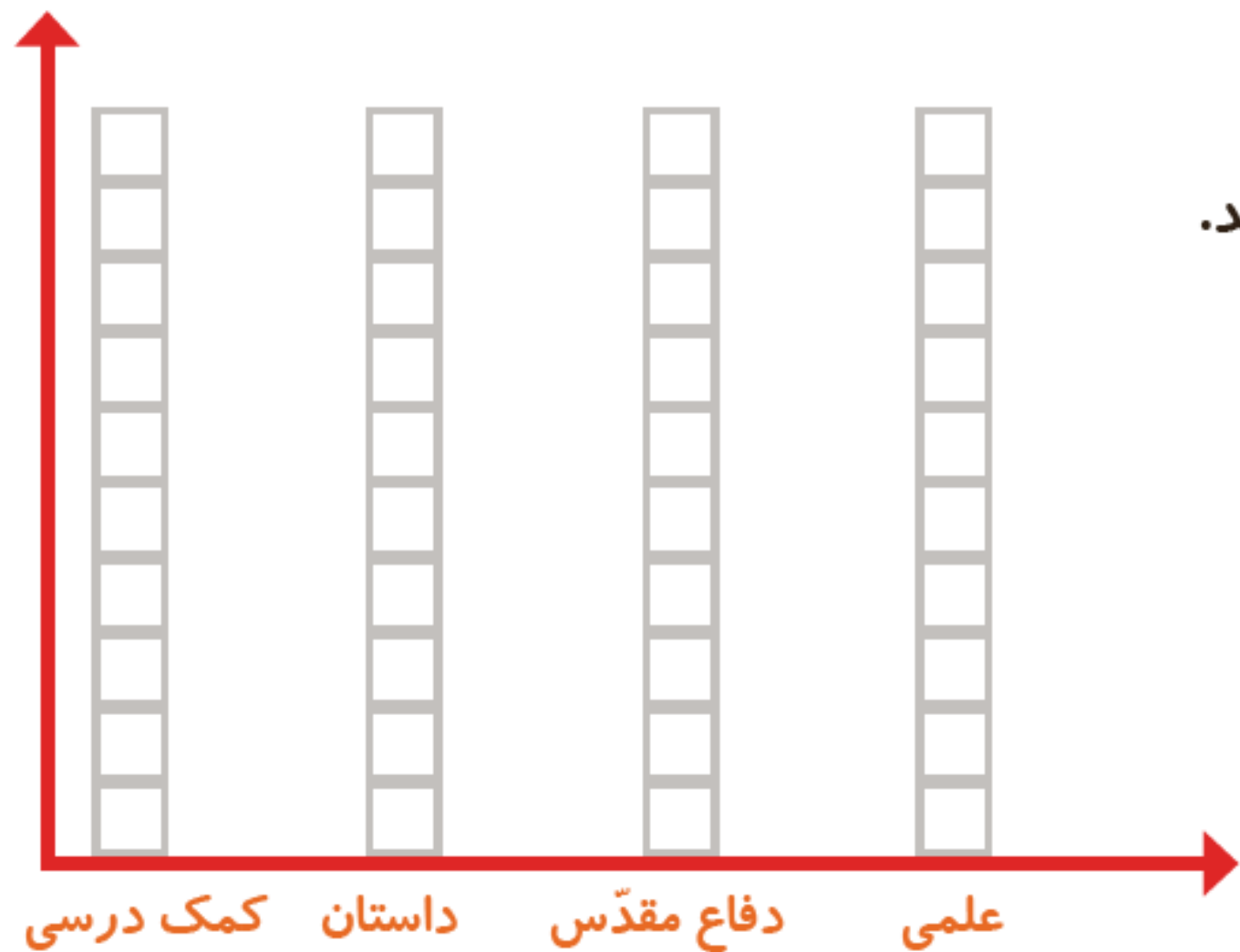
۶ کتاب علمی از کتابخانه‌ی مدرسه

امانت گرفت و خواند.

نمودار کتاب‌های خوانده شده را کامل کنید.

به نظر شما ریحانه به چه نوع کتابی

بیشتر علاقه دارد؟ چرا؟



۲- ریحانه در یک سال تحصیلی ۶ کتاب کمک درسی، ۱۰ کتاب داستان، ۸ کتاب دفاع مقدّس،

۶ کتاب علمی از کتابخانه‌ی مدرسه

امانت گرفت و خواند.

نمودار کتاب‌های خوانده شده را کامل کنید.

به نظر شما ریحانه به چه نوع کتابی

بیشتر علاقه دارد؟ چرا؟



کتاب داستان، زیرا ستون این کتاب از همه‌ی کتاب‌ها بلندتر است.

کامل کن

تعداد هر قسمت را با کامل کردن جمله‌ها مشخص کنید.



۴ تا ۳ تایی می‌شود _____



_____ تا _____ تایی می‌شود _____



_____ تا _____ تایی می‌شود _____



_____ تا _____ تایی می‌شود _____

کامل کن

تعداد هر قسمت را با کامل کردن جمله‌ها مشخص کنید.



۴ تا ۳ تایی می‌شود ۱۲



۵ تا ۴ تایی می‌شود ۲۰



۴ تا ۶ تایی می‌شود ۲۴



۳ تا ۵ تایی می‌شود ۱۵