



شماره‌ی

۲۵

ارمغان هفته - دوم دبستان

نام و نام خانوادگی: تاریخ: نام آموزگار:

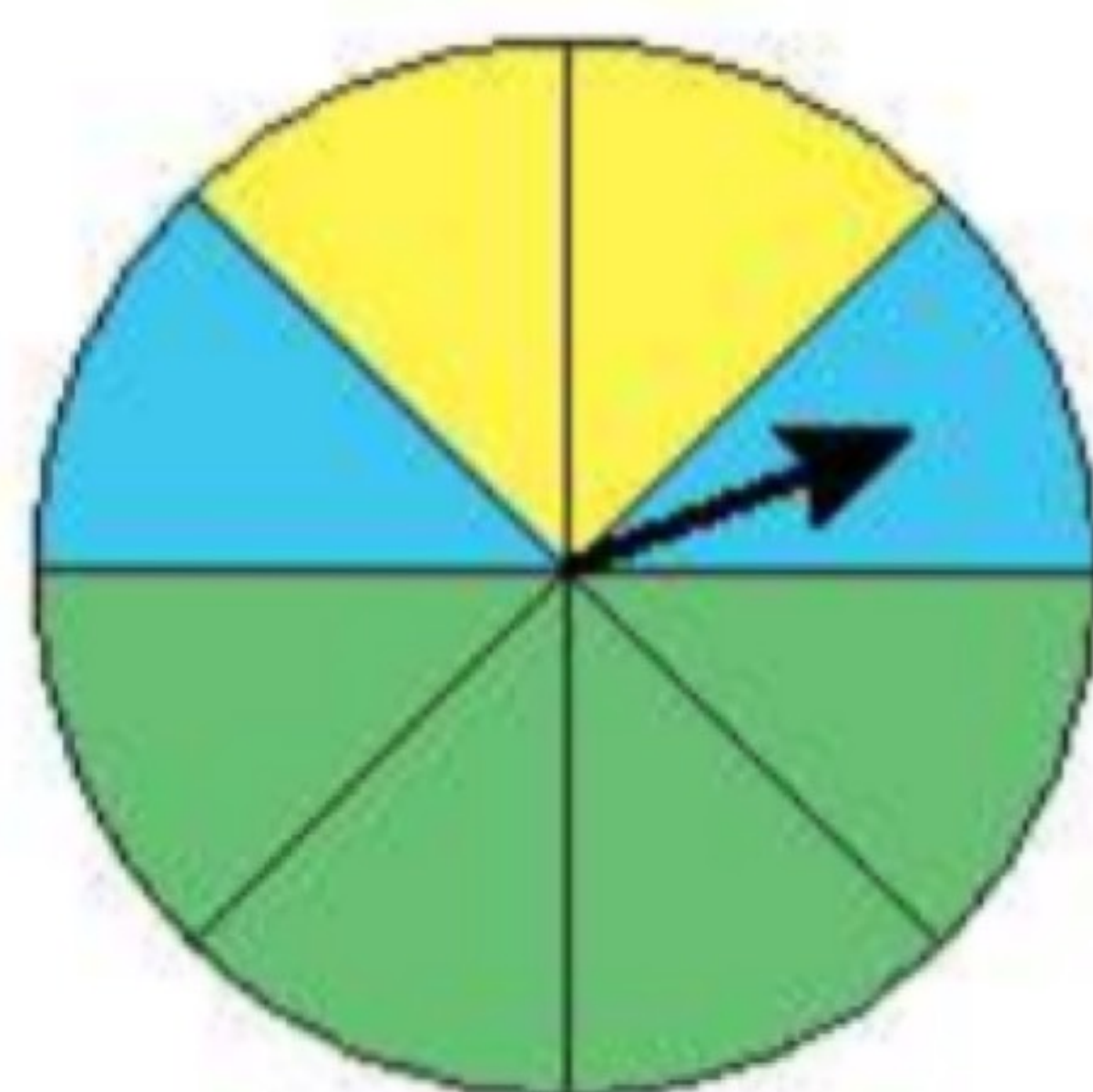
ریاضی < فصل ۷: کسر و احتمال - حل مسئله - مفهوم احتمال

علوم < درس ۱۲: بعد از جشن (۱)

فارسی < درس ۱۵: نوروز (۲)

ریاضی

یک صفحه‌ی چرخنده به صورت زیر رنگ آمیزی شده است. احتمال ایستادن عقربه بر روی هر کدام از رنگ‌ها را مقایسه کرده و در جاهای خالی از کلمات (کم‌تر - بیش‌تر - مساوی) استفاده کنید.



الف) احتمال ایستادن عقربه بر روی رنگ سبز از رنگ زرد است.

ب) احتمال ایستادن عقربه بر روی رنگ زرد با احتمال ایستادن عقربه بر روی رنگ آبی است.

پ) احتمال ایستادن عقربه بر روی رنگ آبی از رنگ سبز است.



برنا ساعت ۷ از خانه بیرون آمد و ۱۵ دقیقه‌ی بعد به مدرسه رسید.

الف) او چند قسمت از یک ساعت را در راه بوده است؟

ب) مقدار چرخش را رنگ کنید.

پ) چند قسمت از یک ساعت مانده تا ساعت ۸ را شود؟

پریسا ۱۲ سال و مادرش ۳۸ سال دارد. وقتی مادرش ۵۰ ساله شود، پریسا چند ساله می‌شود؟

در یک کیسه ۲۰ مهره داریم. ۷ مهره سفید، ۵ مهره قرمز، ۴ مهره بنفش و ۴ مهره آبی.

الف) اگر یک مهره از کیسه بیرون بیاوریم، احتمال این‌که چه رنگی باشد بیش‌تر است؟

ب) مهره از مهره سفید است.


پ) مهره از مهره قرمز است.

ت) مهره از مهره بنفش است.

ث) مهره از مهره آبی است.




با توجه به شکل جمله‌ها را کامل کنید.



تایی می‌شود

دسته

(ب)



تایی می‌شود

دسته

(الف)

علوم

برچسب خوراکی‌هایی که در یخچال قرار می‌گیرند را داخل یخچال بچسبانید.



۲ درستی و نادرستی هر عبارت را مشخص کنید.

الف) از کاغذهای باطله نمی‌توان دوباره استفاده کرد.

ب) ظرفهای چرب را باید با آب سرد شست تا بهتر تمیز شوند.

پ) گوشت و مرغ را باید در جای سرد و خشک قرار داد.

۳ اگر بخواهید زباله‌ها را تفکیک کنید، برچسب هر زباله را در کدام قسمت می‌چسبانید؟

کاغذ	زباله‌های تر	زباله‌های خشک

۴ هر مورد را به مکان نگهداری مرتبط وصل کنید.

نخود و لوبیا

شیر

شکر

بستنی

آجیل

جای سرد و خشک

جای خشک

فارسی

۱ با توجه به متن درس جمله‌ها را با کلمات مناسب کامل کنید.

الف) روز فروردین را مردم می‌گیرند و به این روز می‌گویند.

ب) پیش از شروع سال جدید همه‌ی مردم می‌کنند و در جشن شرکت می‌کنند.

پ) اعضای خانواده در لحظه‌ی تحویل سال می‌کنند و از خداوند می‌خواهند آنها را خوب و کند.

۲ معنی کلمات زیر را بنویسید.

الف) نخستین:

ب) کهن:

پ) در این هنگام:

ت) اعضا:

کلمات داده شده را با (ان) جمع کنید و آن‌ها را مانند نمونه بنویسید.

پرنده	+	ان	←	پرندهگان
دیده	+	ان	←	
بنده	+	ان	←	
ستاره	+	ان	←	
جوینده	+	ان	←	

واژه‌های مناسب را انتخاب کرده و در جاهای خالی بنویسید.

(الف) کسی است که به دیگران کمک می‌کند.

(ب) کسی که ظلم و ستم می‌کند نام دارد.

(پ) به کسی که کار نیک انجام می‌دهد می‌گویند.

مددکار
نیکوکار
ستم‌کار

مخالف هر کلمه را در جدول پیدا و رنگ کنید.

روز	خاموش	پیر	پایان
آباد	آغاز	خواب	خراب
جوان	بیدار	کهنه	اولین
نو	روشن	آخرین	شب

جستجوی کلمات	🎃
معنی کلمات	🎃
متضاد	🎃
مفهوم کلمات ترکیبی با «کار»	🎃
ترکیب جمع با «دان»	🎃

مفهوم احتمال روی چرخنده	🎃
حل مسئله	🎃
دسته بندی (ضرب)	🎃
طبقه بندی مواد و نگهداری آن‌ها	🎃
بازیافت	🎃

شاخص‌ها

- 🍎 خیلی خوب
- 🍌 خوب
- 🍌 قابل قبول
- 🍌 نیاز به تلاش بیشتر