

شماره‌ی

۲۲

ارمغان هفته - دوم دبستان

نام و نام خانوادگی: تاریخ: نام آموزگار:

ریاضی < فصل ۶: جمع و تفریق اعداد سه رقمی مرور فصل

علوم < درس ۱۲: برای جشن آماده شویم (۱)

فارسی < درس ۱۴: پرچم (۲)

ریاضی

$$\begin{array}{r} ۳۹۰ \\ +۱۵۶ \\ \hline \end{array}$$

۱ برای عبارت مقابل یک مسئله بنویسید.

.....
.....
.....

۲ حاصل تفریق‌های زیر را بنویسید. (به روش تکنیکی)

$$\begin{array}{r} ۴۹۱ \\ -۲۲۷ \\ \hline \end{array}$$

$$\begin{array}{r} ۵۶۴ \\ -۱۷۸ \\ \hline \end{array}$$

$$\begin{array}{r} ۶۰۰ \\ -۳۱۹ \\ \hline \end{array}$$

$$\begin{array}{r} ۳۵۱ \\ -۱۰۶ \\ \hline \end{array}$$

.....
.....
.....

۳ الگوها را ادامه دهید.

الف) ۷:۱۰ - ۷:۲۰ - ۷:۳۰ - - - -

ب) ۹:۲۰ - ۹:۲۵ - ۹:۳۰ - - - -

.....
.....

۴ حاصل هر عبارت را بنویسید.

الف) $۴۰۰ + ۲۰۰ + ۳ = \dots\dots\dots$

ب) $۱۰۰ + ۳۰۰ + ۷ + ۵۰ = \dots\dots\dots$

پ) $۳۰۰ + ۲۰ + ۲ = \dots\dots\dots$

ت) $۲۰۰ + ۱۰۰ + ۳۰ + ۲۰ = \dots\dots\dots$



الف) حسین ۴ سکه‌ی ۱۰۰ ریالی، ۶ سکه‌ی ۵۰ ریالی و ۸ سکه‌ی ۱ ریالی پول دارد. حسین چقدر پول دارد؟

ب) او می‌خواهد یک دفتر که قیمت آن ۹۸۵ ریال است بخرد. چند ریال دیگر باید از پدرش بگیرد؟

۶) حاصل تفریق و جمع‌های زیر را بنویسید. (به روش تکنیکی)

$$\begin{array}{r} 532 \\ +179 \\ \hline \end{array}$$

$$\begin{array}{r} 182 \\ -151 \\ \hline \end{array}$$

$$\begin{array}{r} 492 \\ +178 \\ \hline \end{array}$$

$$\begin{array}{r} 525 \\ +238 \\ \hline \end{array}$$

علوم

۱) درستی و نادرستی هر عبارت را مشخص کنید.

الف) آب یک ماده‌ی جامد است.

ب) اگر یخ را گرم کنیم به حالت مایع درمی‌آید.

پ) مواد جامد از خود شکلی ندارند و همه‌جا پخش می‌شوند.

ت) یخ شکل ظرف را به خود می‌گیرد.

۲) مادربزرگ درنا برای تهیه‌ی یک کیک از مواد مختلفی استفاده کرد. برچسب مواد جامد و مایع را در جای مناسب بچسبانید.

جامد

مایع

جاهای خالی را با کلمات مناسب کامل کنید.



الف) به همه‌ی چیزهایی که در اطراف خود می‌بینیم می‌گوییم.

ب) به چیزهایی که شکل معینی دارند می‌گوییم.

پ) موادّ شکل ظرف را به خود می‌گیرند.

ت) موادّ جامد مانند و هستند.

فارسی

کلمات را به معنی درست آن وصل کنید.



❖ مسی

❖ کسی که اهل سیستان است.

❖ یزدی

❖ کسی که اهل یزد است.

❖ سیستانی

❖ چیزی که از مس درست شده است.

مانند نمونه برای معانی مختلف کلمات داده شده جمله بسازید.



پدرم امروز در خانه استراحت می‌کند.

در

برای سال جدید در مدرسه را رنگ کردند.

در

بیت

بیت

سیر

سیر

متن زیر را نقطه گذاری کنید.

بدرم جواب داد: هر کدام از رنگ‌های برحم سسانه‌ی حبری است؛ برحم ایران سه رنگ دارد. رنگ سر سسانه‌ی سرسری، رنگ سفید سسانه‌ی صلح و دوسی و رنگ سرخ سسانه‌ی دفاع از منهن و آزادی است

پاسخ سؤالات را داخل دایره‌ها بنویسید.

۱- ○○○○○○

۱- معنی کلمه‌ی صلح

۲- ○○○○

۲- در پرچم رنگ نشانه‌ی آزادی و سربلندی یک کشور

۳- ○○○○○○○○

۳- شاعر شعر پرستوهای شاد

۴- ○○○○○○○○





۴- به کسی که اهل اهواز باشد






۵- ○○○○

۵- مخالف کلمه‌ی اول

۶- ○○○○○○

۶- نشانه‌ی وسط پرچم ایران

	معنی کلمات
	املا
	کلمات هم‌آوا و هم‌نویسه
	آشنایی با پرچم ایران

	ساخت مسئله
	حل مسئله
	الگویابی
	حالت‌های مختلف مواد
	تشخیص مواد جامد و مایع



-  خیلی خوب
-  خوب
-  قابل قبول
-  نیاز به تلاش بیشتر

۲ جاهای خالی را کامل کن.

الف: ۴۸ یعنی ده‌تایی و قسمت از ۱۰ قسمت مساوی.

ب: ۵۲ یعنی ده‌تایی و قسمت از ۱۰ قسمت مساوی.

پ: ۷۴ یعنی ده‌تایی و قسمت از ۱۰ قسمت مساوی.

۴ اندازه‌ی خط زیر را با توجه به شکل بنویس.

اندازه‌ی خط سانتی‌متر و قسمت از ۱۰ قسمت مساوی است.

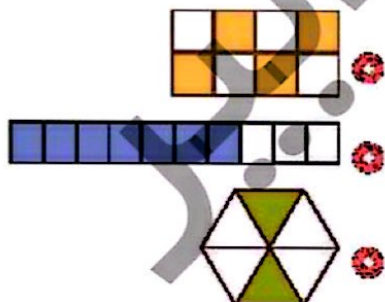


۵ الگوی زیر را ادامه بده.



تمرین

۱ هر عبارت را به شکل مرتبط با آن وصل کن.



۲ قسمت از ۶ قسمت شکل رنگ شده است.

۴ قسمت از ۸ قسمت شکل رنگ شده است.

۷ قسمت از ۱۰ قسمت شکل رنگ شده است.

۲ درستی و نادرستی هر عبارت را مشخص کن.

الف: اندازه‌ی طول مداد از ۲ سانتی‌متر بیش‌تر و از ۳ سانتی‌متر کم‌تر است.



ب: اندازه‌ی طول یک مورچه ۷ میلی‌متر است یعنی از یک سانتی‌متر کم‌تر است.

پ: همه‌ی شکل‌های زیر به قسمت‌های مساوی تقسیم شده‌اند.



ریاضی دوم دبستان



۷ تو اگر قطره بودی، دوست داشتنی به چه جاهایی میری؟

.....

.....

.....

.....

از زبان قطره، یک پیام درباره‌ی «درست مصرف کردن آب، بنویس.



.....

.....

.....

.....

۸ یک ضرب‌المثل بنویس که در آن کلمه‌ی «آب» وجود داشته باشد.

.....

ضرب‌المثل

درباره‌ی معنی آن تحقیق کن و در جای خالی بنویس.

.....