



فصل هشتم

نمودار ستونی




زواج ، فرد






۱

فرد




۲

زوج




۳

فرد




۴

زوج




۵

فرد




۶

زوج




۷

فرد



۸

زوج



۹

فرد

الگوها را ادامه دهید.

عددهای فرد: ۱, ۳, ۵, ۷, ۹, ۱۱, ۱۳, ۱۵, ۱۷, ۱۹, ۲۱, ۲۳, ۲۵

عددهای زوج: ۲, ۴, ۶, ۸, ۱۰, ۱۲, ۱۴, ۱۶, ۱۸, ۲۰, ۲۲, ۲۴

فصل هشتم



درس اول

سرشماری

پس از کامل کردن جدول زیر به سوالات پاسخ بده.

نام کلاس	تعداد افراد	چوب خطها
خوش نویسی	۱۶	### ### ###
نقاشی	۹	###
موسیقی	۱۱	### ###
زبان	۱۳	### ###
سفال گری	۱۰	### ###

الف: مجموع تعداد افرادی که در کلاس نقاشی و سفال گری شرکت کرده اند چند نفر است؟

$$10 + 9 = 19$$

۱۹ نفر

ب: بیشترین شرکت کننده ها در کدام رشته بوده است؟

خوش نویسی

پ: کمترین شرکت کننده ها در کدام رشته بوده است؟

نقاشی

نظر دانش‌آموزان یک کلاس در مورد علاقه‌ی آن‌ها به یکی از سه رنگ سبز، آبی و قرمز به صورت زیر آمده است.

جدول را کامل کن. سپس بنویس این کلاس چند دانش‌آموز دارد؟

قرمز - آبی - آبی - سبز - سبز - قرمز - آبی - قرمز - آبی - سبز - آبی - سبز - سبز -

قرمز - سبز - قرمز - آبی - آبی - قرمز - سبز - سبز - آبی - سبز - آبی - قرمز - آبی

رنگ	سرشماری (چوب خط‌ها)	تعداد
سبز	###	۹
آبی	### ###	۱۱
قرمز	###	۸

تعداد کل دانش‌آموزان کلاس: ۲۸

رنگ مورد علاقه‌ی بیش‌تر دانش‌آموزان: آبی

برنا تعداد اسکناس‌هایی را که پس‌انداز کرده است در یک جدول به صورت زیر یادداشت کرده است. برنا جمعاً چند

تومان پس‌انداز کرده است؟ (ابتدا جدول را کامل کن.)

$$۲۰۰ + ۳۰۰ + ۲۰۰ = ۷۰۰$$

۷۰۰ تومان

اسکناس	تعداد	چوب‌خطها
۵۰ تومانی	۴	////
۱۰۰ تومانی	۳	///
۲۰۰ تومانی	۱	/

→ ۲۰۰
→ ۳۰۰
→ ۲۰۰