

ارمغان هفته - دوم دبستان

شماره ی

۲۳

نام و نام خانوادگی: تاریخ: نام آموزگار:

ریاضی < فصل ۶: جمع و تفریق اعداد سه رقمی مرور فصل

علوم < درس ۱۲: برای جشن آماده شویم (۱)

فارسی < درس ۱۴: پرچم (۲)

ریاضی

$$\begin{array}{r} ۳۹۰ \\ +۱۵۶ \\ \hline \end{array}$$

۱ برای عبارت مقابل یک مسئله بنویسید.

۲ حاصل تفریق‌های زیر را بنویسید. (به روش تکنیکی)

$$\begin{array}{r} ۴۹۱ \\ -۲۲۷ \\ \hline \end{array}$$

$$\begin{array}{r} ۵۶۴ \\ -۱۷۸ \\ \hline \end{array}$$

$$\begin{array}{r} ۶۰۰ \\ -۳۱۹ \\ \hline \end{array}$$

$$\begin{array}{r} ۳۵۱ \\ -۱۰۶ \\ \hline \end{array}$$

۳ الگوها را ادامه دهید.

الف) $۷:۱۰ - ۷:۲۰ - ۷:۳۰ - \quad - \quad -$

ب) $۹:۲۰ - ۹:۲۵ - ۹:۳۰ - \quad - \quad -$

۴ حاصل هر عبارت را بنویسید.

الف) $۴۰۰ + ۲۰۰ + ۳ = \dots\dots\dots$

ب) $۱۰۰ + ۳۰۰ + ۷ + ۵۰ = \dots\dots\dots$

پ) $۳۰۰ + ۲۰ + ۲ = \dots\dots\dots$

ت) $۲۰۰ + ۱۰۰ + ۳۰ + ۲۰ = \dots\dots\dots$



۵ الف) حسین ۴ سکه‌ی ۱۰۰ ریالی، ۶ سکه‌ی ۵۰ ریالی و ۸ سکه‌ی ۱ ریالی پول دارد. حسین چقدر پول دارد؟

ب) او می‌خواهد یک دفتر که قیمت آن ۹۸۵ ریال است بخرد. چند ریال دیگر باید از پدرش بگیرد؟

۶ حاصل تفریق و جمع‌های زیر را بنویسید. (به روش تکنیکی)

$$\begin{array}{r} 532 \\ +179 \\ \hline \end{array}$$

$$\begin{array}{r} 182 \\ -151 \\ \hline \end{array}$$

$$\begin{array}{r} 492 \\ +178 \\ \hline \end{array}$$

$$\begin{array}{r} 525 \\ +238 \\ \hline \end{array}$$

علوم

۱ درستی و نادرستی هر عبارت را مشخص کنید.

الف) آب یک ماده‌ی جامد است.

ب) اگر یخ را گرم کنیم به حالت مایع درمی‌آید.

پ) مواد جامد از خود شکلی ندارند و همه‌جا پخش می‌شوند.

ت) یخ شکل ظرف را به خود می‌گیرد.

۲ مادربزرگ درنا برای تهیه‌ی کیک از مواد مختلفی استفاده کرد. برچسب مواد جامد و مایع را در جای مناسب بچسبانید.

جامد

مایع

۳ جاهای خالی را با کلمات مناسب کامل کنید.

الف) به همه چیزهایی که در اطراف خود می بینیم می گوئیم.

ب) به چیزهایی که شکل معینی دارند می گوئیم.

پ) مواد شکل ظرف را به خود می گیرند.

ت) مواد جامد مانند و هستند.

فارسی

۱ کلمات را به معنی درست آن وصل کنید.

❊ مسی

❊ کسی که اهل سیستان است.

❊ یزدی

❊ کسی که اهل یزد است.

❊ سیستانی

❊ چیزی که از مس درست شده است.

۲ مانند نمونه برای معانی مختلف کلمات داده شده جمله بسازید.

در پدرم امروز در خانه استراحت می کند.

در برای سال جدید در مدرسه را رنگ کردند.

در

در

سیر

سیر

بدرم جواب داد: هر کدام از رنگ‌های برجم سسایه‌ی حبری اسب؛ برجم ایران سه رنگ دارد. رنگ سب سسایه‌ی سرسری، رنگ سفید سسایه‌ی صلح و دوسی و رنگ سرح سسایه‌ی دفاع از مهس و آزادی اسب

پاسخ سوالات را داخل دایره‌ها بنویسید.

۱- ○○○○○○

۱- معنی کلمه‌ی صلح

۲- ○○○○

۲- در پرچم رنگ نشانه‌ی آزادی و سربلندی یک کشور

۳- ○○○○○○○○

۳- شاعر شعر پرستوهای شاد

۴- ○○○○○○

۴- به کسی که اهل اهواز باشد

۵- ○○○○

۵- مخالف کلمه‌ی اول

۶- ○○○○


۶- نشانه‌ی وسط پرچم ایران

معنی کلمات	○
املا	○
کلمات هم‌آوا و هم‌نویسه	○
آشنایی با پرچم ایران	○

ساخت مسئله	○
حل مسئله	○
الگویابی	○
حالت‌های مختلف مواد	○
تشخیص مواد جامد و مایع	○

شاخص‌ها

- خیلی خوب
- خوب
- قابل قبول
- نیاز به تلاش بیشتر



ریاضی < فصل ۷: کسر و احتمال

علوم < درس ۱۲: برای جشن آماده شویم (۲)

فارسی < درس ۱۵: نوروز (۱)

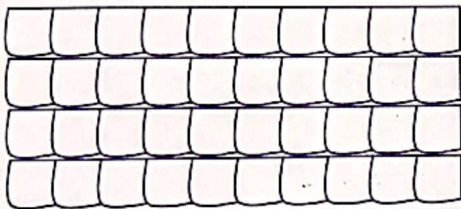
ریاضی

به تعداد عدد نوشته شده کنار هر شکل از آن رنگ کنید، سپس کسر مقدار رنگ شده از هر شکل را بنویسید.



۷ تا

الف) قسمت از ۱۰ قسمت مساوی رنگ شده است.



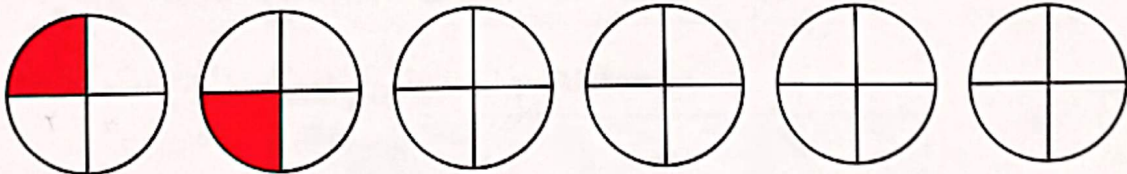
۳۴ تا

ب) ده‌تایی و قسمت از قسمت مساوی رنگ شده است.

یا قسمت از ۴۰ قسمت مساوی رنگ شده است.

الگوهای زیر را ادامه دهید.

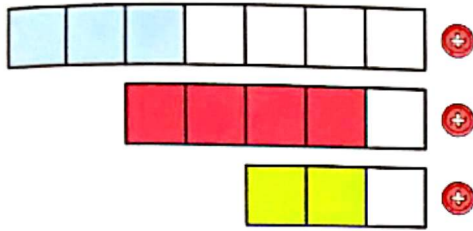
الف)



ب)



۳ کدام عبارت قسمت‌های رنگ شده‌ی شکل را بیان می‌کند؟ وصل کنید.



⊕ ۴ قسمت از ۵ قسمت مساوی

⊕ ۲ قسمت از ۳ قسمت مساوی

⊕ ۳ قسمت از ۷ قسمت مساوی

۴ با توجه به شکل جاهای خالی را کامل کنید.

اندازه خط سانتی‌متر و قسمت از ۱۰ قسمت مساوی است.



۵ یک کیک به ۸ قسمت مساوی تقسیم و سه قسمت آن خورده شد. چه کسری از کیک خورده شده است؟ (با رسم شکل)

علوم

۱ درستی و نادرستی هر عبارت را مشخص کنید.


الف) برای ذوب کردن کاکائو از سرما استفاده می‌کنیم.

ب) شکر، قند و سیب جامد هستند.


پ) مایع‌ها شکل ظرف را به خود می‌گیرند.

ت) اگر سبزی را در یک ظرف بریزیم شکل آن ظرف را به خود می‌گیرد.

۲ در کنار هر تصویر یکی از حالت‌های آب (جامد، مایع، گاز) را بنویسید.



۳ در کلاس شما کدام یک از اشیای زیر جای کمتری می‌گیرد؟



۴ جمله‌های مرتبط را به یکدیگر وصل کنید.

گرما و سرما

آب

دوغ

مهم‌ترین ماده‌ی مایع

شکل معینی ندارد

دلیل تغییر حالت مواد

۵ شباهت و تفاوت شکل‌های زیر را بنویسید.

شباهت:

تفاوت:



فارسی

۱ با حروف در هم ریخته کلمه بسازید.

ق - م - ا - س

ل - ح - و - ی - ت

د - ی - ع

و - ر - ن - و - ز

۲ دو نشانه از آمدن فصل بهار را علامت بزنید.



۳ کلمات زیر را مرتب کرده و جمله را بازنویسی کنید.

ماه‌های بهار - بهار - فصل - و - خرداد - اردیبهشت - طبیعت - شدن - زنده - فصل - است - فروردین - ، - که - هستند،

۴ به جای نقطه‌چین کلماتی بگذارید که با ترکیب دکار، کلمه‌ی جدید ساخته شود و معنی آن را بنویسید.

.....	یعنی:	←	+ کار
.....	یعنی:	←	
.....	یعنی:	←	

۵ هنگام نوروز روی سفره‌ی هفت سین چه چیزهایی می‌چینیم؟

مقایسه‌ی اجسام	مفهوم کسر	شاخص‌ها خیلی خوب خوب قابل قبول نیاز به تلاش بیشتر
ساخت کلمه	الگویابی	
مرتب کردن کلمات و ساخت جمله	ارتباط واحد اندازه‌گیری و کسر	
ساخت کلمه با دکار	تغییر حالات آب در چرخه‌ی آب	
آشنایی با نشانه‌های فصل بهار	مشخصات مواد	