

## نمودار تصویری



۱- عدد ۲۳ به ۲۰ نزدیک تر است یا ۳۰؟ **۲۰ نزدیک تر است**

عدد ۴۷ به ۴۰ نزدیک تر است یا ۵۰؟ **۵۰ نزدیک تر است**

عددهای زیر را به نزدیک ترین ده تایی به صورت تقریبی بنویسید.

۳۶ → ۴۰      ۵۲ → ۵۰      ۲۱ → ۲۰      ۱۹ → ۲۰



فعالیت

۲- در یک دبستان تعداد دانش آموزان کلاس های اول تا ششم به صورت زیر است:

کلاس	اول	دوم	سوم	چهارم	پنجم	ششم
تعداد دانش آموزان	۶۱	۴۸	۴۴	۳۹	۲۸	۳۱
تعداد تقریبی	۶۰	۵۰	۴۰	۴۰	۳۰	۳۰

ابتدا تعداد تقریبی دانش آموزان در کلاس را مانند سؤال اول بنویسید و جدول را کامل کنید.

اگر هر ۱۰ دانش آموز را با  نشان دهیم، نمودار زیر را مانند نمونه کامل کنید.



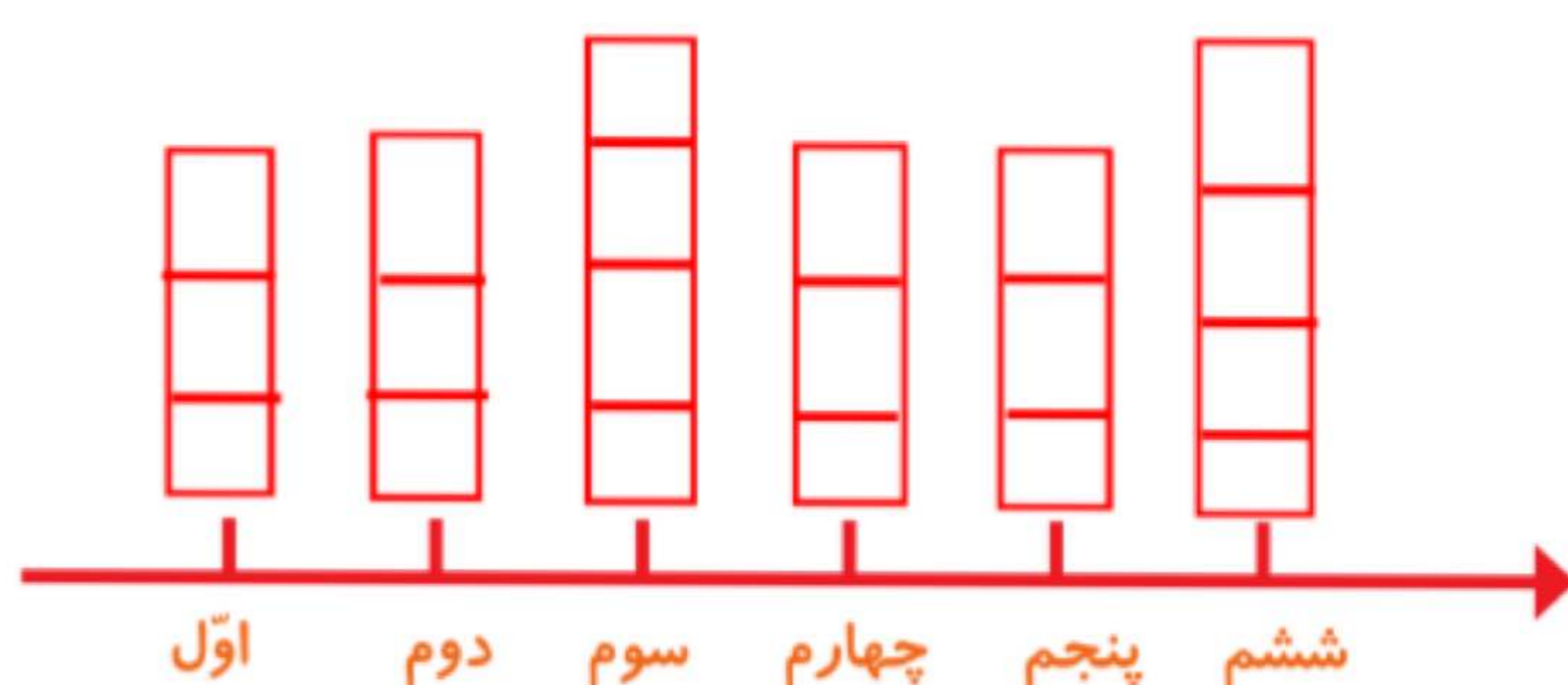


## کار در کلاس

۱- از آموزگار تعداد دانش آموزان کلاس های مدرسه ی خودتان را بپرسید و جدول را کامل کنید.  
سپس تعداد تقریبی هر کلاس را پیدا کنید.

ششم	پنجم	چهارم	سوم	دوم	اول	کلاس
۳۵	۳۰	۲۶	۳۷	۳۲	۲۷	تعداد دانش آموزان
۴۰	۳۰	۳۰	۴۰	۳۰	۳۰	تعداد تقریبی


با در نظر گرفتن یک  برای هر ۱۰ دانش آموز، نمودار را کامل کنید.







۲- تعداد خانه ها در چند خیابان در جدول زیر مشخص شده است. اگر هر ۱۰ خانه را با نشان دهیم، جدول را کامل کنید.

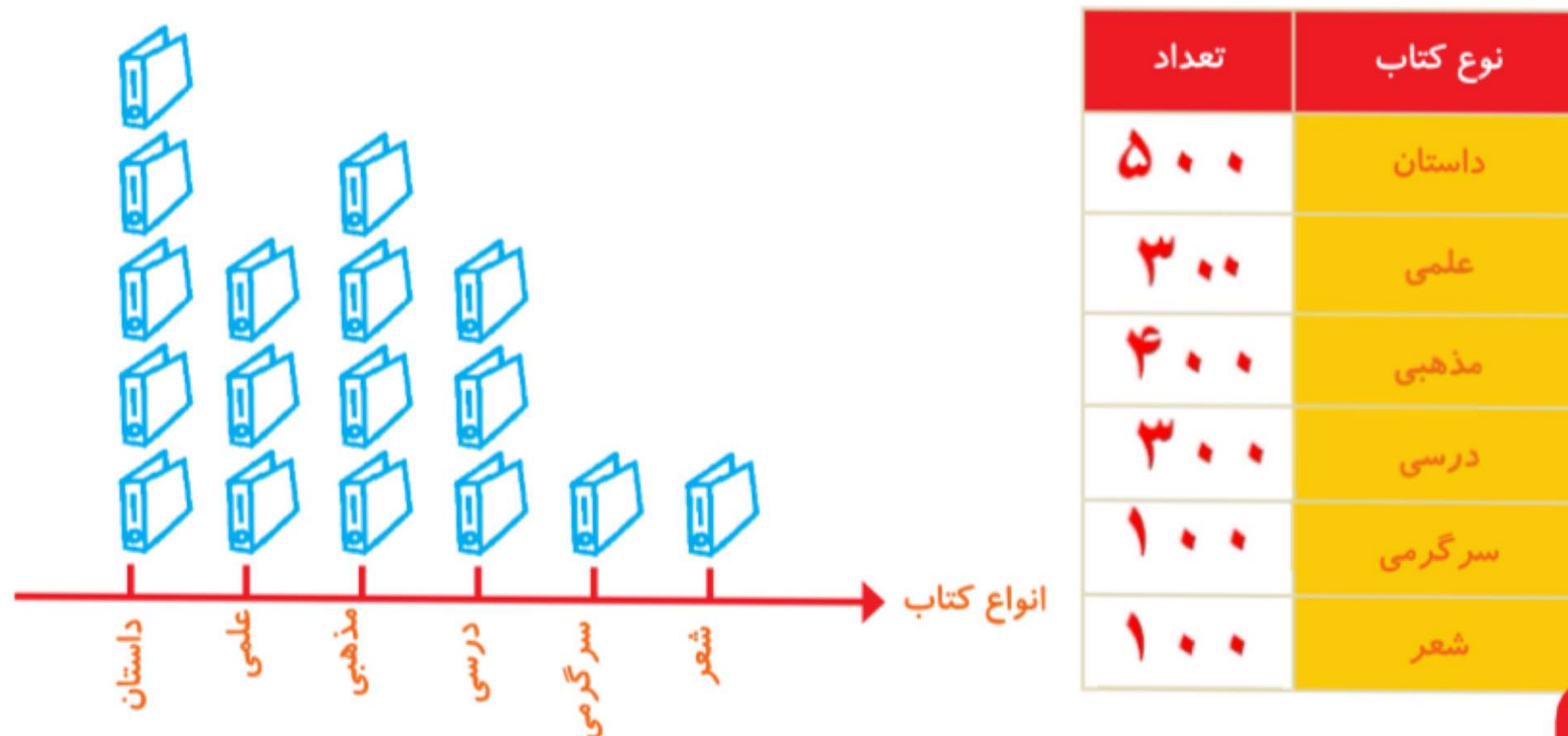
نمودار تصویری	تعداد خانه ها	نام خیابان
	۴۰	انقلاب
	۶۰	آزادی
	۵۰	استقلال
	۳۵	امام رضا



۱- تعداد درخت‌های سرو در چند خیابان شهر سروستان شمرده شده است. این عددها به صورت تقریبی نوشته شده‌اند. اگر هر ۱۰ درخت را با  نشان دهیم، جدول را کامل کنید.

نام خیابان	تعداد درخت‌ها	نمودار تصویری
سعدی	۵۰	
حافظ	۴۰	
مولوی	۶۵	

۲- تعداد کتاب‌های کتابخانه‌ی دبستان شهید فهمیده در موضوعات مختلف با عدد تقریبی در جدول زیر مشخص شده است. اگر هر ۱۰۰ کتاب را با  نشان دهیم، با توجه به نمودار جدول را کامل کنید.



کامل کن