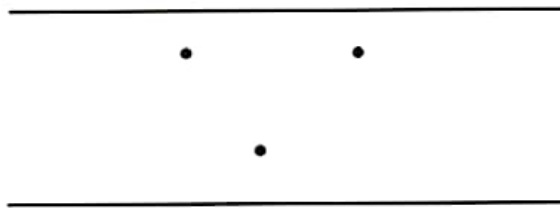




در داخل یک دریاچه‌ی مصنوعی، چند محل تفریح وجود دارد. بین تمام این محل‌های تفریح و کناره‌ی دریاچه پل زده شده است. اگر فردی بخواهد از یک طرف دریاچه به طرف دیگر برود، بدون این‌که از یک مسیر دوبار عبور کند، از چند راه مختلف می‌تواند عبور کند؟

برای حل مسئله می‌توانید به جای محل‌های تفریح، از نقطه و به جای پل‌ها از خط استفاده کنید.



کامل کن

جاهای خالی را کامل کنید.

۱	→	+۳	→ =	<input type="text"/>
۲	→		→ =	<input type="text"/>
۳	→		→ =	<input type="text"/>
۴	→		→ =	<input type="text"/>

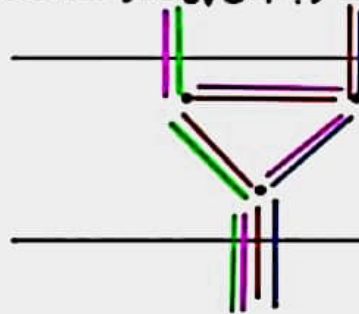
۷	→ -۳	<input type="text"/>
۹		<input type="text"/>
۵		<input type="text"/>
۸		<input type="text"/>

در بعضی از مسئله‌ها می‌توان موضوع سؤال را به یک شکل تبدیل کرد؛ تا هم بهتر بفهمیم و هم پاسخ مسئله را پیدا کنیم.



در داخل یک دریاچه‌ی مصنوعی، چند محل تفریح وجود دارد. بین تمام این محل‌های تفریح و کناره‌ی دریاچه پل زده شده است. اگر فردی بخواهد از یک طرف دریاچه به طرف دیگر برود، بدون این‌که از یک مسیر دوبار عبور کند، از چند راه مختلف می‌تواند عبور کند؟ ۴ مسیر


برای حل مسئله می‌توانید به جای جزیره‌ها، از نقطه و به جای پل‌ها از خط استفاده کنید.





والدین عزیز هر رنگ نشان دهنده‌ی یک راه است

کامل کن

جاهای خالی را کامل کنید.

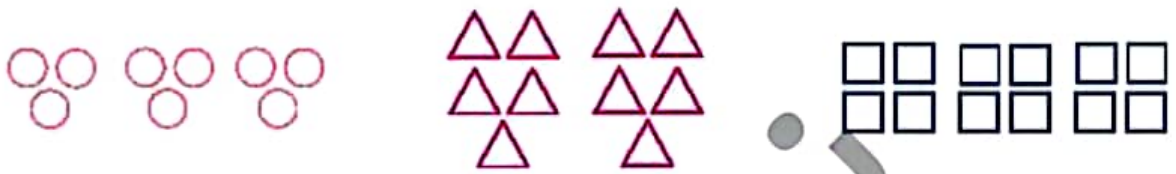


۱	→	+۴	→ =	۵
۳	→		→ =	۶
۴	→		→ =	۷
۴	→		→ =	۸

۷	 	۴
۹		۶
۵		۲
۸		۵


در بعضی از مسئله‌ها می‌توان موضوع سؤال را به یک شکل تبدیل کرد؛ تا هم بهتر بفهمیم و هم پاسخ مسئله را پیدا کنیم.

۱ با توجه به شکل‌ها، هر عبارت را به پاسخ صحیح آن وصل کن.



۲ دسته‌ی ۵ تایی می‌شود ۱۰ تا ۳ دسته‌ی ۳ تایی می‌شود ۹ تا ۳ دسته‌ی ۴ تایی می‌شود ۱۲ تا

۲ با توجه به نمودار، درستی و نادرستی هر عبارت را مشخص کن.



الف: تمام دانش‌آموزان کلاس نمرات بدی کسب کرده‌اند.

ب: بیش‌تر دانش‌آموزان نمره‌ی بسیار خوب کسب کرده‌اند.

پ: تعداد دانش‌آموزانی که بسیار خوب دریافت کرده‌اند کم‌تر از تعداد دانش‌آموزانی است که قابل قبول کسب کرده‌اند.

دانش‌آموزانی است که قابل قبول کسب کرده‌اند.

۲ با توجه به شکل‌ها، در جای خالی عدد مناسب بنویس.



الف: دسته‌ی ۳ تایی می‌شود تا.



ب: دسته‌ی ۵ تایی می‌شود تا.



پ: دسته‌ی تایی می‌شود ۱۶ تا.

۴ الف: تمام عددهای ۵۵، ۶۷، ۸۱، ۱۷ هستند، چون رقم یکان آن‌ها است.

ب: تمام عددهای ۴۶، ۲۴، ۹۲، ۸۰ هستند، چون رقم یکان آن‌ها است.



تمرین درس دوم صفحه ۱۹۱:

۱. مربع ← ۳ دسته ۴ تایی می شود ۱۲ تا

مثلث ← ۲ دسته ۵ تایی می شود ۱۰ تا

دایره ← ۳ دسته ۳ تایی می شود ۹ تا

۲. الف) نادرست (ب) درست (پ) نادرست

۳. الف) ۳ دسته ۳ تایی می شود ۹ تا

ب) ۲ دسته ۵ تایی می شود ۱۰ تا

پ) ۴ دسته ۴ تایی می شود ۱۶ تا

۴. تمام عددهای ۵۵، ۶۷، ۸۱ و ۱۷ فرد هستند چون رقم یکان آن فرد است. تمام عددهای ۴۶، ۳۴، ۹۲، ۸۰ زوج هستند چون رقم یکان آنها زوج است.

۵. الف) ۹ (ب) آبی (پ) بنفش (ت) ۱۷

رنگ	زرد	بنفش	آبی	قرمز
تعداد	۵	۲	۷	۳
چوب خط				

