



موضوع:

تاریخ:

نام و نام خانوادگی:

هدف:

الگویابی کن

الگوهای عدد را ادامه دهید.

۱۲۴, ۱۲۶, ۱۲۸, ۱۳۰, ۱۳۲, ۱۳۴, ۱۳۶, ۱۳۸, ۱۴۰, ۱۴۲, ۱۴۴, ۱۴۶

۱۲۱, ۱۲۳, ۱۲۵, ۱۲۷, ۱۲۹, ۱۳۱, ۱۳۳, ۱۳۵, ۱۳۷, ۱۳۹, ۱۴۱


تمام عددهای الگوی اول زوج هستند. عددهای زوج چه ویژگی‌هایی دارند؟

یکان آن‌ها ۰-۲-۴-۶-۸ است.

تمام عددهای الگوی دوم فرد هستند. عددهای فرد چه ویژگی‌هایی دارند؟

یکان آن‌ها ۱-۳-۵-۷-۹ است.

۱۴۰





موضوع:

تاریخ:


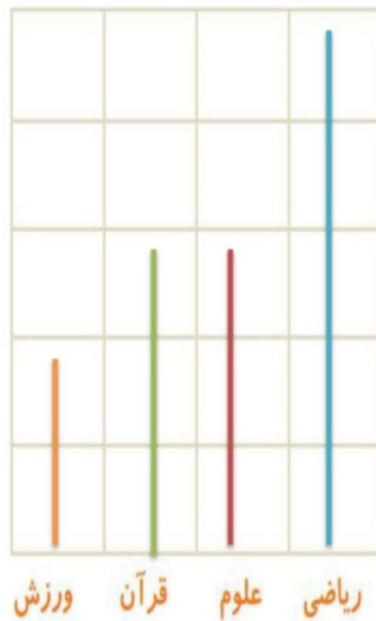
نام و نام خانوادگی:

هدف:

۱- در برنامه‌ی هفتگی یک مدرسه در یک هفته دانش‌آموزان ۵ ساعت ریاضی، ۳ ساعت علوم، ۳ ساعت قرآن و ۲ ساعت ورزش داشتند. شکل را با توجه به جدول رنگ، کامل کنید.



رنگ	درس
	ریاضی
	علوم
	قرآن
	ورزش





موضوع:

تاریخ:

نام و نام خانوادگی:

هدف:

۲- نمودار کارهای روزانه‌ی فاطمه (دانش‌آموز دبستان) و نمودار کارهای روزانه‌ی علی (دانش‌آموز دبیرستان) به صورت زیر رسم شده است. با توجه به آن به سؤال‌ها جواب دهید.

کدام یک بیشتر درس می‌خواند؟ **علی**

چه شخصی بیشتر در مدرسه است؟ **علی**

چه شخصی بیشتر تلویزیون می‌بیند؟ **فاطمه**

مجموع مدرسه رفتن و درس خواندن چه کسی بیشتر است؟ دلیل آن را بنویسید.

**علی** - زیرا علی دانش‌آموز دبیرستان است.



توضیح دهید که جدول و نمودارها چه کمکی به بهتر فهمیدن مسئله می کنند.

با کمک جدول ها و نمودارها می توانیم اطلاعات را  
نظم دهیم

و با کمک نمودار می توانیم اطلاعاتمان را با هم  
مقایسه کنیم.





— کدام رنگ را دانش آموزان این کلاس بیشتر از همه دوست دارند؟ **آبی**

— کدام رنگ را دانش آموزان این کلاس کمتر از همه دوست دارند؟ **زرد**

— اگر قرار باشد برای دانش آموزان این کلاس لباس ورزشی تهیه شود، بهتر است چه رنگی انتخاب شود؟ چرا؟

**آبی — چون تعداد دانش آموزانی که این رنگ را دوست دارند بیشتر است.**

— این کلاس چند دانش آموز دارد؟ **۲۶ نفر**